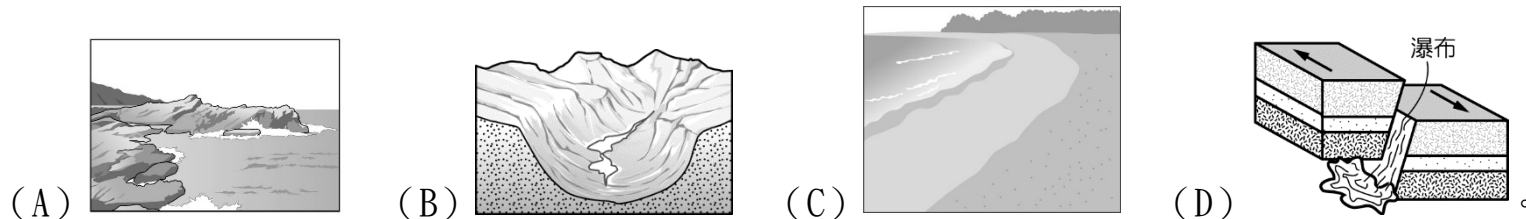


新北市立板橋國中 111 學年度第 1 學期第 1 次九年級段考社會領域（地理科）試題卷

◎漫威影星休傑克曼與世界展望會合作，至衣索比亞拍攝有關公平貿易咖啡的相關短片。他自發性地和朋友合作，推出了「Laughing Man」品牌，休傑克曼自掏腰包提供 50% 的資本，並將販售所得全部捐給微笑人基金會。基金會的公益服務項目眾多，包含在衣索比亞當地建設灌溉系統，將更多的水源引導至咖啡栽種的區域；給予學生獎助學金讓他們順利上大學、支付住家修繕。最關鍵的是 Laughing Man 會集合眾多小農們的產品，集中統一行銷販售，銷售所得都會運用於回饋農民，形成最良性的循環。不僅如此，Laughing Man 的 100% 利潤還用於發展中國家的教育、社區發展和新業務開發項目。(遠見，<https://www.gvm.com.tw/article/44892>，2018-06-28，20220517 瀏覽)

1. 休傑克曼在衣索比亞拍攝期間，最可能見到下列哪一種地形？



2. 承上題，「Laughing Man」品牌咖啡豆包裝上，最可能出現下列哪一種標章？



3. 圖一是工作人員嘉鐸根據衣索比亞當地的氣象資料所繪製的氣候圖，關於當地環境的推測，下列敘述何者錯誤？

- (A) 降雨季節乾溼分明，夏季是主要的雨季  
(B) 年均溫終年低於  $18^{\circ}\text{C}$ ，全年低溫，屬於寒帶氣候  
(C) 最暖月均溫小於  $20^{\circ}\text{C}$ ，表示當地地勢較高  
(D) 年溫差不大，可以推測當地位於低緯度地區。

4. 嘉鐸查到衣索比亞咖啡的歷史，「……據說咖啡最原始的原產地位於衣索比亞西南部的 Kaffa。當地人很早就喜歡吃名為「布諾」的野生咖啡樹果實。換言之，咖啡豆早期是衣索比亞人民的「蔬菜」。大約 1000 年前，征服非洲東海岸的❶人發現衣索比亞有種樹長了新奇的果實，這些果實就是我們後來說的「咖啡豆」。從這段歷史可以推測，在圖二中，有 1/3 衣索比亞人民信仰的「甲」宗教，極有可能是下列哪一種宗教？而征服非洲東岸的❷最有可能是哪一種人？

- (A) 道教、中國人 (B) 印度教、印度人 (C) 伊斯蘭教、阿拉伯人 (D) 基督教、西班牙人。

5. 嘉鐸深入調查後發現，衣索比亞是擁有 3000 年歷史的文明古國，曾建立聞名於世的阿克蘇姆王朝，公元 1 世紀，一位古希臘商人寫的《紅海環航記》裡首次提到它：「王朝利用河運成為內陸貿易的集散地，來自義大利、埃及、拜占廷、印度的鐵器、棉布、酒和裝飾品，源源運入，運出的是黃金、象牙、香料、犀角和玳瑁。阿克蘇姆人民修建梯田和灌溉工程，種植小麥、葡萄、或放牧牛羊，馴獵野象。」文中提到的河運，應該是指哪一條河川的水運？

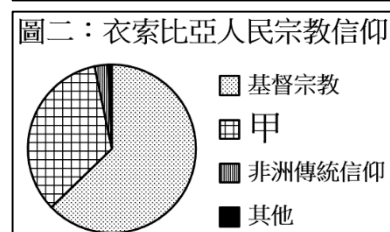
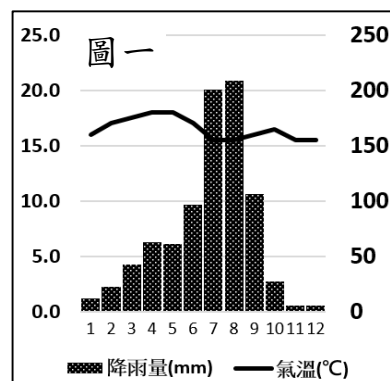
- (A) 尼羅河 (B) 尼日河 (C) 剛果河 (D) 蘇伊士運河。

6. 承上題，根據《紅海環航記》所述，下列哪一種不是過去衣索比亞地區的傳統產業活動？

- (A) 畜牧 (B) 游耕 (C) 狩獵 (D) 綠洲農業。

7. 嘉鐸利用休假日參訪了衣索比亞西南部，當地的孔索族人以建造瓦加(waga)聞名，瓦加是為曾經殺死敵人或是像獅、豹這類動物的死者所豎立的一種紀念像。這些格式化的木雕成群排列，代表死者、他的妻子和被他征服的敵人。孔索族人長久以來都沿襲著古老的生活方式，是千百年來固守傳統生活的典範。它特有的文化景觀在 2011 年評為世界文化遺產。從孔索族人的文化與非洲的歷史背景，可以推論出哪一項事實？

- (A) 孔索族人相信萬物有靈，是一神信仰的信徒 (B) 孔索文化因殖民者的傳播而為世人所知  
(C) 孔索族人杜絕偶像崇拜，只相信自己 (D) 孔索文化顯然受歐洲殖民者的英雄主義影響。



背面尚有題目，請細心作答！



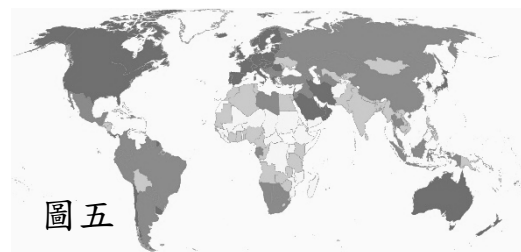
8. 工作人員之一的昱緯前往象牙海岸探勘，找尋「Laughing Man」品牌咖啡豆的另一個潛在產地，發現象牙海岸當地的傳統農作方式，人類與土地的關係如圖三所示，此種生產方式會產生下列哪一種特色？



- (A) 選種自給性糧食作物 (B) 長期生態易失衡  
(C) 用歐洲人的管理方式生產 (D) 作物商品化。
9. 昱緯發現傳音控股 (Transsion Holdings) 品牌的智慧型手機已然稱霸非洲，該品牌相較於其他主流手機品牌更願意在低階手機上搭載大容量電池，並專門為黑人膚色設計美肌演算法，產生較好的成像效果。見微知著，可知非洲在未來經濟的發展上，哪一個項度有很大的進步空間？  
(A) 礦產資源 (B) 勞工素質 (C) 電力設施 (D) 醫療資源。
10. 新冠肺炎疫苗問世 1 年多來，全球許多國家的接種率超過 7 成，而非洲 13 億人口僅有 17% 完整接種。非洲民眾普遍認為，與瘧疾等更致命的疾病或是衝擊全民的通膨相比，新冠肺炎並不算是重大威脅。前往接種疫苗的昱緯發現：非洲現在疫苗供過於求，接種站空無一人，數百萬劑疫苗乏人問津。昱緯依照新冠疫情在各國的狀況，做出以下幾種猜測，哪一項猜測最為可能是原因？  
(A) 非洲人民長期面對各種疾病，因而百毒不侵 (B) 無國界醫生在非洲提供足夠的醫療服務  
(C) 非洲人口稀少，新冠肺炎傳播率低 (D) 非洲人口平均壽命低，新冠重症或死亡率偏低。
11. 昱緯發現這裡大多數人的生活水品依舊保持在國際貧困線以下。貧窮讓這裡成千上萬的孩子成為免費的勞動力，他們從事高危辛苦的勞作，但下列哪一種童工的勞動行為不會在象牙海岸出現？  
(A) 搬運可可豆 (B) 榨壓棕櫚油 (C) 採收棉花 (D) 收割橡膠。
12. 昱緯推測農民雇用童工的原因，應如圖四邏輯所示，關於甲、乙、丙、丁的說明，何者正確？  
(A) 甲：本地農民獲利空間受到壓縮  
(B) 乙：殖民母國帶來熱帶栽培業與礦業  
(C) 丙：原料價格控制在資本家手中  
(D) 丁：不公平的貿易制度出現。



13. 昱緯漫步在象牙海岸的海邊，昱緯對此處的觀察描述可能有：(甲) 洋流由西向東流經幾內亞灣整個北部沿岸；(乙) 尼日河注入，使幾內亞灣沿岸多淺灘、瀉湖；(丙) 沿岸隨處可見非洲棕櫚、撒哈拉橄欖樹、仙人掌等沙漠植物；(丁) 沿岸附近和近海海域可見石油開採。下列哪一項敘述最為正確？ (A) 甲乙丙 (B) 甲乙丁 (C) 甲丙丁 (D) 乙丙丁。
14. 圖五是世界各國平均國民所得的示意圖，顏色愈深代表該項資料的數據愈多。昱緯的好友奕廷在南非共和國工作，算是中高所得(3996~12375 美金)的地區，南非共和國能成為非洲相對高所得的地區，主要與下列哪一項原因最為相關？  
(A) 從未被列強殖民，一向採行獨立自主的貿易政策  
(B) 人口以白人為主，教育程度高，勞動力素質極佳  
(C) 以橡膠、香蕉等熱帶栽培業作物獨佔全球市場  
(D) 礦產資源豐富，黃金、鑽石等產量居世界主要地位。



15. 承上題，奕廷發現南非為了發展經濟，付出的代價可能有：  
(甲) 河川重金屬汙染嚴重，影響生活、農業用水；(乙) 開墾雨林，造成土壤流失與侵蝕；  
(丙) 礦山廢棄物產生的粉塵，影響人民健康；(丁) 仰賴單一產品的收入，經濟不穩定而動盪。  
下列哪一項敘述最為正確？ (A) 甲乙 (B) 甲丙 (C) 乙丙 (D) 乙丁。
16. 奕廷利用前往南非西南的好望角旅遊，順便至附近最大城鎮開普敦購買當地特產做為伴手禮致贈親友，下列哪一項最可能是奕廷帶給親友的伴手禮？

- (A) 白葡萄酒 (B) 匹美人手工藝品  
(C) 天然椰棗乾 (D) 珊瑚擺件。
17. 奕廷想在非洲進行投資，做了右表的 SOWT 分析，考慮非洲的歷史背景，表中的■應為下列何處？  
(A) 大洋洲 (B) 歐洲  
(C) 中國 (D) 阿拉伯。

優勢 (S)	在農業、輕工業與民生工業領域，台商以在地化與公益角色參與，有助市場認同
機會 (O)	市場廣大；優惠政策；基礎建設漸改善；以非洲作為進入■市場之平台，具商機與誘因
弱點 (W)	台商多為中小企業，規模有限，而非洲中低檔商品市場競爭激烈，市場空間有限
威脅 (T)	來自中國的外交侷限；欠缺非洲政府奧援；在政經局勢與法制、治安、衛生條件不佳

**地理科試題結束！**

解答：1～10 DABCA BBACD 11～15 CDBDB AB