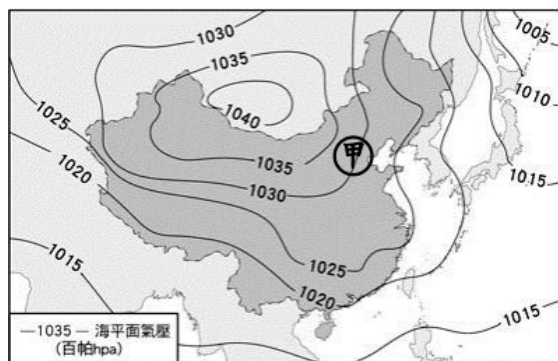


新北市立板橋國中 111 學年度第 1 學期第 1 次八年級社會領域（地理科）試題卷

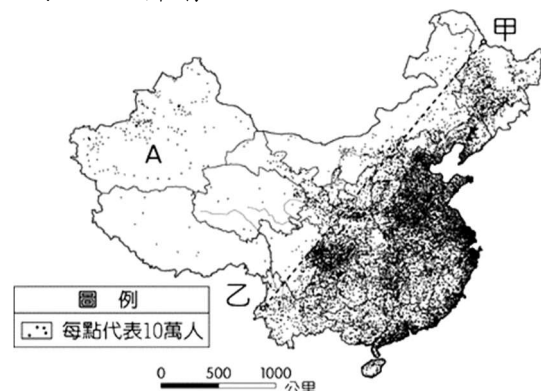
- 中國詩詞中「大江東去，浪淘盡，千古風流人物」、「問君能有幾多愁，恰似一江春水向東流」。上述詩詞中的「大江東去」和「春水東流」的現象，與下列哪項因素關係最密切？
(A)地勢西高東低 (B)氣候西乾東溼 (C)氣候北冷南熱 (D)山脈呈東—西走向。
- 中國大陸地區的疆域面積相當廣大，因此各地區的氣候類型亦不相同。根據各種氣候特色加以分類，主要形成季風、乾燥、高地等三種氣候類型。請問：其主要分類條件中，「未」包括下列何者？
(A) 降水多寡 (B) 氣溫高低 (C) 面積大小 (D) 地形高度。
- 中國位於最大的季風氣候區，沿海地區受季風影響甚廣，請問：圖(一)甲地冬、夏季風風向最可能為何？(A) 冬：↑，夏：↓ (B) 冬：↙，夏：↗ (C) 冬：↘，夏：↖ (D) 冬：↓，夏：↑
- 氣候特徵深深影響著居民的生活方式，請根據圖(一)的『甲氣候區』內「同樣的一月，卻有著不同的體驗，北京涮羊肉還熱呼得很，而海南三亞卻大啖著冰棍的滋味。」，形成此一氣候差異的主要原因為何？(A) 地勢高低 (B) 季風風向 (C) 距海遠近 (D) 緯度差異。
- 承上題，若由圖(二)中『甲區』移動到『丙區』，會發現哪項地理事實？
(A) 年溫差越來越大 (B) 雨量越來越多 (C) 水稻田越來越多 (D) 性別比逐漸增大。



圖(一)

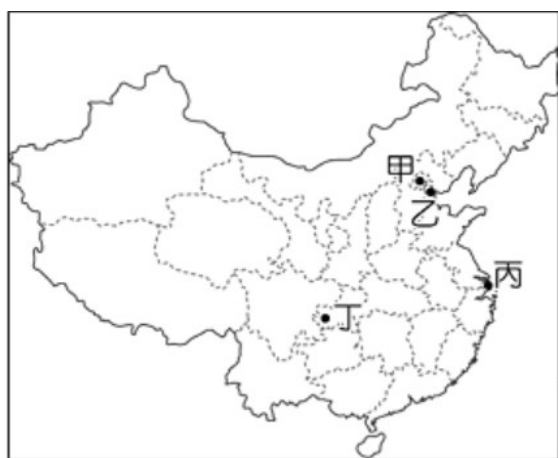


圖(二)

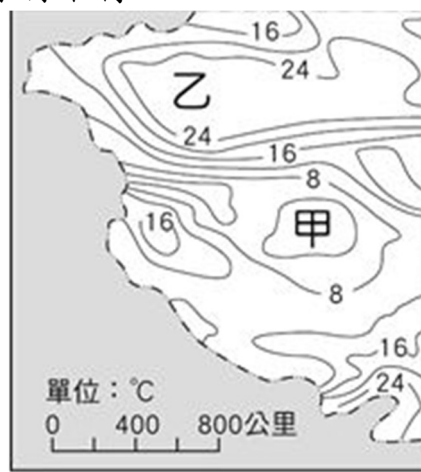


圖(三)

- 根據圖(三)中國人口分布以甲乙連線分成東和西兩區。有關連線以東地區的地理特色，不包括下列那一項？(A) 地形以平原、丘陵為主 (B) 人口密度較高 (C) 環境負載力較低 (D) 氣候較為溼潤。
- 承上題，圖(三)『A』地區聚落的形成，主要與下列哪一因素有關？
(A) 氣溫高低 (B) 對外港口 (C) 地形起伏 (D) 水源取得。



圖(四)



圖(五)

- 「京滬高鐵，連接北京到上海，距離 1318 公里，比台灣環島一周還長，時速 350 公里，行車時間縮短只要四個半小時，問鼎世界最快。」上文中的京滬高鐵是串連圖(四)中的哪二個城市？
(A) 甲、丁 (B) 甲、丙 (C) 乙、丙 (D) 丙、丁
- 《西遊記》為中國著名的古典小說，圖(五)是中國西半部夏季的等溫線分布圖，圖中『乙』地就是小說中孫悟空大戰牛魔王的火焰山，老師結婚後的蜜月決定到『乙』地旅行，一路上導遊殷勤的解說著當地的特色。請問：在導遊的解說中，下列何者完全正確？
(A) 當地的傳統交通工具是駱駝
(B) 此地因距海遙遠，冬季季風不易到達，水源缺乏
(C) 此區的人口集中在河谷地區
(D) 這裡有句俗諺「一山有四季，一日見四季」，形容當地年溫差小、日溫差大。

《背面尚有試題，請繼續作答。》

10. 中國研究人員針對 1980 年代以後出生的中國年輕人，發表了調查報告，並給他們取了一個名字—「蟻族」。他們聚居在中國最富裕的城市邊緣，平均居住面積不及 10 平方公尺，每天擠一兩個小時的公車上班，咬緊牙關堅持著大城市的夢，就像一群螞蟻雄兵一樣。根據這份報告推斷，下列何地附近最能觀察到這種蟻族的生活形態？
 (A) 青藏高原 (B) 內蒙古高原 (C) 塔里木盆地 (D) 珠江三角洲
11. 「中國人製造什麼東西，什麼東西就變便宜；中國人買什麼東西，什麼東西就變貴。」這段話在說明了中國人口的哪些優點呢？(A) 死亡率低、就業率高 (B) 人力充足、人口素質高 (C) 勞力眾多、消費市場廣大 (D) 扶養比偏低、性別比均衡。
12. 今日東南亞各地仍留存著早期華人移民的聚居地，包括新加坡、馬來西亞、泰國、印尼等國境內幾乎都可以看見華人聚集的 Chinatown，若由這些海外華人的生活方式與語言判斷，這些華人的祖先最有可能來自於中國何地區？(A) 內陸沙漠 (B) 沿海丘陵 (C) 寒冷高山 (D) 北方草原。
13. 昔日某中國知名節目，是由五位明星父親與自己的子女一起過夜旅行。在活動剛開始時，孩子們常因為不習慣與他人分享，常發生小衝突。在中國常有因平時受到父母細心照顧，卻因此恃寵而驕的兒童，被戲稱為「小皇帝」，這種小皇帝的出現，主要是因為中國一胎化政策所帶來的問題。請問：下列何者可能是小皇帝未來要面對的人口問題？
 (A) 自然增加率上升 (B) 性別比愈來愈小 (C) 教育資源變少 (D) 扶養比增加。
14. 與河川相接連的湖泊，可調節河川水量，具有蓄洪功能。下列哪個圖最能代表中國東半部湖泊水量與季節的關係？



(A)



(B)

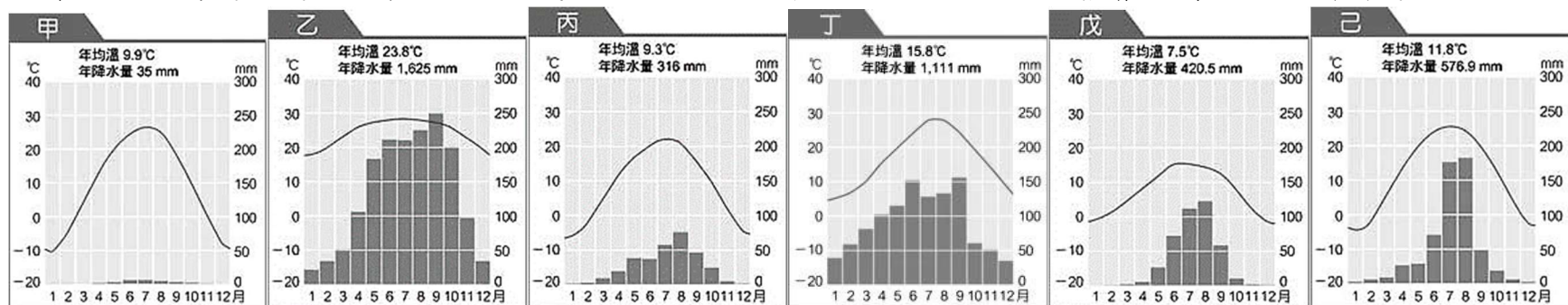


(C)



(D)

※第 15-17 為題組題：人們的生活方式與空間深受到該地氣溫與雨量的影響，請回答下列問題：



15. 根據氣溫雨量圖，下列哪位人物最有可能為『戊』地居民？
 (A) 德華：「我每天都騎著紅心馬，奔馳在大草原上。」
 (B) 富城：「這是離天最近的地方，可充分享受日照。」
 (C) 黎明：「時常都下著雨的光景，我能在騎樓躲雨。」
 (D) 學友：「厚牆小窗的房屋可擋風沙，否則身體都是沙。」
16. 中國游牧民族向來重視牲畜的飼養，為了適應逐水草而居的畜牧生活，而發展出圖(六)的居住方式，請依環境特徵判斷，此種建築最有可能出現在上述的哪些氣候圖中？
 (A) 甲丙 (B) 乙丁 (C) 丙丁 (D) 丁己。



圖(六)

17. 小丸子一行人的畢業旅行來到了『己』區，晚上一起利用當地食材烹煮晚餐。睡前回顧今天的行程，紛紛發表自己的看法，請問誰的看法最為正確？
 (A) 小玉：「他們的晚餐應該是吃肉或者乳製品吧。」
 (B) 丸尾：「俗話說南船北馬，這裡就是以馬為交通工具。」
 (C) 美環：「看這裡的景觀，應該是屬於溫帶草原氣候。」
 (D) 花輪：「這裡冬天會下雪是因為距海太遙遠了。」

《地理科試題結束》

新北市立板橋國中 111 學年度第 1 學期第 1 次八年級社會領域（地理科）試題答案

1	2	3	4	5	6	7	8	9	10
A	C	C	D	A	C	D	B	A	D
11	12	13	14	15	16	17			
C	B	D	C	B	A	B			

1-5 ACCDA

6-10 CDBAD

11-15 CBDCB

16-17 AB