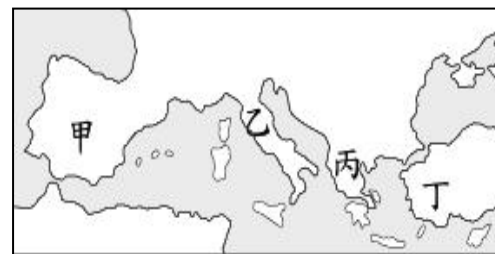
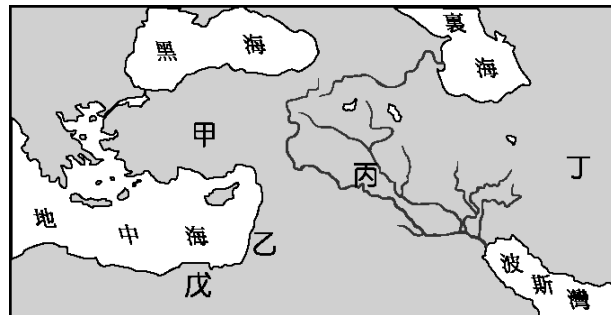


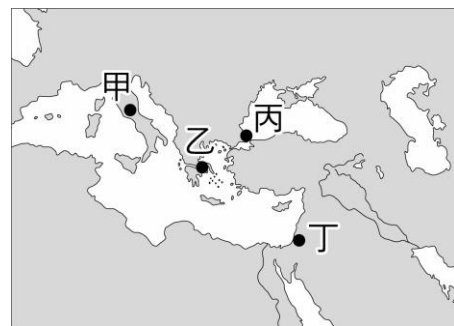
新北市立板橋國中 111年度第一學期第一次段考九年級社會領域(歷史科)試題卷

18. () 電影《埃及王子》敘述西元前 13 世紀摩西率領被奴役的族人離開埃及，回到他們的原居地「巴勒斯坦」，請問：關於摩西及其所屬的民族，下列哪一項不正確？ (A)此民族是希伯來人 (B)創立一神信仰的猶太教 (C)認為上帝耶和華是唯一真神，自己是上帝的選民 (D)影響後來的基督教與印度教。
19. () 品昀參觀故宮博物院舉辦的《古埃及文物展》，下列哪些物品會出現在展覽會場上？ (甲)刻有楔型文字的石柱 (乙)木乃伊 (丙)死後審判圖 (丁)漢摩拉比法典 (戊)法老王的黃金面具。 (A)乙丙戊 (B)甲丙戊 (C)甲乙戊 (D)甲乙丙。
20. () 西亞位於歐、亞、非三洲的接觸帶，雖然氣候乾燥，地理環境條件不佳，但在千年之前就蘊育出古老文明，其文化仍深深影響著現今人類社會。附圖為古代西亞形勢圖，請問：下列哪一古文明的遺產，源於圖中丙區？ (A)六十進位法 (B)金字塔 (C)象形文字 (D)猶太教。
21. () 祆教相信宇宙存在著善惡兩股勢力互相對峙，善神終將戰勝惡神，因此崇拜光明及火。祆教發源地的信仰中心亞茲德，有座最古老的寺廟，廟裡供奉著聖火，據說燃燒有千年不滅，想要參觀這間古老的寺廟，應該要到圖中哪一區？ (A)甲 (B)乙 (C)丙 (D)丁。
22. () 下列關於希臘歷史的敘述，何者不正確？ (A)斯巴達城邦規定男性從小就要接受嚴格的軍事訓練，擔任保衛城邦的工作，因此戰鬥實力堅強 (B)雅典由成年男性組成元老院議決城邦大事，官員經由抽籤產生，被認為是民主制度的源頭 (C)想了解希臘神話及特洛伊戰爭木馬屠城記的故事可參考荷馬寫的史詩 (D)陶片放逐法是雅典透過投票決定將危害城邦的人逐出城邦。
23. () 老師介紹某位歷史人物：「……他是西方的「歷史學之父」，其作品《歷史》描述的是波希戰爭。他以新的觀點處理人種學、地理學和神話學等資料，對歷史學的貢獻甚巨。……」請問：老師所介紹的應是下列何人？ (A)亞里斯多德 (B)阿基米德 (C)希羅多德 (D)歐幾里德。
24. () 古代奧林匹克運動會在西元前 776 年首次舉辦，它是宗教慶典的一部分，被當成給眾神之神宙斯的獻禮。古代奧運只准男性參加，一開始只有賽跑，後來陸續納入拳擊、鐵餅、馬術、標槍、跳遠、角力以及五項全能，冠軍獎品是一頂橄欖枝編成的桂冠。請問：當時這個運動會舉辦的地點，應該是在附圖中的何處？ (A)甲 (B)乙 (C)丙 (D)丁。
25. () 海綿寶寶到埃及旅遊，除了參觀著名的金字塔及獅身人面像之外，也看到具有古希臘風格的神殿遺跡，這種風格的神殿建築會出現在埃及，與下列何者的關係最為密切？ (A)波斯帝國擴張 (B)亞歷山大東征 (C)羅馬向外發展的結果 (D)義大利文藝復興。
26. () 「馬拉松」的典故是為了紀念西元前 490 年希臘士兵菲迪皮德斯從馬拉松平原跑回雅典報告戰爭的捷報，卻不幸精疲力竭而死。關於這場戰爭及所擊敗的侵略者，下列敘述何者錯誤？ (A)這場戰爭是波希戰爭 (B)侵略者起源的地區是阿拉伯半島 (C)侵略者建立了歷史上第一個橫跨歐亞非的大帝國 (D)最後被亞歷山大征服而滅亡。
27. () 中西歷史上雖不乏雄才大略的君主，但若能在開疆拓土之餘，亦重視統治區域內民族的融合，對社會平和及文化交流有所貢獻，誠屬不易。請問：亞歷山大推動文化融合的措施，如鼓勵民族通婚等方式，與中國歷史上哪一位君主的政策有相似之處？ (A)秦始皇 (B)漢武帝 (C)北魏孝文帝 (D)唐太宗。
28. () 小叮噹參加旅行團出國旅遊，到了某個地區時，導遊說：「羅馬人在這裡留下許多遺跡，有引水的管道、競技場，各種神廟建築。」請問：小叮噹不可能在哪個地方裡看到這些遺跡？ (A)西班牙西南部 (B)法國南部 (C)英國中部 (D)阿拉伯半島南部。
29. () 大雄穿梭時光隧道來到了古羅馬，他會看見當地的人民有下列哪些生活經驗？ (甲)閱讀政府公告的《查士丁尼法典》 (乙)看見許多男性公民趕赴廣場參與公共事務的討論，並用抽籤方式產生官員 (丙)大家趕赴競技場去觀看決鬥比賽 (丁)和朋友約好到公共浴池消磨時間。 (A)丙丁 (B)甲乙 (C)甲丙 (D)甲丁。
30. () 歐幾里德在亞歷山大港教書並度過一生，致力於科學的研究，其著作被認為是史上最成功的教科書。請問：關於歐幾里德的生平與影響，下列何者錯誤？ (A)生活在希臘化時期 (B)被後世尊為「奧古斯都」 (C)明末來華傳教士利瑪竇曾與徐光啟將他的著作翻譯成中文 (D)著有《幾何原本》，至今仍為幾何學的權威作品。
31. () 中國歷史上的漢朝與西方的羅馬帝國都是強盛的時代，各自有不同的歷史文化成就。請問下列關於這兩個帝國的敘述何者正確？ (A)西漢時絲路開通，成為中西往來的交通路線，從洛陽城出發，終點是史書上稱為大秦的羅馬帝國 (B)羅馬在帝國時期不斷向外擴張，版圖才橫跨歐亞非三洲 (C)凱撒集大權於一身，開啟了羅馬的帝國時代 (D)羅馬共和時期頒布「十二表法」使公民權利獲得保障，是羅馬最早的成文法。



32. () (甲)教堂修建於西元六世紀，為君士坦丁在位時興建 (乙)教堂外部的圓頂及內部絢麗的鑲嵌壁畫是當時最具代表性的建築 (丙)地點位於今日的土耳其的伊斯坦堡 (丁)見證了東羅馬帝國與鄂圖曼土耳其兩大帝國的興盛。關於聖索菲亞大教堂的歷史，哪一個敘述不正確? (A)甲 (B)乙 (C)丙 (D)丁。

33. () 《伊斯坦堡——一座城市的記憶》為土耳其作家奧罕·帕慕克獲得西元 2006 年諾貝爾文學獎的名著，帕慕克以細膩的筆觸描寫這座曾經輝煌而今澹然，走過悠悠一千多年歲月的土耳其城市。請問：若想去這個曾是東羅馬首都的古城，應到圖中的何處? (A)甲 (B)乙 (C)丙 (D)丁。



34. () 西元 122 年，為抵禦北方民族攻擊，羅馬皇帝哈德良下令在羅馬最北方邊界修建一道長達上百公里、貫穿不到顛島的城牆，這道牆因此被稱為「哈德良長城」。因為該長城有將近 $\frac{2}{3}$ 的牆體以石頭砌成，即使有的地段僅剩下基石和壕溝，但它仍能夠留存至今。羅馬一直維持派遣軍隊駐紮在城牆的關鍵地點，直到 4 世紀末才撤軍。之後，北方民族便突破長城、大舉南侵，長城南方地區從此陷入長期戰亂之中。

請依據本文敘述及課本中所學的內容判斷，下列敘述何者不正確? (A)哈德良長城應位於今日的英國 (B)根據本文推斷哈德良長城應建於羅馬帝國時期 (C)古羅馬留下許多遺跡，建築技術精良，是因為吸收希臘文化的科學知識應用在公共建築上 (D)文中的北方民族是指日耳曼民族。

18-20 DAA
21-25 DBCCB
26-30 BCDAB
31-34 DACC