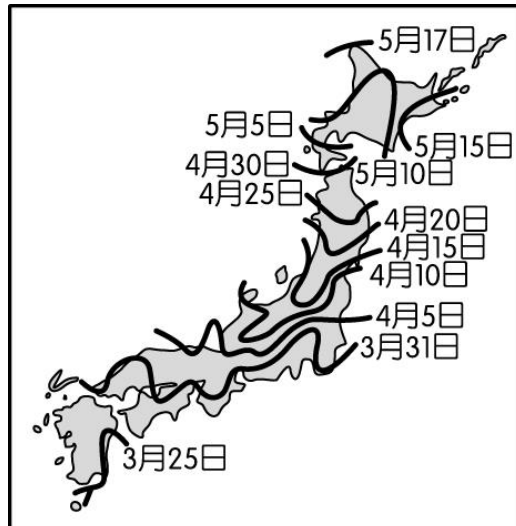


新北市立板橋國中 111 學年度第 1 學期第 3 次八年級段考社會領域（地理科）試題卷

- 2011 年 3 月 11 日，日本當地時間下午 2 點 46 分(臺灣時間下午 1 點 46 分)，發生日本自有地震儀紀錄以來，史上規模最大的地震——東北 311 大震。圖【一】中的★為 311 地震震央的位置圖，由於當時震央位在太平洋海底，還引起巨大的海嘯，除了造成重大經濟損失外，根據統計在震災中相關的罹難人數以及行蹤不明突破 1 萬人。請問上述現象與日本哪一條件最相關？(A) 位於溫帶季風氣候區 (B) 位於海陸交界位置 (C) 回歸線通過位置 (D) 位於板塊接觸帶。
- 承上題，依照圖【一】中 311 震央的位置可以判斷，若震央所在地附近核電廠輻射外洩汙染海洋，受影響最大的兩個島為？(A) 九州、本州 (B) 四國、九州 (C) 北海道、九州 (D) 北海道、本州。
- 311 災後數天，大雪侵襲日本，嚴重影響救災進度，災民生活也雪上加霜。請問：日本冬季主要降雪來源，下列哪一個說法最正確？(A) 越過太平洋的東南季風所致 (B) 因為有旺盛對流 (C) 越過日本海的西北季風所致 (D) 南下流經的親潮所造成。
- 2022 年 10 月 11 日日本入境正式解封，開放觀光自由行！圖【二】為最新一期的活動宣傳單，只知道其為日本公告的某種季節性活動日期圖，該季節性活動最可能為何？(A) 賞楓 (B) 賞櫻 (C) 賞雪 (D) 賞螢。



圖【一】

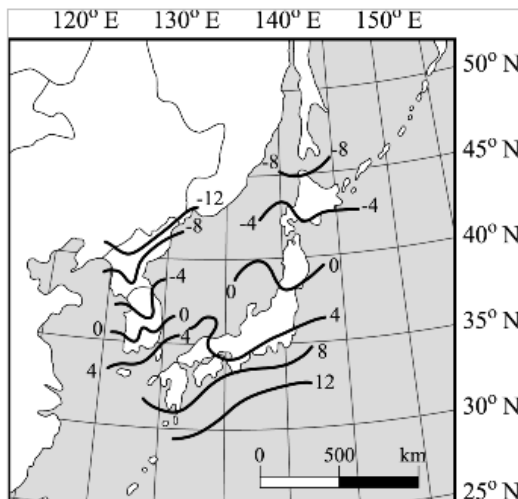


圖【二】

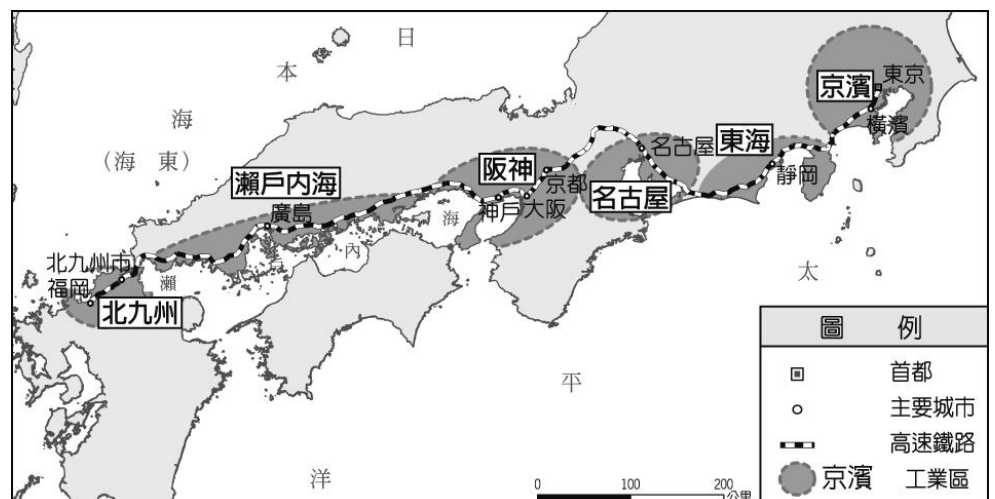


圖【三】

- 西元 2022 年 7 月 23 日和 8 月 4 日是日本的「土用丑日」，日本人在這一天通常會吃鰻魚補充體力。附圖【三】是鰻魚的洄游路徑，當鰻魚卵孵化後是順著哪一股洋流到日本附近海域再進入河口？(A) 黑潮 (B) 親潮 (C) 中國沿岸流 (D) 東澳暖流。
- 築地市場是位於日本東京都中央區築地的公設批發市場，也是世界最大的魚貨批發市場，並有「東京人的廚房」之稱。在築地，每天都有大量海鮮被運到這裡競標、拍賣。請問：日本的漁業發達與下列哪些自然條件關係密切？(甲)位於太平洋地震帶上(乙)山多田少海岸線曲折(丙)沿海有寒、暖流交會(丁)受中國飲食文化影響(戊)經濟海域的範圍廣大 (A) 甲乙丁 (B) 甲丙戊 (C) 乙丙戊 (D) 丙丁戊。
- 東北亞主要包括日本群島與朝鮮半島，兩者位置接近但在氣候上卻不相同，圖【四】為東北亞地區一月等溫線的分布。日本群島一月  $0^{\circ}\text{C}$  等溫線的位置較朝鮮半島高出將近  $5^{\circ}$  的緯度，亦即日本的氣候較為溫暖。請問：造成此種現象的主因為何？(A) 地勢高低 (B) 緯度變化 (C) 降水多寡 (D) 海洋調節。



圖【四】



圖【五】

- 日本是世界八大工業國之一，工業相當發達。圖【五】為日本主要的工業區分布，其工業區和工業都市均瀕臨海洋，這受到下列哪些因素的影響最大？(甲)缺乏原料(乙)技術進步(丙)出口為主(丁)勞力不足。(A) 甲乙 (B) 甲丙 (C) 甲丁 (D) 丙丁。

【背面尚有試題，請繼續作答。】

9. 日本隨著人口老化及生產成本增加等問題，產業轉型早已勢在必行，近年更結合許多不同產業的優點，以因應未來社會的挑戰，下列哪一項較不可能是日本產業轉型後的外銷產品？  
(A) 塑膠玩具 (B) 電玩主機 (C) 節能汽車 (D) 醫療輔具。
10. 南韓的首都寸土寸金無殼青年僅租得起「半地下」，沿著停車場的車道往下走，陰暗的角落竟然有戶住家。今年 29 歲的金燦榮，平時在社福團體工作，5 萬台幣的月薪，在寸土寸金的南韓首爾，只能租到這樣 6 坪大小、還位於地下室的窄房。南韓青年平均月薪 5 萬竟租不起一般正常公寓，但有少數人中一個人就握有 20 間房，根本就是韓國電影《寄生上流》的現實版，請問：南韓國內貧富懸殊的現象明顯，其形成背景與政府的哪項作為有關？  
(A) 全力發展文化產業 (B) 過度扶植大財團 (C) 與北韓政治分治 (D) 積極發展國防工業。
11. 圖【六】為南韓工業區分布圖，由圖可看出半島的工業區主要分布在西部，其主要原因受限於東部哪一項地理因素？(A) 海運不便 (B) 地勢崎嶇 (C) 氣候嚴寒 (D) 缺乏礦產。
12. 南韓的脫北者團體在兩韓邊境發動傳單攻勢，將記載北韓領導人金正恩秘密的傳單，飄送給北韓人民這個舉動引起北韓強烈不滿，並炸毀開城工業區的兩韓聯絡辦公室，讓朝鮮半島的緊張態勢急遽升高。請問：依據兩國地理位置與盛行風向，脫北者團體在哪個月份最適合施放氣球，好讓傳單能多飄往北韓境內？(A) 1 月 (B) 3 月 (C) 7 月 (D) 11 月。
13. 開城工業區位於北韓境內，距離南韓首爾 70 公里。是由北韓提供土地，南韓的大財團提供資金、技術等，作為兩國合作開發工業區的有利條件。金正恩胞妹金與正下令炸燬位於開城市的兩韓聯絡辦公室，使東北亞局勢再度陷入困境。請問：該工業區是位於圖【七】中何處？(A) 甲 (B) 乙 (C) 丙 (D) 丁



圖【六】



圖【七】

14. 承上題，開城工業區是北韓境內一個由南韓營運的工業區，在兩韓的交流上，時常可見以對方的優勢來彌補本國的劣勢。在工業的發展上，北韓有何優勢使南韓來此設置工業區？  
(A) 廉價勞力 (B) 技術先進 (C) 市場廣大 (D) 便利交通。
15. 北韓每年春夏之交，都面臨糧食的壓力，但同在朝鮮半島的南韓並未有糧食危機。請問：造成南北韓糧食供給是否充足的差異，與下列哪些原因最有關係？(甲)緯度差異 (乙)水力資源 (丙)平原比例 (丁)人口多寡 (A) 甲丙 (B) 甲丁 (C) 乙丙 (D) 乙丁。
16. 脫北者在自傳中寫道：「我的家鄉 1994 年發生的大饑荒，好多人餓死…。我為了求生，想盡辦法要離開這裡。有人說往北走渡過河，可以找到同為朝鮮族的遠房親戚；有人說往南走可以到達同樣說韓語的國家；也有人說往東翻過山，搭船順著季風可以到日本；也有人說往西可以偷渡到中國。每一條路都有風險，我們決定選擇走北路，希望我能重生、得到自由之身…。」以下是脫北者對於四條逃走路線的優缺點分析，何者敘述「錯誤」？(A)「北路」：只要經過圖們江或鴨綠江，我就可以抵達中國東北地區 (B)「南路」：會經過 38° N 停戰線，要先突破重重武裝部隊守備 (C)「西路」：偷渡到中國要經過多險灘暗礁的日本海，難度頗高 (D)「東路」：翻過蓋馬高原或太白山脈，再順著冬季季風前往日本。
17. 北韓因為被歐美國家經濟制裁，使人民常有食物短缺及電力中斷的狀況，但北韓政府仍可以透過私下與其他國家進行貿易的方式，換取所需資源。北韓北方的陸上鄰國是其最常私下貿易的對象。請問：此北方鄰國應為下列哪個國家？北韓最可能出口何種產品給此國家？  
(A) 南韓；民生用品 (B) 南韓；美妝產品 (C) 中國；高科技產品 (D) 中國；礦產資源。

【地理科試題結束】



新北市立板橋國中 111 學年度第 1 學期第 3 次段考 8 年級社會領域(地理科)試題答案

1	2	3	4	5	6	7	8	9	10
<b>D</b>	<b>D</b>	<b>C</b>	<b>B</b>	<b>A</b>	<b>C</b>	<b>D</b>	<b>B</b>	<b>A</b>	<b>B</b>
11	12	13	14	15	16	17			
<b>B</b>	<b>C</b>	<b>B</b>	<b>A</b>	<b>A</b>	<b>C</b>	<b>D</b>			

1-5      DDCBA

6-10     CDBAB

11-15   BCBA A

16-17   CD