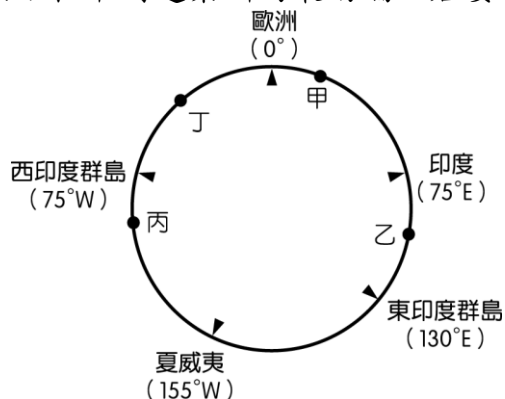


18. ( ) 某位科學家曾證明「地球繞日說」，卻被迫在宗教法庭簽下悔過書，聲明棄絕太陽為宇宙中心之邪說，並承認「地動說」的誤謬，誓言遵從法庭對他所做的一切判決的懲罰。據說他當時仍喃喃自語：「地球還是在動啊！」直到西元 1992 年羅馬教廷科學院研究委員會才公開承認：「當年宗教法庭犯了主觀的判斷錯誤」。請問：是何人蒙受了不白之冤？(A)哥白尼 (B)伽利略 (C)克卜勒 (D)培根。
19. ( ) 歷史上主張一切知識必須經過嚴格的邏輯推演論證過程，才能確立。他有句名言：「我思故我在」對一切事物抱持懷疑的態度。請問是指下列何人？(A)洛克 (B)伽利略 (C)盧梭 (D)笛卡兒。
20. ( ) 十五世紀開始，許多歐洲探險家出海探尋通往亞洲的新航路。附圖是十五世紀至十八世紀部分歐洲探險家到達地區的示意圖，其標示方式僅依照這些地區的經度位置排列，而未考慮其緯度位置。狄亞士在 1487 至 1488 年的探險旅程中到達某洲的最南端，若要在圖中呈現，應標示於何處？



(A)甲 (B)乙 (C)丙 (D)丁。

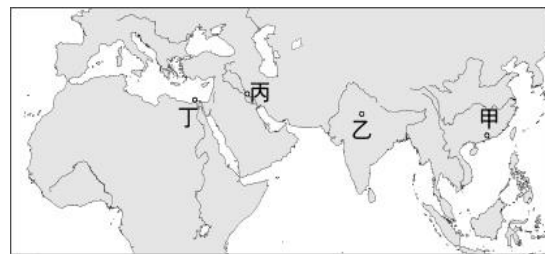
21. ( ) 泰姬瑪哈陵是□□□王朝的皇帝沙賈汗為了紀念早逝的皇后所建立的白色大理石陵墓。占地 17 公頃，建築群華麗，裝飾精緻繁複，至今聞名世界，聯合國教科文組織更於 1983 年將其列為世界遺產。關於這個建築的歷史敘述何者不正確？(A)□□□應該是蒙兀兒 (B)這個陵墓的建築風格融合了埃及、印度、伊斯蘭教風格的影響 (C)這個王朝於 17 世紀達到鼎盛 (D)英國擴張東方勢力，19 世紀派任總督統治，後來成為英國的殖民地。



22. ( ) 承上題，若想一睹泰姬瑪哈陵的風貌，應到右圖中的何地？

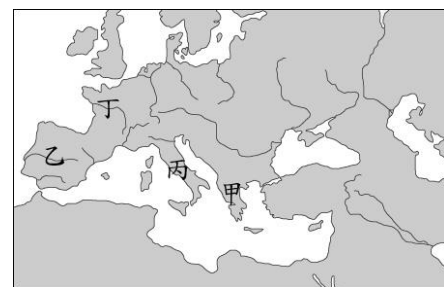
(A)甲 (B)乙 (C)丙 (D)丁。

23. ( ) 16 世紀以後，歐洲人開始重新思考宇宙萬物的運作原理，是因為受到下列哪一思潮的影響？(A)開闢新航路 (B)宗教革命 (C)文藝復興 (D)科學革命。



24. ( ) 「熱巧克力是受大眾喜愛的飲料，它濃郁的口感與香氣，易使人產生幸福的感覺。巧克力的原料『可可』，屬於熱帶栽培業作物，在原產地被印地安人以粥的形式或添加辣椒、香草等調味料的冷飲形式飲用，在當地亦被視為重要貨幣。後來傳入歐洲後發展出添加糖和牛奶的飲料形式，再演變成塊狀巧克力，廣受歐洲人歡迎。……」請問：將巧克力傳入歐洲的應該是哪一個民族？(A)西班牙 (B)英國 (C)法國 (D)荷蘭。
25. ( ) 歐洲波蘭的弗龍堡大教堂 2010 年為這位科學革命的天才設立墓碑，當時他提出的學說被天主教教會視為異端，但卻是現代天文學的起點，墓碑上的行星運行雕塑說明了他的成就。請問：關於這位偉大的科學天才，哪一項敘述不正確？(A)這應該是哥白尼的墓碑 (B)他提出的「地心說」挑戰了教會傳統的宇宙觀 (C)他觀察天象多年後，將研究結果出版為《天體運行論》 (D)當時所發明的望遠鏡等新工具等使科學研究更為便利。

26. ( ) 十八世紀的啟蒙運動涵蓋了各個知識領域，如自然科學、政治學、經濟學、文學等。請問：這個運動最早興起於右圖中的哪個地區，然後開始向外傳播？(A)甲 (B)乙 (C)丙 (D)丁。



27. ( ) 百科全書(Encyclopedia)一詞源自希臘語，意為「一個想要接受通才教育的人所應該學習的知識」，即說明此類書籍可以做為一個全面教育的工具。西元 1751 年法國某思想家邀集學者合編《百科全書》，開啟日後百科全書類著作風氣，為人類歷史發展開創新的里程碑，也是 18 世紀啟蒙運動的最高成就之一。請問：這位邀集學者編纂《百科全書》的思想家應是下列何人？(A)盧梭 (B)伏爾泰 (C)狄德羅 (D)洛克。

28. ( ) 西元 2018 年法國總統馬克宏造訪一座法國大文豪伏爾泰蟄伏的避風港—弗尼城堡，因法國政府剛完成整修，使這座封閉已久的古堡煥然一新。關於這個大文豪所主張的言論，下列何者正確？(A)主張政府組織應採取三權分立 (B)批評天主教會，主張言論自由 (C)政府權力是來自與人民簽訂的契約 (D)認為天賦人權政府不可剝奪。

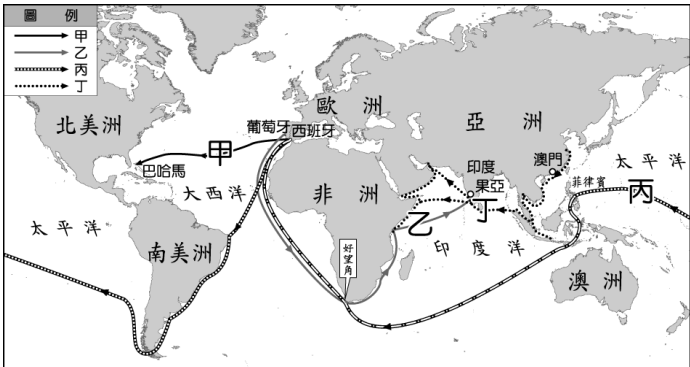
29. ( ) 大航海時代使歐洲勢力向海外擴張，使歐洲在近代世界史上扮演重要的角色，對歐洲以外的的地區亦有中大的改變，下列有關大航海時代的敘述，何者不正確？ (A)印加及阿茲提克等印地安古文明因西班牙人入侵而滅絕 (B)美洲生產的玉米、番薯、馬鈴薯等農作物於明朝時傳入中國，成為重要的糧食作物 (C)英國到澳洲殖民，並將罪犯流放至澳洲開墾 (D)歐洲殖民者將傳染病傳入非洲，造成人口銳減。
30. ( ) 啟蒙運動思想家認為藉由理性了解人類社會的秩序，削弱了教會的影響力，更啟迪人們對於自我權利的認知與追求，對後世產生深遠的影響。請問：啟蒙運動對後世的影響包含下列哪些？  
(甲)成為近代民主政治的思想淵源 (乙)促成美國獨立運動 (丙)質疑以神為中心的思想，肯定人性的價值與尊嚴 (丁) 影響法國大革命的爆發。(A)甲丙丁 (B)乙丙丁 (C)甲乙丙 (D)甲乙丁。
31. ( ) 右表是某一組織的重要事件整理，根據內容判斷，下列何者最適合放入表格中的「？」處？
- | 重要事件                |
|---------------------|
| * 成立於17世紀初          |
| * 總部設立於巴達維亞         |
| * 曾在臺灣、南非好望角等地建立殖民地 |
| * ?                 |
- (A)從印度輸出大量鴉片販賣至中國  
(B)以白銀吸引中國商人至馬尼拉交易  
(C)在日本鎖國時期，獲准與日本貿易  
(D)在所統治的殖民地引進拉丁文與羅馬公教
32. ( ) 美國《獨立宣言》：「人人生而平等，造物主賦予他們若干不可剝奪的權利，其中包括生命權、自由權和追求幸福的權利。為了保障這些權利，人們才在他們之間建立政府……任何形式的政府，只要破壞上述目的，人民就有權利改變或廢除它，並建立新政府」上述內容最可能引用下列何人的主張？ (A)洛克 (B)盧梭 (C)伏爾泰 (D)孟德斯鳩。

題組

資料一：2018 年葡萄牙西部外海發現一艘 400 年前沉沒的古船，殘骸內有大量香料及青花瓷。考古任務負責人佛萊雷說：「從歷史遺產的觀點來看，這是過去十年來最大發現，也是葡萄牙有史以來的最重要發現。」發現沈船的地點位於濱海城市卡斯凱什(Cascais)外海，殘骸躺在距離海面約 12 公里處的海底。研究團隊表示，該艘船約在 1575 年至 1625 年間自印度返回葡萄牙什沉沒，這也是葡萄牙商船來往亞洲最頻繁的時期。

資料二：「……11月28日，船長認為香料群島就快到了!不料在這浩瀚的海洋航行了4個月不見陸地，而且風平浪靜。在這期間，船上的情況相當悲慘，食物已經吃完，飲水也快喝完了!船員們因為沒有蔬果補充維他命C，一個個得了壞血病倒下來。……船隊到了關島才獲得食物、蔬菜、水果和淡水的補給。……西元1521年3月9日，在菲律賓群島的宿霧島登陸，船長拜會該島土王之後，捲入當地土著族群糾紛，在一場族群戰爭中被土著殺死……」

15~16 世紀重要航行路線圖（如附圖），使讀者更加明瞭當時航海家的航行路線。請根據此圖回答下列問題：



33. ( ) 根據資料一的敘述，這艘沈船的航行路線應該是何人所開闢？ (A)哥倫布 (B)麥哲倫 (C)達伽馬 (D)狄亞士。
34. ( ) 根據資料二，下列哪一項敘述不正確？ (A)率領船隊的船長是麥哲倫 (B)這條路線應該是丙路線 (C)書上所寫的風平浪靜的海洋是印度洋 (D)最後船隊回到西班牙，完成環繞世界一周的壯舉。

18-20 BDA

21-25 BBCAB

26-30 DCBDD

31-34 CACC