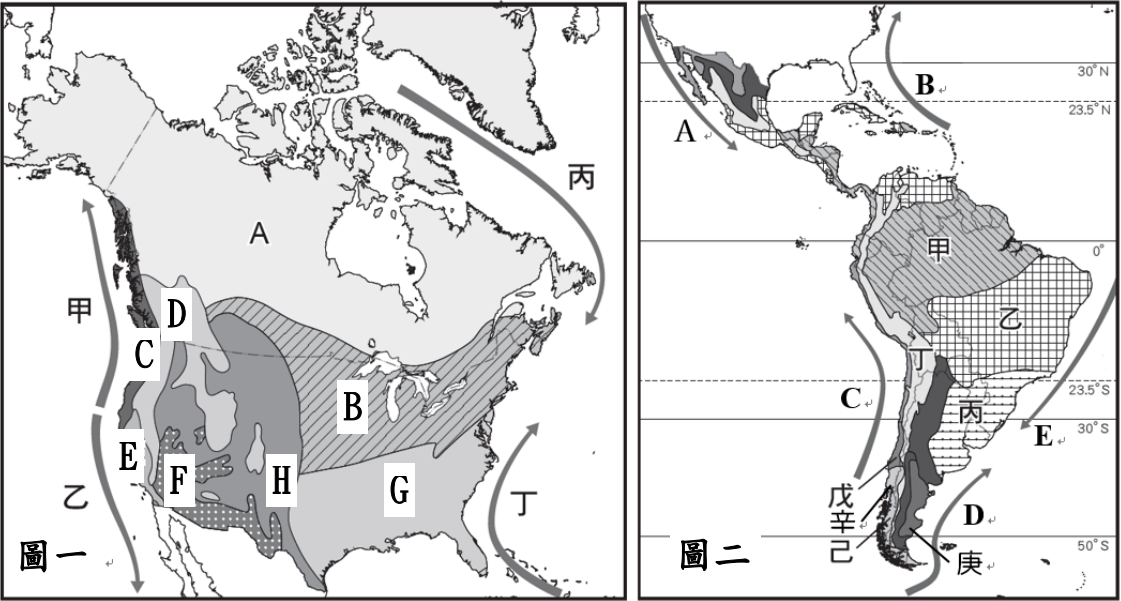
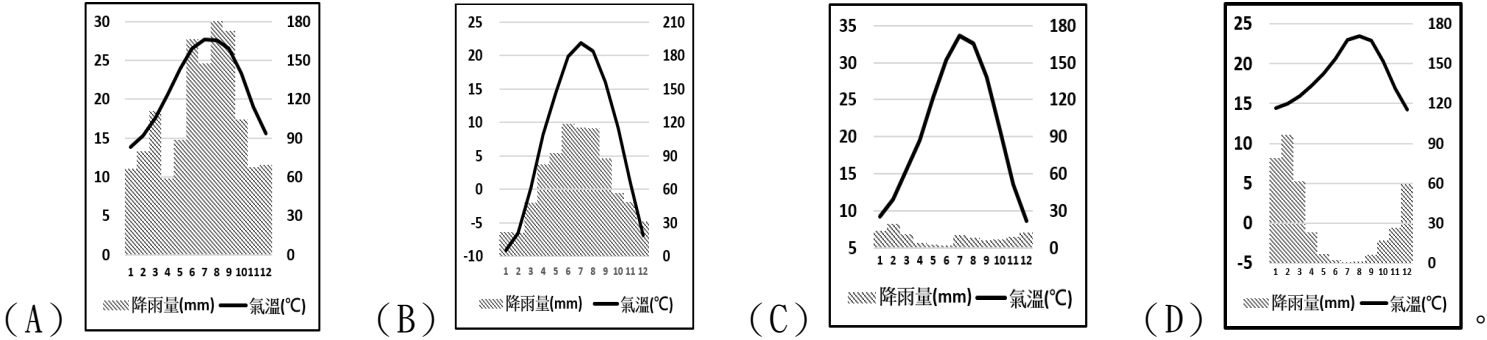


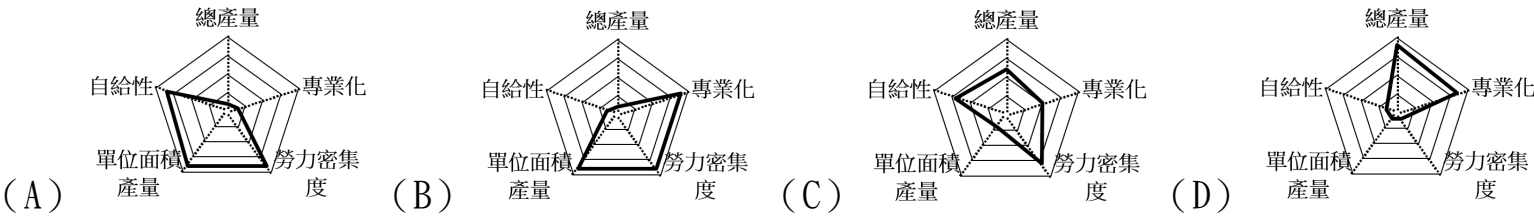
◎大約在 1 萬 5、6 千年前，古早人類橫渡白令海峽，先到北美洲，再逐步移向中、南美洲，成為美洲印地安人。景平和可恩組織探險隊，準備探索印地安人的文化。兩人事先蒐集了北美洲氣候圖(圖一)和中南美洲氣候圖(圖二)。請根據圖一、圖二，與景平、可恩一同探索美洲大陸。



1. 探險隊在旅程中，可恩不慎被毒蛇咬傷，嚮導拿出紫錐花製成的藥粉抹在可恩的傷處，並解說：「紫錐花耐寒、耐旱極佳，是可以越冬的植物，過於炎熱的環境會不利生長，是印地安人的傳統草藥」。根據嚮導的說明，下列哪一張氣候圖的環境比較符合紫錐花的原生環境？



2. 探險隊選擇水運移動，隊員致誠發現此處農業呈現帶狀的分布，先是大豆、玉米出現在河岸，接著是大豆、棉花，最後是甘蔗、稻米。根據致誠的觀察結果，推測船隻在哪一條河川航行？
(A) 密西西比河 (B) 聖羅倫斯河 (C) 亞馬孫河 (D) 巴拿馬運河。
3. 承上題，根據致誠的觀察結果，探險隊該段旅遊的動線應該是圖一或圖二中何處？如何移動？
(A) 圖一，從 A 區到 B 區 (B) 圖一，全程都在 B 區
(C) 圖一，從 B 區到 G 區 (D) 圖二，從甲區到乙區
4. 承第 2 題，以下四張雷達圖(中央 0~外圈 100%)，哪一張圖最能呈現此種帶狀農業的特色？



5. 景平聽說「■國家公園是因為 1883 年鐵路工人在這裡發現了硫磺溫泉而發現的，國家公園內的釀酒廠主打以當地純淨的冰川水釀造出的烈酒，如：黑麥威士忌、特調雞尾酒等，完全以手工方式小量生產製造而成。」根據這段話推測，■國家公園位於圖中何處？
(A) 圖一，D (B) 圖一，F (C) 圖二，乙 (D) 圖二，丙。
6. 隊員律明發現印地安人並未在北美大平原留下高度的農業文明，推測此處：「因地形與山脈走向導致▲天氣災害嚴重，不利農業文明發展有關。」此處的▲是指下列哪些天氣災害？
(A) 乾旱、颶風 (B) 颶風、暴風雪 (C) 暴風雪、龍捲風 (D) 龍捲風、乾旱。

7. 可恩發現美國州名的由來與不同的族群相關，整理部分資料如表一所示，根據表一，哪一個州名的由來與拉丁裔白人的關係最密切？
8. 景平研究美國電影產業的歷史後發現，1908 年至少有 30 家電影公司，受到溫暖的氣候、交通和廉價勞動力

表一：美國州名由來（部分資料）	
州名	由來
(A) 喬治亞州	英王喬治二世
(B) 路易斯安那州	法國國王路易十四
(C) 懷俄明州	印第安語，意為大草原
(D) 科羅拉多州	西班牙語，意為紅色的

背面尚有題目，請細心作答！

的吸引，開始在佛羅里達州建立製片基地，但之後由於東海岸極端氣候和政治因素而逐一離開。再加上當年愛迪生持有電影科技的許多專利，電影公司想要製作發行電影必須向愛迪生支付高昂的專利費，在東岸，獨立的電影公司經常被愛迪生和他的代理人提出訴訟。但若是離東岸過於遙遠，消息傳遞與追訴，都因資訊傳遞的時間落差而不容易徹底執行。到了1920年

代，電影產業已完全由佛羅里達州轉移至此處。根據這段敘述可以推測，美國電影產業的大本營應位於圖一中何處？

(A) A (B) C (C) E (D) H。

9. 隊員宏楷發現如圖三所示，標示美國各州的知名商品的地圖，宏楷對這張圖提出以下幾種解釋，哪一種說法最正確？

(A) 本國市場廣大，國營品牌商品自營自銷 (B) 企業商品行銷全球，對全球經濟影響深遠 (C) 大量生產價格便宜的商品傳遞至世界各地

(D) 產品繁多但以第二級產業產品行銷為主。

10. 隊員奕辰閱讀文獻如下：「歐洲天主教會為亡者布施糖果的習慣，接受者以「為亡者祈禱」作為回報。發展出孩子們到各家索取「萬聖節」糖果的習慣。印第安文化認為只有善待亡者，讓亡者高興地回家過節，活著的人才會得到亡者保佑。於是每年的10月31日至11月2日，當地都有大型的慶祝活動，家家戶戶搭建私人祭壇，擺放有糖骷髏、萬壽菊和逝者生前喜愛的食物，並攜帶這些物品前往墓地祭奠逝者。」文中所指的慶祝活動，最有可能是下列哪一項慶典？

(A) 嘉年華會 (B) 感恩節 (C) 聖誕節 (D) 亡靈節。

11. 探險隊行進至一處新的地點，當地的氣候圖如圖四所示，此時探險隊最可能在圖一或圖二何處？

(A) 圖一，G (B) 圖二，甲 (C) 圖二，丙 (D) 圖二，丁。

12. 奕辰回顧「2021年十大環境新聞」時赫然發現「巴西亞馬孫雨林因大量的森林開發，反而成為地球碳排來源」。亞馬孫雨林的範圍主要與圖二中哪一區的範圍最相符？

(A) 甲 (B) 丁 (C) 戊 (D) 庚。

13. 圖五是景平在探索某著名古印地安文明遺址時，該古文明的城市分布圖，在南邊的山區城市，可以發現海岸才有的貝類珠寶，根據該文明的位置判斷，以下海域：(甲)加勒比海、(乙)墨西哥灣、(丙)哈得孫灣、(丁)麥哲倫海峽。哪些海域屬於該古文明的海上貿易動線範圍？

(A) 甲乙 (B) 甲丁 (C) 乙丙 (D) 丙丁。

14. 《曠野的聲音》一書描述美國馬洛醫生在澳洲沙漠的心靈之旅，探險隊若想仿效書中醫師的體驗，在圖二中選一處最貼近書中描述環境的地點進行體驗，哪一處最為恰當？

(A) 甲 (B) 丁 (C) 戊 (D) 庚。

15. 圖六是宏楷在介紹某一美洲國家出口項目時繪製的心智圖，根據出口項目判斷，圖六的中心主題最可能是哪一國家？

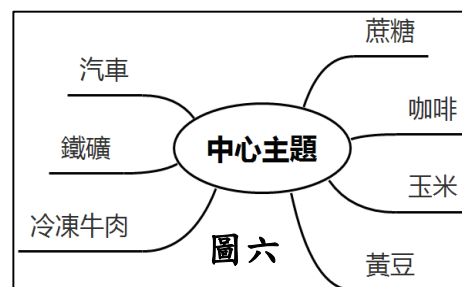
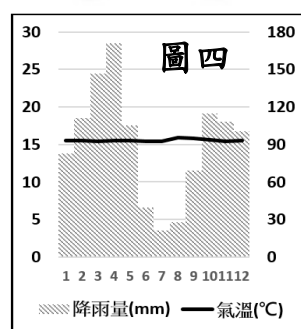
(A) 阿根廷 (B) 墨西哥 (C) 巴西 (D) 美國。

16. 右表是律明整理出的南美洲兩大都市的資料，下列哪一個選項最可能是這兩個都市共同的特色？

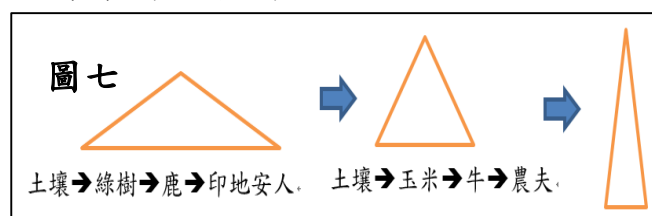
(A) 降雨充沛 (B) 氣溫涼爽宜人 (C) 港埠型都市 (D) 礦產豐富。

17. 可恩發現中南美洲的生態金字塔從過去穩定的低金字塔轉變成土地生物多樣性減少的高金字塔。此種轉變顯示中南美洲在土地利用發展的意向為何？

(A) 強調原住民族需求 (B) 著重單一農產品出口 (C) 重視土地經濟價值 (D) 追求土地永續利用。



都市	國家	位置描述
利馬	祕魯	海拔高達1,550公尺
波哥大	哥倫比亞	海拔2,640公尺



地理科試題結束！

解答：1～10 BACDA CDCBD 11～15 DAACC BB