

新北市立板橋國中 111 學年度第 1 學期第 3 次段考七年級社會領域（歷史科）試題卷
年 班 座號 姓名

單選題

18. 卉芸到臺南旅遊，參觀了「臺灣開拓史料蠟像館」，從導覽員的說明得知，此建築物原為英商在臺灣設立的「德記洋行」。洋行的出現與下列何者最有關聯？（A）臺灣納入清朝版圖（B）貿易出超的結果（C）臺灣開港通商（D）荷蘭聯合東印度公司成立分行。
19. 乾隆年間，臺灣中部爆發林爽文事件，乾隆極為憤怒，派將領福康安從中國大陸帶兵攻打林爽文。若依事件發生的地點判斷，下列何處是福康安最佳的登陸港口？（A）鹿港（B）艋舺（C）淡水（D）打狗。
20. 清帝國時期，臺灣相繼發生朱一貴、林爽文和戴潮春三次大規模的事件。請問：這三者的共同特點為何？（A）三者皆導因於原住民與漢人的衝突（B）三者皆以反清復明為主要訴求（C）三者皆為對抗外國勢力壓迫（D）三者皆起因於官逼民反。
21. 附圖是《渡臺悲歌》的內容，為清帝國時期描述客家移民的詩歌，對於這首詩歌的理解，下列敘述何者有誤？（A）渡海來臺的過程艱難辛苦（B）臺灣移民多來自福建、廣東（C）生番、熟番都是指原住民（D）客家移民多來自漳州、泉州。

勸君切莫過台灣，台灣恰似鬼門關，千個人去無人轉，知生知死都是難。
就是窖場也敢去，台灣所在滅人山，台灣本係福建省，一半漳州一半泉。
一半廣東人居住，一半生番併熟番，生番住在山林內，專殺人頭帶入山。

1、窖場：墳場
2、滅人山：必死無疑

22. 清帝國時期，臺灣有三大貿易港口：「一府、二鹿、三艋舺」，如圖所示。這三大貿易港口往來的貿易活動繁盛，帶動起周遭經濟的繁榮。請問：這三大港口主要進行貿易的對象為何？（A）日本（B）東南亞（C）中國大陸（D）歐美各國。



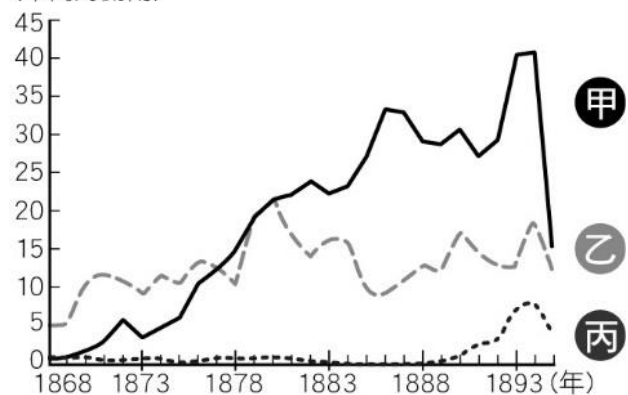
23. 同治年間，臺灣中部大族霧峰林家的林文察，在中國大陸協助朝廷對抗亂事，後來他奉詔來臺灣，希望儘快平定某場民變。這場民變是清代臺灣歷時最久的動亂，且響應者多與霧峰林家有宿仇。上述的民變是指哪一事件？（A）朱一貴事件（B）戴潮春事件（C）郭懷一事件（D）林爽文事件。
24. 清帝國時期，隨著來臺移民的子孫逐漸開枝散葉，人丁愈來愈旺盛，於是開始建祠堂、編族譜，這時主要的祭祀對象為下列何者？（A）開臺祖先（B）原民祖靈（C）原鄉神明（D）福德正神。
25. 立澄對來臺的傳教士十分敬佩，想實地去探訪與他們相關的建築物。根據上述，他應該會去參觀哪些地方？（甲）淡水馬偕醫院（乙）淡水女學堂（丙）新樓醫院（丁）瑠公圳（戊）德記洋行（己）理學堂大書院（A）甲乙丙己（B）甲乙丁己（C）甲乙戊己（D）乙丙丁戊。

26. 艋舺曾是北臺灣最大商業中心，但在光緒年間的淡水海關報告如附表所示，可看出大稻埕的人口已超越艋舺。請問：大稻埕人口超越艋舺的主要原因最可能為何？ (A) 艋舺的幫派械鬥太多，造成人口外移 (B) 茶葉貿易帶動大稻埕的繁榮 (C) 稻米和蔗糖出口集散地在大稻埕 (D) 淡水河改道，不再經過艋舺。

城市	人口
臺南	47,583 人
大稻埕	31,533 人
艋舺	23,767 人

27. 今南投埔里大城里一帶的昔日地名為「大肚城」，是原居臺中大肚一帶的平埔族「大肚社人」的遷居之地。上述中部平埔族群大舉向東遷徙至南投埔里，最可能是什麼時候的事情？ (A) 十六世紀 (B) 十七世紀 (C) 十八世紀 (D) 十九世紀。
28. 清帝國時期臺灣社會並不安定，其背景因素並不包括下列何者？ (A) 械鬥頻繁，打群架時有所聞 (B) 民間秘密結盟盛行，會黨林立 (C) 原住民越界游耕，壓縮漢人生存空間 (D) 官吏良莠不齊，貪汙腐敗。
29. 「臺灣茶葉之父」李春生為清帝國時期「買辦」出身，在臺灣開港通商後崛起，成為富甲一方的商人。關於當時的社會情形，下列敘述何者正確？ (A) 李春生對臺灣茶葉的經營，帶動南臺灣的發展 (B) 清帝國在清法戰爭中戰敗，被迫簽約開港通商 (C) 「買辦」又稱「郊商」，指臺灣從事貿易的商人 (D) 「買辦」是外國商人和本地人士之間的溝通橋梁
30. 皓皓祖先在清帝國時期從福建來臺開墾土地，根據你對這段歷史的了解，下列何項是皓皓祖先最可能遇到的情況？ (A) 可自由開墾任何土地 (B) 所有土地都是政府所有，只能向政府承租開墾之地 (C) 若欲開墾無主地，可向政府申請開墾執照 (D) 為避免土地拓墾的糾紛，大多以獨資方式開墾。
31. 臺灣有所謂的「有應公廟」，廟中祭祀的多為無主孤魂，由地方善心人士出資興建，進而成為臺灣的民間信仰之一。有應公廟的出現，代表下列何種歷史意義？ (A) 史前時期文化不發達 (B) 清初臺灣民間動亂頻繁 (C) 鄭氏政權在臺時期臺灣疫病流行 (D) 荷蘭在臺時期臺人英勇反抗。
32. 附圖是宸竹報告時所附上的「清帝國時期臺灣三大商品出口總值比較圖」，希望能考一考同學是否了解臺灣開港後的出口情況。請問：下列哪位同學的回答正確？



(十萬海關兩)



- (A) 恩恩：甲是出口歷史最為悠久的蔗糖 (B) 睿哲：乙是開港通商後最大宗的輸出品茶葉 (C) 阿璇：丙是產量曾居世界第一的樟腦 (D) 東東：丙是開港後輸出過半的鴉片。
33. 康熙 23 年，清廷同意開放□□與廈門進行貿易，此後臺灣各地生產的米穀，會先用牛車、小船載運至□□，然後裝載於大船上運往廈門，□□成為當時唯一與中國大陸進行商業貿易的港口。請問：□□應填入哪一個地點較適當？ (A) 淡水 (B) 鹿耳門 (C) 八里坌 (D) 基隆
34. 清帝國統治時期，臺灣出現多條水利建設，有助於農地的開發與利用。請問：哪條水圳的修築，對臺北盆地的開發貢獻極大？ (A) 瑠公圳 (B) 貓霧揀圳 (C) 八堡圳 (D) 曹公圳

歷史科試題結束

新北市立板橋國中 111 學年度第 1 學期第 3 次段考七年級社會領域（歷史科）答案卷
年 班 座號 姓名

16. 	17. 	18. C	19. A	20. D
21. D	22. C	23. B	24. A	25. A
26. B	27. D	28. C	29. D	30. C
31. B	32. C	33. B	34. A	35. 