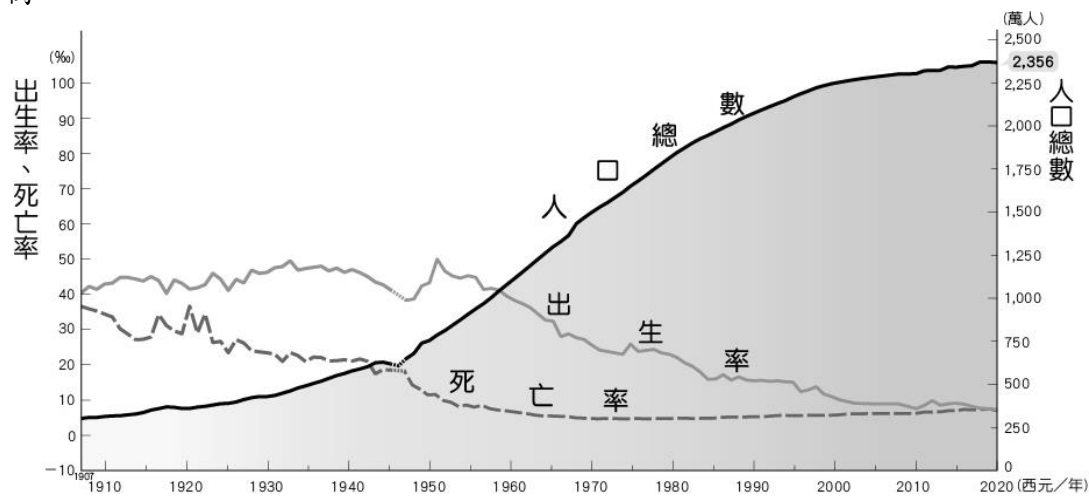


新北市立板橋國中111學年度第二學期第1次段考七年級社會領域(地理科)試題卷

- 「當我們在探討一個地方的人口時，除了要知道數量，更重要的是要了解這個數量的變化過程。一地在不同時期人口數量的變動就稱為人口成長，影響一個地方人口成長的因素包括自然增加與社會增加。」根據上述，影響人口數量變動的因素，最不可能包括下列何者？(A)出生 (B)死亡 (C)結婚 (D)留學。
- 「家鄉在印尼的阿蒂，來台灣從事照顧年邁長者的工作，但最近她發現居留簽證即將到期，若不申請延長續期，就必須離開台灣。」根據上述情形，下列推論何者為非？(A)台灣具有人口遷移的「拉力」 (B)台灣已面臨人口老化的議題 (C)阿蒂來台灣工作屬於永久遷移 (D)阿蒂需要辦理簽證，故屬於國際遷移。
- 承上題，週日休假時，阿蒂都會跟家鄉好友相約在她們的信仰中心見面，一起誦經禱告並談天說地，以慰思鄉之情。此信仰中心應為下列何者？(A)龍山寺 (B)行天宮 (C)清真寺 (D)天主堂。
- 除了印尼之外，越南、菲律賓及泰國亦為台灣主要的移工來源地，這些國家皆位於亞洲的哪一個區域？(A)西亞 (B)南亞 (C)東北亞 (D)東南亞。


◎圖一為台灣人口成長變化圖，請參考圖一回答第5-9題：

- 從圖中可以發現，台灣人口成長具有何種趨勢？(A)先慢後快，再變慢 (B)先快後慢，再變快 (C)先慢後快，持續加速 (D)先快後慢，持續減速。
- 由圖中趨勢推估，台灣未來可能出現何種人口現象？(A)自然增加率上升 (B)社會增加率下降 (C)人口成長停滯或負成長 (D)人口總數突破2400萬。



【圖一】

- 1920年代開始，台灣死亡率開始下降，出生率與死亡率的差距也逐漸拉大，此現象下列何項因素無關？(A)衛生環境改善 (B)國民營養提高 (C)醫療技術進步 (D)covid-19疫情獲得控制。
- 哪一句口號較不適合1990年代後的人口政策宣傳？(A)婚後三年才生育 (B)兩個孩子恰恰好 (C)三個孩子更熱鬧 (D)孩子，是我們最好的傳家寶。
- 根據上圖的人口成長趨勢判斷，台灣目前的人口結構較接近下列哪一個金字塔型？



- 「臺灣的人口分布受到□□、開發時間的早晚，以及產業活動的影響，各地人口疏密不一，人口的空間分布呈現明顯的區域差異。」上述中的空格處，應填入下列何者較為適當？(A)氣候 (B)地形 (C)政治 (D)宗教。
- 承上題，下列哪一項台灣人口分布的特色，主要是受到「開發時間早晚」的歷史因素影響？(A)西部多於東部 (B)北部多於南部 (C)平地多於山地 (D)都市多於鄉村。

### 人口外移最多

|        |        |
|--------|--------|
| 台北市信義區 | -5.94‰ |
| 台北市大安區 | -5.54‰ |
| 台北市松山區 | -5.19‰ |
| 台北市中山區 | -5.11‰ |
| 台北市萬華區 | -5.02‰ |

### 人口遷入最多

|        |         |
|--------|---------|
| 連江縣北竿鄉 | +15.32‰ |
| 新北市林口區 | +8.46‰  |
| 桃園市復興區 | +6.28‰  |
| 花蓮縣豐濱鄉 | +6.02‰  |
| 新竹縣竹北市 | +5.76‰  |

社會增加率(‰)  
社會增加人口數/人口數

>-10   -5   0   5   >10



資料來源：主計處

【圖二】

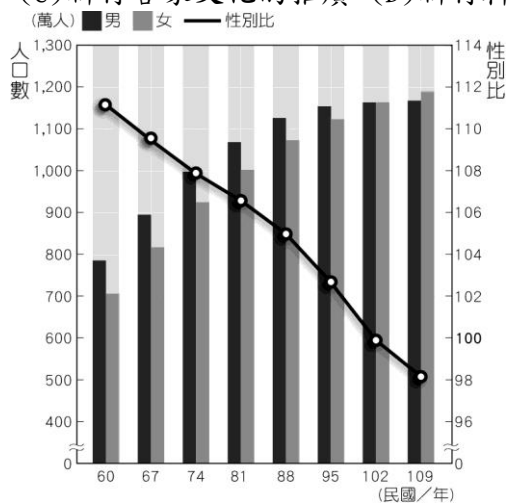
文章節錄自網址：<https://www.cna.com.tw/news/ahel/202301100269.aspx>

據內政部統計，民國 107 年到 111 年第 3 季，全台人口社會增加最多的鄉鎮市區是新竹縣竹北市，移入 1 萬 9085 人；其次是新北市林口區、淡水區，因新市鎮開發，吸引民眾移居。若以社會增加率來看，每季平均人口移入率最高的是連江縣北竿鄉，其次是新北市林口區、桃園市復興區。

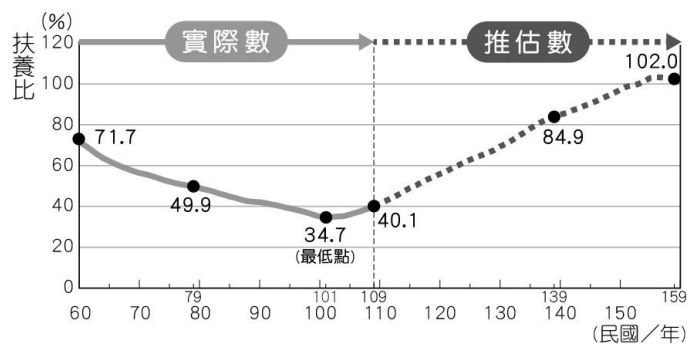
一個地區因為人口移入和移出所造成的人數增減，稱為社會增加，影響人口遷移的主要原因包括工作、教育、結婚等因素；如果該地區能提供充分的就業機會，以及良好的生活機能、教育環境等，對人口社會增加將有所助益。

◎圖二為台灣近五年人口外移地圖，請參考圖中資料與文章內容，回答第12-14題：

12. 圖中顯示人口移出率最高的前五名皆為台北市的行政區，其主要的「推力」為下列何者？(A)交通不便 (B)房價過高 (C)就業機會不足 (D)教育資源缺乏。
13. 人口移入率最高的行政區為連江縣北竿鄉，但社會增加人數最多的卻是新竹縣竹北市，最有可能的原因為何？(A)資料不足 (B)統計錯誤 (C)竹北市總人口較多 (D)北竿鄉移出率更高。
14. 探究人口遷移的原因，吸引大量人口移入竹北市的最強大「拉力」應為下列何者？(A)新竹美食的誘惑 (B)新竹棒球場的落成 (C)新竹客家文化的推廣 (D)新竹科學園區的設立。



【圖三】



【圖四】

15. 圖三為台灣人口性別組成變化圖，圖中顯示長期以來性別比皆高於100，與下列哪一句話所傳遞的傳統思想有關？(A)父慈子孝 (B)母憑子貴 (C)尊師重道 (D)忠君愛國。
16. 圖四為台灣扶養比變化示意圖，由圖中數值判斷，台灣的人口紅利在哪一年接近最高峰？(A)民國60年 (B)民國79年 (C)民國101年 (D)民國139年。註：人口紅利，係指由於國家的勞動人口占全國人口的比例持續上升，伴隨著經濟成長的效應。
17. 比較圖三與圖四的資料可得知，台灣在民國109年的人口成長與組成有何現象？(A)總人口數減少 (B)人口素質提升 (C)女性人口多於男性人口 (D)老年人口多於壯年人口。

地理試題結束

第二頁/共六頁

**【解答】**

01-05 DCCDA

06-10 CDADB

11-15 ABCDB

16-17 CC