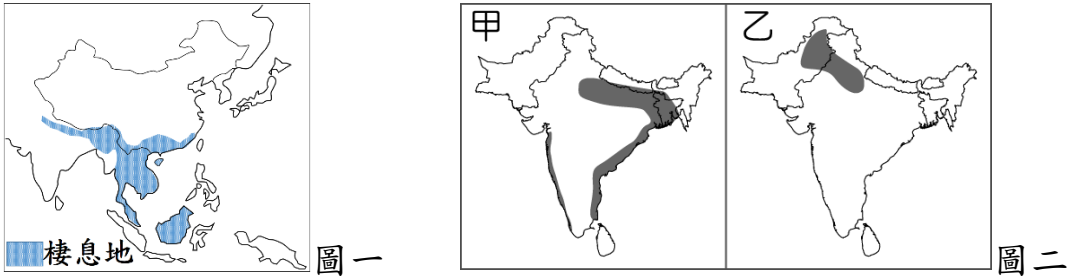


新北市立板橋國中 111 學年度第 2 學期第 1 次段考八年級社會領域（地理科）試題卷

1. 圖一為亞洲小爪水獺棲息地的分布圖。近年來因某國電視節目的介紹，進口該種野生水獺當寵物一時蔚為風潮，使得該物種滅絕的危機升高。根據圖一，判斷下列何種人類行為危害水獺的生活棲地最為嚴重？（A）河川上游興建水壩（B）大面積種植棉花（C）種植溫帶水果（D）發展熱帶栽培業。



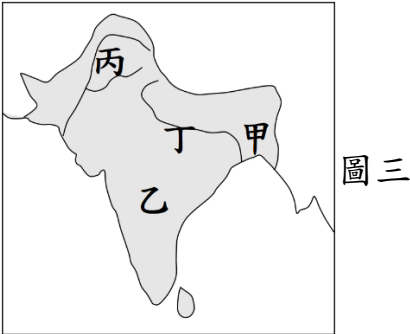
2. 農業活動的分布主要受到自然條件的影響，因此形成不同的利用方式。圖二中的甲圖為印度半島的稻米、乙圖為印度半島的小麥的分布地區，請根據其位置判斷，影響其分布地區的主要因素為下列何者？（A）地勢起伏（B）氣溫高低（C）降水多寡（D）土壤沃度。

3. 雄依旅遊推出幾個知名觀光勝地的行銷廣告，但業者在整理廣告文案中不小心把旅行目的地給弄混了，無法排出正確的島嶼與宗教、特產做搭配，表一中的甲~丁四個島嶼旅行行程何者搭配最正確？

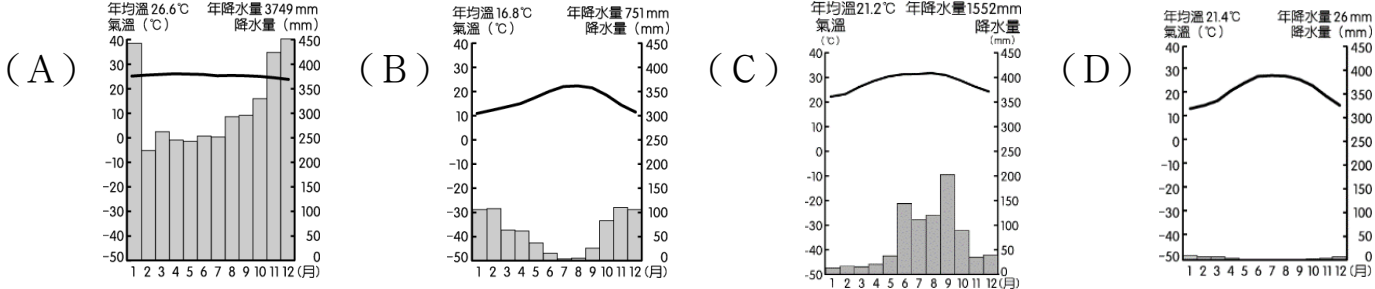
島嶼	宗教	特產
甲	伊斯蘭教	珊瑚、珍珠
乙	伊斯蘭教	咖啡、橡膠
丙	印度教	咖啡、拉茶
丁	佛教	紅茶、藍寶石

- 表一
- (A) 甲. 爪哇島、乙. 峇里島、丙. 錫蘭島、丁. 馬爾地夫
- (B) 甲. 馬爾地夫、乙. 峇里島、丙. 爪哇島、丁. 錫蘭島
- (C) 甲. 爪哇島、乙. 馬爾地夫、丙. 峇里島、丁. 錫蘭島
- (D) 甲. 馬爾地夫、乙. 爪哇島、丙. 峇里島、丁. 錫蘭島

4. 印度為世界前四大棉花生產國。若考慮到棉花生長條件「喜熱、陽光、耐旱，生長季需要水源灌溉，但秋季採收期忌雨。請問印度棉花主要生產區域為圖三中何處？（A）甲（B）乙（C）丙（D）丁



5. 「近三十年來，馬來西亞和印尼成為全球棕油主要輸出國，輸出量分居世界第一、二位，油棕產業為兩國帶來大量外匯以及農村人口的就業機會。」由上文可推測，油棕主要分布於下列哪一種氣候區？



6. 中國有六成的石油必須仰賴沙烏地阿拉伯進口，請問油輪運往中國的航線中，依序為經過哪些海洋？

(A) 阿拉伯海、印度洋、麻六甲海峽、南海


(B) 印度洋、阿拉伯海、麻六甲海峽、南海

(C) 阿拉伯海、麻六甲海峽、印度洋、南海

(D) 印度洋、麻六甲海峽、阿拉伯海、南海

7. 印度和其鄰國巴基斯坦糾紛不斷，成為當地發展的不確定因素，其中兩者因為爭奪哪一條河川的水源而發生爭執？ (A)湄公河 (B)恆河 (C)印度河 (D)雅魯藏布江。
8. 阿明某日閱讀東南亞文章報導，如圖四，有個被油印汙損的內容。就地理知識判斷，該汙損的內容最有可能是以下哪個中國地形？ (A)東南丘陵 (B)青藏高原 (C)四川盆地 (D)橫斷山脈。

湄公河水源爭議

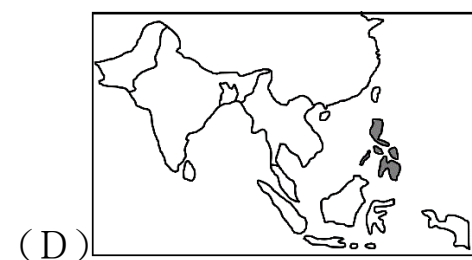
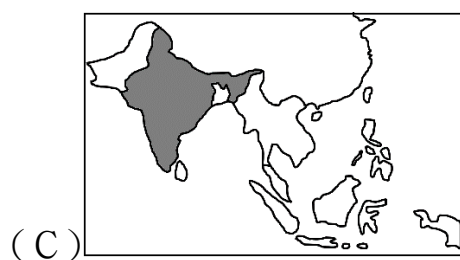
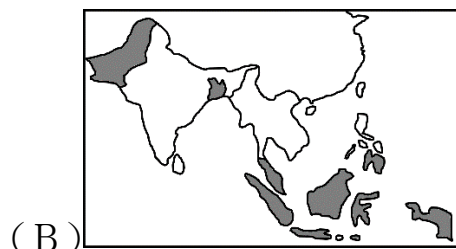
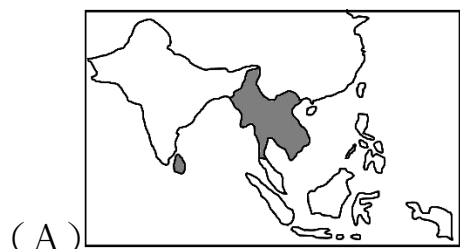
湄公河為中南半島國家相當依賴的水資源，卻因中國在水源源頭  興建大量水壩，導致下游多國乾旱頻傳，水位高低不穩重創其農漁業，也讓這些國家未蒙其利、深受其害。

圖四



圖五

9. 圖五是「清真認證」標章，規範包括「禁止吃自死物、血液、豬肉以及誦非真主之名而宰殺的動物」。請問「清真認證」在南亞、東南亞流行區域為下列哪張區域分布圖？



10. 以下是某年有關印度半島降雨情形的兩則新聞報導：(甲)新德里連續三週每日高達 45°C 的熱浪，終於告一段落，昨日的傾盆大雨使首都的氣溫明顯降低；(乙)季風帶來好幾波的暴雨，橫掃印度和孟加拉，已經奪走 600 人的生命。(甲)、(乙)兩則新聞報導依序可能發生在哪兩個月份？
(A)甲 12 月、乙 5 月 (B)甲 7 月、乙 10 月 (C)甲 1 月、乙 6 月 (D)甲 4 月、乙 8 月
11. 近年來中國計畫在西部邊疆打通一條新的絲綢之路 (圖六)，興建中國和巴基斯坦之間的跨國鐵路網。中國希望藉由這個計畫讓巴基斯坦成為中國進口重要資源的轉運站。圖六中巴鐵路的規畫路線上，沿途及起始點都市的主要宗教信仰特色為何？(A)星期日需進教堂禱告 (B)居民禁食牛肉 (C)宗教經典為社會戒律 (D)社會階級分明。



圖六

◎題組一：早自 15 世紀葡萄牙佔領馬六甲，再到荷蘭進入東印度群島、西班牙佔據菲律賓群島，後來 18 世紀英國殖民印度半島與馬來半島，法國則控制中南半島東半部。東南亞與南亞國家的文化、經濟發展受到殖民歷史的影響相當大，例如宗教信仰、熱帶栽培業及工礦業活動等，成為今日產業活動的基礎。

12. 東南亞受殖民母國影響，出現許多大型都市，例如馬尼拉、雅加達等。東南亞大型都市多在哪種地理位置？(A)河川主流、支流交會處 (B)海運便利的港口 (C)山麓沖積扇 (D)國界邊境地區
13. 東南亞的何種文化環境特徵，是受到西方殖民母國的影響？

(A)越南的河粉飲食文化(B)泰國玉佛寺敬拜四面佛(C)菲律賓信奉天主教(D)印尼信奉伊斯蘭教。

◎題組二：區域全面經濟夥伴協定(Regional Comprehensive Economic Partnership)，簡稱 RCEP，於 2020 年 11 月 15 日在 RCEP 領袖峰會以視訊方式簽署，包括東協(ASEAN)10 國(印尼、柬埔寨、緬甸、寮國、越南、汶萊、泰國、新加坡、菲律賓、馬來西亞)，及中國大陸、日本、韓國、澳大利亞、紐西蘭，共計 15 個成員國。協定於 2022 年 1 月 1 日對已批准之成員國生效。彼此成員國在未來 10 年內逐步降低為 0 關稅。

14. 東南亞國協(ASEAN)的 10 國為最早的組織主體，以下東南亞各國優勢敘述何者有誤？

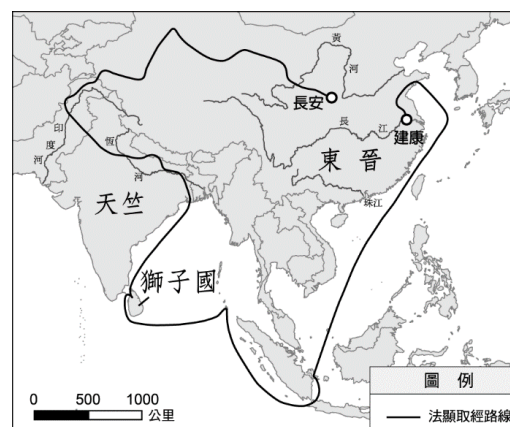
(A)泰國製造業中心，出口橡膠、水稻大國
(B)馬來西亞提供資金、技術
(C)印尼擁有廉價勞力，出口油棕、咖啡等經濟作物
(D)新加坡位處麻六甲海峽出口，控制海運要道

15. 印度本有望加入 RCEP 組織，但於 2019 年宣布退出該合作組織，下列何者退出的理由最具說服力？

(A)為保護自己國內產業，拒絕 0 關稅開放市場
(B)為維護印度教文化傳統，拒絕外來文化入侵
(C)農業能自給自足，不需要與外國生意往來
(D)擁有眾多軟體工程師，但與東南亞市場需求不同

◎題組三：法顯是魏晉南北朝時期的和尚，於 399 年從長安（今西安）出發，經由絲路前往天竺（今印度）求法，在天竺居住 10 年後，從恆河往南航行到獅子國（今斯里蘭卡）。413 年，法顯從獅子國返回建康（今南京）。回國後，他將西行取經的見聞寫成佛國記，是現存最早關於中國與南亞海陸交通的文獻。請觀察法顯取經路線示意圖（圖七），並回答下列問題：

圖七



16. 法顯的取經路線沒有經過以下那個地理區？(A)中南半島(B)錫蘭島(C)印度大平原(D)東印度群島
17. 法顯在回去中國的航線經過南海，剛好處於強勁的順風期間，有利於縮短航行時程，請問該期間最有可能是哪個月份區間？ (A)3~4 月 (B)6~7 月 (C)9~10 月 (D)12~1 月

歷史、公民尚有試題，請繼續作答～

新北市立板橋國中 111 學年度第 2 學期第 1 次段考八年級社會領域（地理科）地理答案卷

1	2	3	4	5
D	C	D	B	A
6	7	8	9	10
A	C	D	B	D
11	12	13	14	15
C	B	C	B	A
16	17			
A	B			