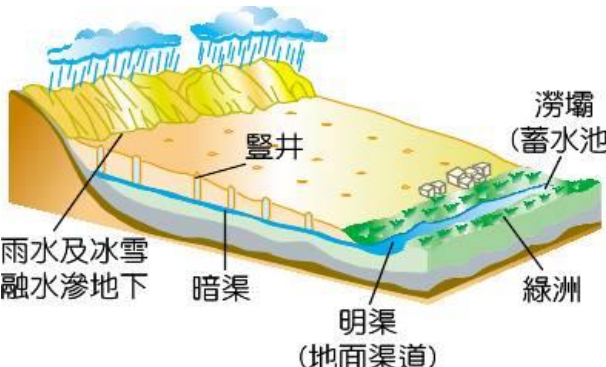


新北市立板橋國中 111 學年度第 2 學期第 2 次八年級段考社會領域（地理科）試題卷

- 西亞地區經常出現大規模的地震災害，因位於板塊接觸地帶，加上當地房屋普遍不堅固，因此往往造成相當慘重的傷亡。請問：容易發生地震的地區為【圖一】的哪些地區？
(A)甲、乙 (B)乙、丁 (C)甲、丙 (D)丙、丁。
- 底格里斯河雖為美索不達米亞平原重要的水源，卻也在歷史上發生多次大洪水，造成許多古王國的消逝。請問：若要掌握底格里斯河的水位變化，應注意【圖一】哪個地區的降水情形？
(A)甲 (B)乙 (C)丙 (D)丁。



【圖一】



【圖二】

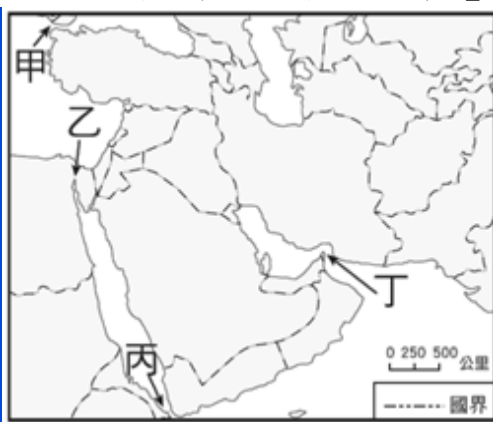


【圖三】

- 為適應西亞乾燥的氣候環境，使得此區農業經營在不同的地區有不同的特色。【圖二】與【圖三】分別是一種經營農業所呈現的特殊景觀。請問：其分別分布在【圖一】中的哪個地區？
(A)圖二:甲，圖三:乙 (B)圖二:丙，圖三:丁 (C)圖二:丁，圖三:甲 (D)圖二:乙，圖三:丙。
- 【圖四】2021/3/23 一艘隸屬於長榮海運的「長賜號」(Ever Given) 貨櫃輪驚傳擱淺於蘇伊士運河，導致雙向航道阻塞，大批船隻因此「打結」，引發國際關注。由於蘇伊士運河是連接歐亞間航程最短水路的必經之地，因此對國際產業供應鏈的影響極大，彷彿有全世界都在等「長賜號」，因此有「大牌長榮」的戲稱。請問：當時擱淺在蘇伊士運河的長賜號其位置在【圖五】的哪個地區？(A)甲 (B)乙 (C)丙 (D)丁。



【圖四】

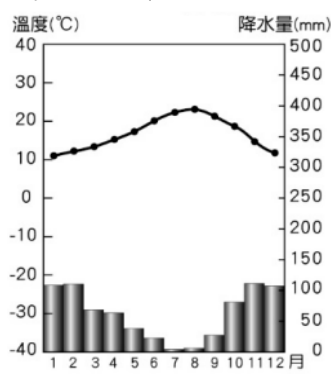


【圖五】

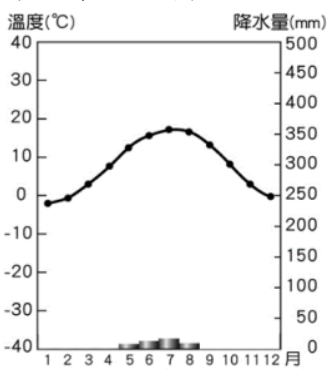


【圖六】

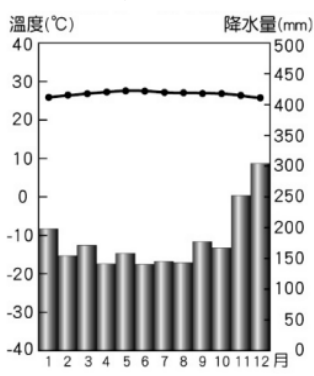
- 【圖六】為全球最艱難賽事之一—撒哈拉沙漠馬拉松 (Marathon des Sable):最初在 1984 年，一名叫 Patrick Bauer 的 28 歲法國男子，他決定一個人徒步穿越撒哈拉沙漠，背著 35 公斤的食物和水，他花了 12 天走完 350 公里的沙漠，沿途沒有村落、沒有綠洲，而這冒險的念頭竟催生了地獄式的沙漠馬拉松。請問：世界上最大的沙漠—撒哈拉沙漠，其形成的主要原因為何？(A)副熱帶高氣壓籠罩 (B)位於季風的背風處 (C)海陸性質差異大 (D)高聳山脈阻擋，易出現乾燥焚風。
- 承上題，下列四張氣候圖中，何者最能代表撒哈拉沙漠的氣候圖？



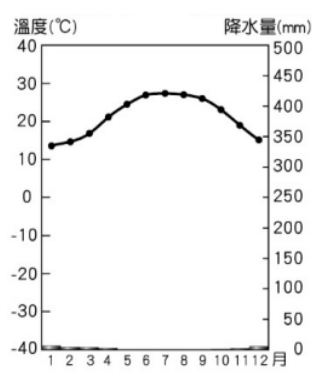
(A)



(B)



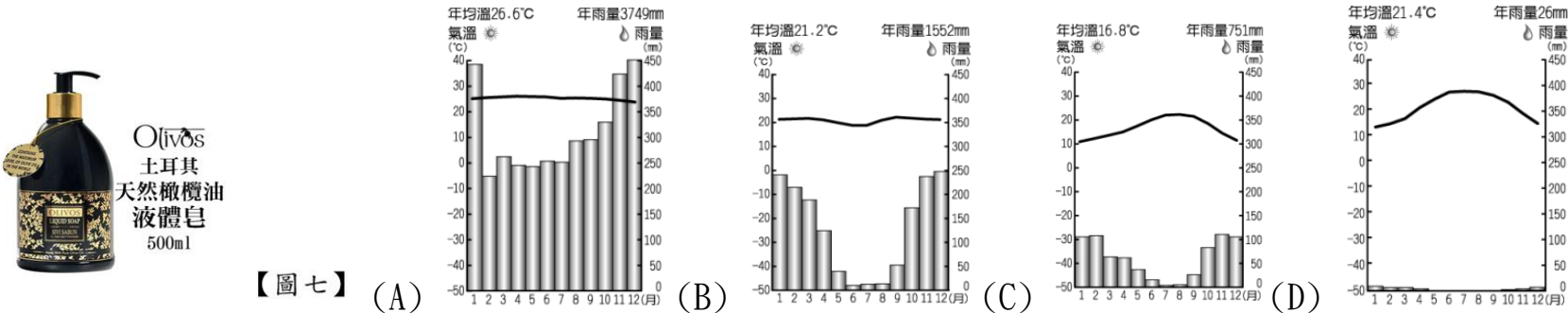
(C)



(D)

- 2020 年摩洛哥與以色列正式建交，以色列外交部長 17 年來首次訪問摩洛哥，將先與摩洛哥簽下有關文化、體育與青年交流的合作協議，邁開雙方關係的第一步。過去在美國的努力下，以色列與阿拉伯聯合大公國、蘇丹等阿拉伯國家也改善了外交關係，這無疑對改善以阿衝突的緊張關係助益良多。請問：下列何者並非造成以阿衝突的原因？(A)宗教對立 (B)領土紛爭 (C)種族差異 (D)爭奪石油。

8. 伊斯蘭文化可說是阿拉伯人適應當地環境或歷史背景的表現。穆斯林一生有五項必須實踐的基本功課——念、禮、齋、課、朝，稱為「五功」。請問：以下關於五功的敘述何者正確？(A) 念：教徒必須時時誦念南無阿彌陀佛 (B) 朝：穆斯林一生至少到伊斯坦堡朝聖一次 (C) 齋：在齋戒月期間，從日出進食到日落 (D) 課：穆斯林每年須將錢財的盈餘，按固定的比率繳出一部份。
9. 在伊斯蘭教的教規中認為：水是真主的恩賜，凡屬真主子民者皆得以共享。下列哪些紛爭是有關水資源的爭奪？(A) 伊拉克入侵科威特 (B) 衣索比亞興建復興大壩 (C) 敘利亞內戰 (D) 庫德族尋求獨立。
10. 正在土耳其旅遊的老師，巧遇當地穆斯林正在進行伊斯蘭文化「五功」中的「禮」。請問：根據其相對位置判斷，當地的穆斯林朝拜方向為何？(A) 東 (B) 西 (C) 南 (D) 北。
11. 從土耳其回國後的老師，帶回了【圖七】的伴手禮要送給親朋好友，產品有一段提到：此地區夏季乾燥少雨，冬季降水較多，生長季無法配合雨季，所以該地的植物不是葉子較細，就是葉片較厚，葉面具有蠟質，以減少水份蒸散，作物的種類以葡萄、橄欖、柑橘等為主。請問：橄欖的生長的地區，符合下列哪一張氣候圖？



【圖七】 (A) (B) (C) (D)

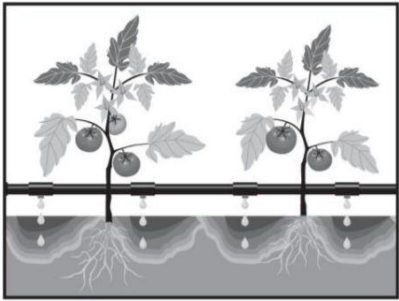
12. 承上題，該地區的降水量分布情況，主要受到下列哪一風向的影響最為明顯？(A) →(B) ←(C) ↓(D) ↑。
13. 老師從土耳其回國後，預計下次旅遊安排前往的國家是沙烏地阿拉伯，【圖八】為該國的國徽，由兩個圖案構成：上方為西亞地區最常見的樹，代表農業和綠洲；下方兩柄交叉的彎刀代表對伊斯蘭信仰的捍衛。請問：其國徽上方的樹種最可能為下列何者？(A) 橄欖樹 (B) 椰子樹 (C) 棗椰樹 (D) 棕櫚樹。



【圖八】

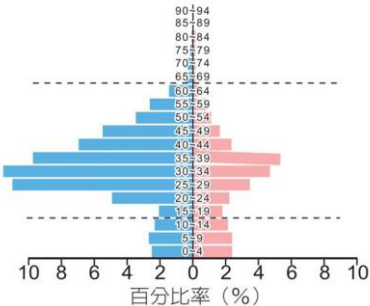
國 家	甲	乙	丙	丁
伊斯蘭教遜尼派	11	97	70	12
伊斯蘭教什葉派	88	0	0	0
基督教	1	3	30	5
猶太教	0	0	0	83

【表一】



【圖九】

14. 西亞是一個「時有外患，內憂不斷」的區域，造成其內部紛爭不斷的原因有很多，宗教派系對立是其原因之一，因對於教義的不同解釋而造成閥牆，其中以什葉派和遜尼派之爭最為激烈，請問：【表一】中哪個國家最可能為伊朗？(A) 甲 (B) 乙 (C) 丙 (D) 丁。
15. 承上題，【表一】中哪一國家以科技為主要產業，發展出【圖九】的灌溉技術，可有效減少水分蒸發，達到節水功效，也避免土壤鹽鹼化的問題？(A) 甲 (B) 乙 (C) 丙 (D) 丁。
16. 杜拜世界博覽會原訂於 2020 年舉辦，但由於疫情攪局，延到 2021 年 10 月 1 日才正式開幕，同時也是史上第一次在中東地區主辦的世博會，對於杜拜來說格外具有代表性，整個阿拉伯世界徹夜慶祝狂歡，這不只是杜拜的成功，也是所有穆斯林國家的榮耀。請問：促使杜拜自 1970 年代起即進行多元化的建設與發展的主要原因為何？(A) 勞力成本提升，促使產業升級(B)降低對單一礦產資源的依賴，避免受到國際價格波動影響 (C) 國家基礎建設不足，經濟發展受限 (D) 國內族群複雜多元，社會動盪不安。
17. 【圖十】為 2010 年西亞地區阿拉伯聯合大公國的人口金字塔圖，請問：由此圖中可得知下列關於該國的人口狀況描述何者正確？(A) 近十年來該國的總人口數不斷增加 (B) 國家正面臨高齡化的問題 (C) 該國性別比極高，因為施行一胎化政策且有嚴重的重男輕女觀念 (D) 該國境內工作機會多，吸引大量的男性外籍勞工前往。



【圖十】

新北市立板橋國中 111 學年度第 2 學期第 2 次段考 8 年級社會領域(地理科)試題答案

1	2	3	4	5	6	7	8	9	10
C	A	B	B	A	D	D	D	B	C
11	12	13	14	15	16	17			
C	C	A	C	A	B	D			

1-5 CABBA

6-10 DDDBC

11-15 CACAD

16-17 BD