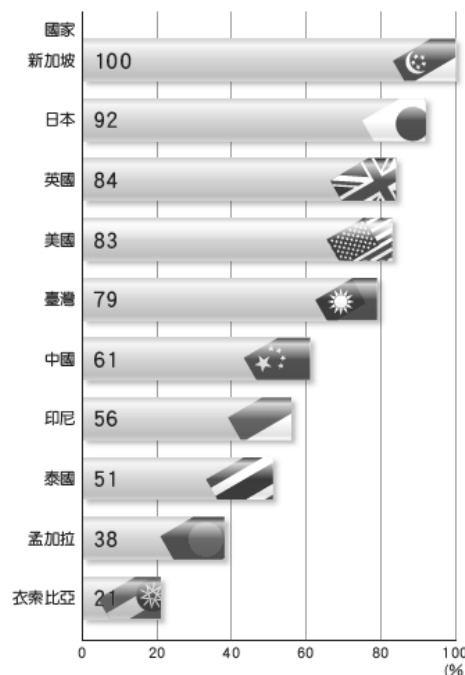


# 新北市立板橋國中111學年度第二學期第3次段考七年級社會領域(地理科)試題卷

- 下列關於「鄉村聚落」的敘述，何者正確？(A)居民主要從事第三級產業活動 (B)人口密度通常較都市聚落高 (C)提供都市居民醫療及金融服務 (D)若交通便利，易發展成為都市。
- 「中華民國□□□主管全國運輸、觀光、氣象、郵政等領域，負責相關政策、法令規章之釐定和業務執行之督導。」根據上述，空格處應填入哪一個行政機關？(A)內政部 (B)外交部 (C)教育部 (D)交通部。
- 現今透過通訊衛星的傳輸，世界各地的民眾可以利用多種方式取得訊息或相互連繫，其中不包括下列何者？(A)參與線上直播購物 (B)觀看卡達世足賽即時轉播 (C)郵寄手寫的實體聖誕賀卡 (D)加入google classroom上課。
- 自2019年12月31日至2020年1月23日期間的covid-19疫情初期，台灣即嚴格執行邊境檢疫，加強入境旅客之發燒篩檢，以阻絕疫情於境外，主要是防止病毒透過何種管道傳播？(A)陸運 (B)空運 (C)河運 (D)海運。

◎圖一為十個國家都市化程度比較圖，請依圖回答第5-6題：

- 關於「都市化程度」的定義，下列何者正確？(A)都市人口密度的高低 (B)都市居民的教育程度高低 (C)人口由鄉村向都市集中的過程 (D)人口由都市向鄉村集中的過程。
- 由圖中資料推估，下列敘述何者為非？(A)衣索比亞都市化程度最高 (B)新加坡全國的人口皆住在都市 (C)台灣的經濟發展程度較孟加拉高 (D)日本約有92%人口從事第二、三級產業。
- 交通部2019年規劃「高鐵延伸宜蘭計畫」預計開挖十座山岳隧道，並避開翡翠水庫集水區，此路線將會對哪一座山脈的動植物棲息地造成破壞？(A)雪山山脈 (B)玉山山脈 (C)中央山脈 (D)海岸山脈。
- 2023年的花蓮原住民聯合豐年節將在7/21-7/23舉辦，並邀請大溪地、夏威夷等同語系民族共同參與，彼此分享樂舞的美好。下列哪一個標題最能符合此次慶典的主軸？  
(A)「花現東海岸」(B)「歡迎來作客」  
(C)「南島的故鄉」(D)「當我們童在一起」。



【圖一】

- 圖二為宥叡某次前往台東旅遊的火車票，此班普悠瑪列車從台北發車，順時針繞行至台灣東部，並未行駛於圖三中哪一條鐵路幹線上？(A)甲 (B)乙 (C)丙 (D)丁。
- 承上題，宥辰在旅遊網站上查詢到以下介紹：「此地四季皆美，春天賞櫻、夏天看螢火蟲、秋天有楓葉、冬天則可以賞梅，也絕對不能錯過獨有的四大奇景：日出、夕陽、雲海和神木。」，他應搭乘圖三中哪一條鐵路支線體驗此等四季皆美的觀光勝地？(A)① (B)② (C)③ (D)④。

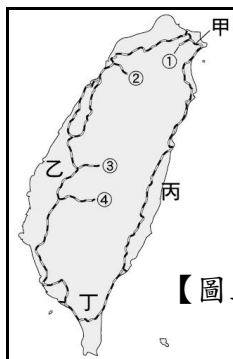
2016.06.09 臺灣鐵路局 【圖二】  
自強 T.C.Ltd Exp 5234 次

台北 Taipei → 台東 Taitung  
07:43 開 11:28 到  
2 車 41 號 Car. 2 Seat. 41  
普悠瑪 Puyuma Exp

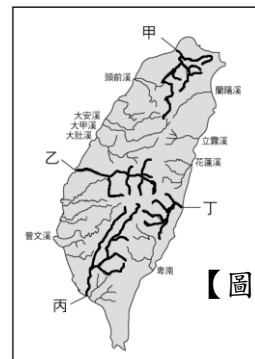
NT\$ 783 元  
070601-0001-123 限當日當次車有效 18:00

請配合查驗出示證件  
車票不得轉讓

身分證末三碼  
U 123



【圖三】



【圖四】

- 彰化縣和雲林縣為中部區域重要的稻米、花卉、蔬菜供應地，該區主要仰賴圖四中哪一條河川的水源灌溉？(A)甲 (B)乙 (C)丙 (D)丁。
- 南部區域日照充足，是熱帶水果的重要產區，其中不包括何者？(A)梨山的蘋果 (B)枋山的芒果 (C)旗山的香蕉 (D)關廟的鳳梨。

13. 「等39年終於來了！金門麥當勞有望7月開幕！」但早在1984年1月28日，台灣第一家麥當勞進駐台北市即創下創單日業績百萬的紀錄。此現象反映出本島與離島各方面的差異，不包括何者？  
(A)總人口數 (B)交通易達性 (C)國家公園數量 (D)每戶可支配所得。



◎圖四為網友分享自行繪製「同心圓狀」台北捷運路網圖，讓旅客方便定位市中心和規劃路徑，以做為應用上的輔助，站跟站之間的相對位置跟真實狀況相當接近。請參考本圖並回答第14-17題：

14. 此同心圓是以哪一個捷運站為圓心？(A)中山站 (B)北門站 (C)台北車站 (D)臺大醫院站。  
15. 新北市的行政區中，何者位於同心圓的最外圈，離台北市中心最遠？(A)土城區 (B)板橋區 (C)新莊區 (D)三重區。  
16. 由於捷運系統的完善，解決了龐大的通勤需求，使得台北市中心人口逐漸向周邊的新店、木柵、北投、淡水等區遷移，此現象稱為何者？(A)都市化 (B)郊區化 (C)商業化 (D)全球化。  
17. 根據路網圖顯示，台北捷運並未到達哪一座城市？(A)全台人口最多的都市 (B)全台東南亞國際移工人數最多的都市 (C)台灣的政治、經濟與文化中心 (D)台灣中小企業與精密機械最重要的聚集地。

## 地理試題結束

新北市立板橋國中111學年度第二學期第3次段考七年級社會領域(地理科)試答案卷

【解答】

01-05 DDCBC

06-10 AACDD

11-15 BACCA

16-17 BD