

汪老師在上歷史課時以「冷戰對於台灣的影響」為題要求同學們各繳出一份報告，學生小軒找到了如下資料：「在陽明山上靠近文化大學附近，有佔地四萬餘坪的土地，現今留有一大群美軍宿舍群，這些宿舍的興建是源於1950年代○○爆發，美國成立美軍顧問團駐台並派遣第七艦隊協防台海；1952年起，當時政府以美援的資金徵收山上農地興建許多西式住宅，供美國軍眷使用，山上的一隅一度形成了美國人的社區，在社區中有福利社與俱樂部，供應著美國軍眷可口可樂、牛排……等餐飲，這些飲食文化對於的當時台灣人是很新奇的體驗。不過，在1979年美國卻與我國斷交，轉而與中華人民共和國建交，美國原先與我國所簽訂的《中美共同防禦條約》廢止，駐台美軍最後離台，目前我國在國際上與美國維持非官方往來關係。」




18. ( ) 請問文中所提的美軍顧問團會在1950年代駐防台灣，主要目的為何？  
 (A) 解決日本軍國主義對世界威脅 (B) 防範共產陣營國家向外擴張  
 (C) 將台灣納入美國海外的殖民地 (D) 準備直接出兵蘇聯將其消滅。
19. ( ) 請問文中所提1950年代美國會派顧問團及第七艦隊協防台海，主要和哪場戰爭有關？  
 (A) 越戰 (B) 韓戰 (C) 第一次世界大戰 (D) 第二次世界大戰。
20. ( ) 請問《中美共同防禦條約》原先是在甚麼時代背景下所簽訂？  
 (A) 我國加入東協被拒 (B) 我國退出了聯合國 (C) 我國加入東約被拒 (D) 我國加入WTO。
21. ( ) 請問1979年中華人民共和國會跟美國建交，與中共實行的何項政策最相關？  
 (A) 文化大革命 (B) 反右鬥爭 (C) 人民公社 (D) 改革開放。

小雨在整理會考筆記時將他在八年級歷史課所學到的，在近代中國歷史上所發生過學生運動做成一個比較表，但他不小心打翻飲料使筆記汙損，請幫他完善下表筆記內容：

運動名稱	★抗爭初始原因★(超重要！)	結果
(甲)	抗議新冠肺炎防控嚴格	中國防疫措施放鬆
(乙)	山東主權受日本侵犯	中國代表不敢簽約
(丙)	要求中國做出民主轉型	

22. ( ) 請問表中有關甲、乙、丙的運動發生的先後順序，下列何者排列正確？  
 (A) 甲乙丙 (B) 丙甲乙 (C) 乙甲丙 (D) 乙丙甲。
23. ( ) 請問丙運動最終的結果為何？  
 (A) 許多民眾被軍隊鎮壓、逮捕 (B) 國家因此實行改革開放  
 (C) 紅衛兵開始上街批鬥父母 (D) 毛澤東因此事下台負責

有一個數位典藏單位正在替一些文物資料數位建檔，建檔資料如下：

編號	1	2	3
樣品 圖片			
內容 描述	類型：海報 當時中共與蘇聯交惡，使得中共將蘇聯連同美國都視為敵人。	類型：雜誌 當時美國曾派一支桌球國家隊赴中國與中共代表隊進行了一場友誼賽，此被視為中美交好的開始。	類型：鈔票 當時蘇聯極力協助中共發展各項民生建設，因此中共相當依賴蘇聯，甚至喊出要對蘇一面倒。

24. ( ) 請問這三份資料出現的先後應為？  
(A) 3=>1=>2 (B) 2=>1=>3 (C) 1=>2=>3 (D) 3=>2=>1。
25. ( ) 請問編號1資料的由來應與哪項歷史背景相關？  
(A) 中共執行大躍進 (B) 香港回歸中國 (C) 中共執行改革開放 (D) 中共加入WTO。
26. ( ) 請問這一系列資料適合什麼標題？  
(A) 回憶中共經濟起飛 (B) 中共對台政策演變 (C) 美中蘇的三角關係 (D) 中美二元對立局面。
27. ( ) 請問編號1資料出現的時間點，當時的中共領導人是誰？  
(A) 鄧小平 (B) 習近平 (C) 江澤民 (D) 毛澤東。

日本知名漫畫家手塚治虫在1970年代開始連載知名漫畫《怪醫黑傑克》，故事大綱是在講述主角間黑男(別名：黑傑克)，在經歷了坎坷的童年後蛻變成一位外科手術精湛的醫師，他憑藉自身高超的本領常向死神發起挑戰在手術台上救回了一個又一個的生命。

但是，黑傑克卻有一個名叫奇利柯的死對頭，他是一位美國籍醫生，有著媲美黑傑克的醫術，他常常會搶在黑傑克之前，將一些受病魔折磨許久的病人以安樂死的方式讓其死去，他之所以會這麼做，也是源自於他曾經在1960~1970年代，參加過美國在東南亞的戰爭，他在東南亞的戰場上看到了許多美國大兵受戰火摧殘，在臨死之前都只能非常痛苦的死去，因此，奇利柯開始重新思考生命的意義，往後決定幫助受病魔折磨許久的病人，以舒服的姿態嚥下最後一口氣，這是他對生命尊重的體現。

28. ( ) 請問對應東亞史的背景，文中奇利柯醫生應是參加了哪場戰爭？  
(A) 第二次世界大戰 (B) 韓戰 (C) 國共內戰 (D) 越戰。
29. ( ) 承上題，那場戰爭對於後來的世界局勢有何影響？  
(A) 全球因此陷入冷戰局面 (B) 朝鮮半島目前處於分裂  
(C) 越南至今成為共產國家 (D) 台海兩岸政治陷入對立。
30. ( ) 請問在奇利柯參加那場戰爭時，在當時的中國社會中可以看到甚麼情景？  
(A) 美國選擇了和中共建交 (B) 紅衛兵在四處搞破壞  
(C) 新聞出現香港回歸消息 (D) 六四天安門事件發生。
31. ( ) 在冷戰期間東南亞地區國家為防共產主義紛紛加入東約或東協，請問：有關這兩個組織的敘述何者正確？  
(A) 台灣有加入東協 (B) 東協如今不再反共 (C) 東約至今仍存在 (D) 東約成功阻止越戰。

大陸電影《活著》的劇情中，藉著福貴的視角，見證了中共自建國以後中國的社會變遷，其中，電影中有一幕畫面演到了福貴的女兒鳳霞產子的過程，當時鳳霞已經要臨盆了，福貴一家瘋瘋火火地將鳳霞送入醫院，但到了醫院時才發現那些經驗老到的醫生早已被送入勞改營，因為老醫生們被冠上違背共產黨思想的罪名，醫院後來是由一群身戴紅臂章、對於毛澤東有無限憧憬、但醫療經驗明顯不足的青年醫生，去處理病患的病情。

最終，鳳霞的孩子順利出世，但鳳霞因在生產的過程中，突然大出血，那群青年醫生來不及妥善處理，她最後撒手人寰，留下福貴一家要承受白髮人送黑髮人的痛苦。

32. ( ) 請問根據文中所提，醫院之所以會被一群「對於毛澤東有無限憧憬、但醫療經驗明顯不足的青年醫生」給佔據，可能是因為當時中國社會正處於甚麼情況？  
(A) 文化大革命期間 (B) 大躍進期間 (C) 改革開放期間 (D) 抗美援朝期間。
33. ( ) 請問根據文中所提，中國當時為何會充斥毛澤東崇拜？  
(A) 因為要鞏固毛澤東政治勢力 (B) 因為大躍進政策大成功  
(C) 因中共成功與美國完成建交 (D) 因為中共成功收回香港。
34. ( ) 請問文中所提的社會局面，最終因發生何事而終止？  
(A) 中共與美國建交 (B) 大饑荒發生 (C) 毛澤東逝世 (D) 中共加入WTO。

新 北 市 立 板 橋 國 中 111 學 年 度 第 2 學 期 第 3 次 段 考 八 年 級 社 會 領 域（ 歷 史 科 ） 答 案

18. B	19. B	20. C		
21. D	22. D	23. A	24. A	25. A
26. C	27. D	28. D	29. C	30. B
31. B	32. A	33. A	34. C	