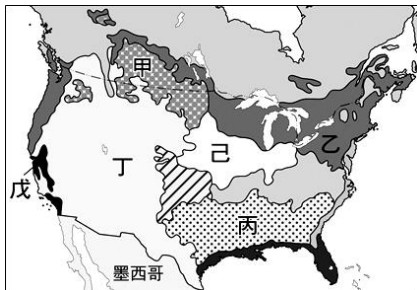


新北市立板橋國中 112 學年度第 1 學期第 2 次段考 9 年級社會領域(地理科)試題卷

1. 巴西有個說法：『生男孩就去踢球，生女孩就當舞者』。『足球』與『森巴舞』幾乎成為巴西的代名詞。其實森巴舞並非發源於美洲，而是融合各地移民文化發展而成。請問：中南美洲的多元文化景觀主要是由下列哪些族群所融合而成的？（甲）非洲黑人（乙）亞洲華人（丙）歐洲白人（丁）印地安人
 (A) 甲乙丙 (B) 甲丙丁 (C) 乙丙丁 (D) 甲乙丁。
2. 在世界美食大展中，各國的廚師將分別以各大洲的代表食材做成美味料理來爭取佳績。請問：下列哪道料理最有可能是來自中南美洲的廚師所呈現的特色餐點？
 (A) 香草烤雞佐卡非醬 (B) 抹茶千層蛋糕 (C) 玉米捲餅佐莎莎醬 (D) 海鮮酸辣粉。



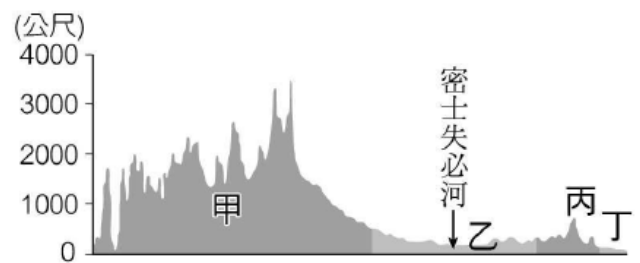
3. 保羅是一位美國的保險員，專門為各地農業地主們量身打造農業保險，萬一災害或損失發生，地主可以得到保險公司的賠償金。請問：下列哪一個保單最有可能是【圖一】己地地主可能理賠的項目？
 (A) 颶風來襲導致果樹落果嚴重 (B) 地震引起海嘯造成葡萄損失
 (C) 暴風雪導致鮮奶產量降低 (D) 龍捲風襲擊造成玉米田損毀
4. 承上題，美國地主之所以需要農業保險來分擔各項損失，下列哪一個可能是最主要的原因？
 (A) 美國大地主的收入低，因此需要保險來保障生活 (B) 生產規模很大，需承受的風險也會比較高
 (C) 作物價格容易受制於中國，影響農民收入 (D) 採用集約的農業生產模式，投入的生產成本較高。
5. 核桃【圖二】是胡桃屬植物的核果，有豐富的蛋白質以及必需胺基酸，是許多菜餚和甜點的主要原料或裝飾，例如布朗尼蛋糕、肉桂捲等。美國是世界上最大核桃出口國，有 99% 產自【圖一】的戊處，因為該地氣候非常適合堅果類的種植，農產面積總達 22 萬英畝。請問：核桃適合生長在何種氣候環境下？
 (A) 夏雨冬乾，乾溼分明 (B) 夏雨集中，年溫差大 (C) 全年有雨，年溫差小 (D) 夏乾冬雨，氣候溫和。



【圖一】



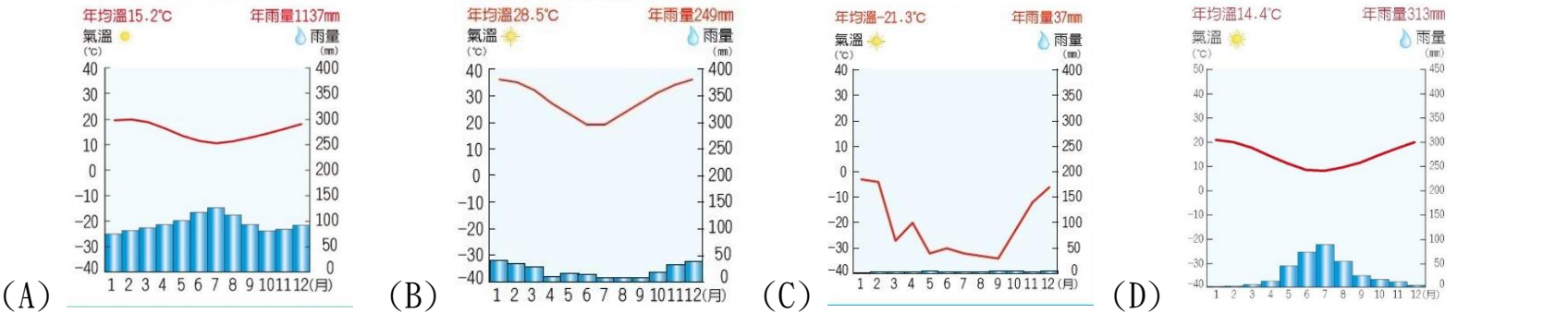
【圖二】




【圖三】

6. 美國足球聯盟(MLS)成立後積極拉攏知名球星，讓觀眾人數及技術水準快速上升。其中某地區的球隊取名為聖荷西地震隊，和當地的自然環境關係甚大。【圖三】是沿著 40°N 的北美洲地形剖面圖，請問：若根據其隊名判斷，則該隊來自的地點可能位於【圖三】中的何處？
 (A) 甲 (B) 乙 (C) 丙 (D) 丁。
7. 在墨西哥，亡靈節是個重要節日，可以追溯到千年前的古文明，對他們而言，死亡只是周期裡的一段，過世親人或朋友的回憶與靈魂依舊存在，傷心的悼念對於他們而言是不敬的行為。今日的墨西哥亡靈節保留了這些古民族面對死亡的信念，且結合被殖民前的傳統宗教儀式與殖民母國的宗教信仰活動。
 請問：墨西哥殖民母國主要來自何地？ (A) 義大利半島 (B) 巴爾幹半島 (C) 伊比利半島 (D) 中南半島。
8. 南美洲的聖保羅、布宜諾斯艾利斯市區內到處可見擁擠的人潮和貧民窟，與北美洲的大都市如紐約等市區欣欣向榮的景象不同。請問：造成南美洲許多城市呈現「都市化程度高」的現象其主要原因為何？
 (A) 都市工商業發展，拉力太強 (B) 鄉村經濟蕭條，推力太強
 (C) 鄉村出生率及死亡率均偏低 (D) 都市有大批非洲裔移民，造成移入率高
9. 哥倫布在皇室贊助下遠渡重洋登陸了拉丁美洲。其登陸地點的氣候溼熱、礦產豐富，因而引起後來歐洲國家陸續前往美洲殖民，往後幾百年間促成了歐洲大陸與美洲大陸之間物種的交換，稱為「哥倫布大交換」。請問：哥倫布若要為這項偉大的壯舉寫一份航海報告，則下列哪一個標題最為適合？
 (A) 揭開神祕的印度洋 (B) 挑戰極地北極海 (C) 探索未知的大西洋 (D) 航向世界最大洋。
10. 2018 年美國前任總統川普與加拿大、墨西哥總統重新簽訂自由貿易協議，稱為 USMCA 美墨加協議，也被稱為北美自由貿易協議 2.0。USMCA 與 EU(歐盟)一樣同屬區域經濟結盟，EU 成員中的東歐國家提供了相對廉價的勞力，降低了工業生產成本。請問：USMCA 成員中，誰也扮演了類似東歐國家的角色？
 (A) 美國 (B) 巴拿馬 (C) 墨西哥 (D) 加拿大。

11. 僅次於挪威，全世界第二大的鮭魚養殖國智利，2018 年 7 月初南部海域因嚴重暴風雨破壞了海上箱網，造成超過 69 萬條人工養殖的大西洋鮭逃離。請問：世界前兩大鮭魚養殖地區—挪威、智利南部，同屬於下列何種氣候類型？



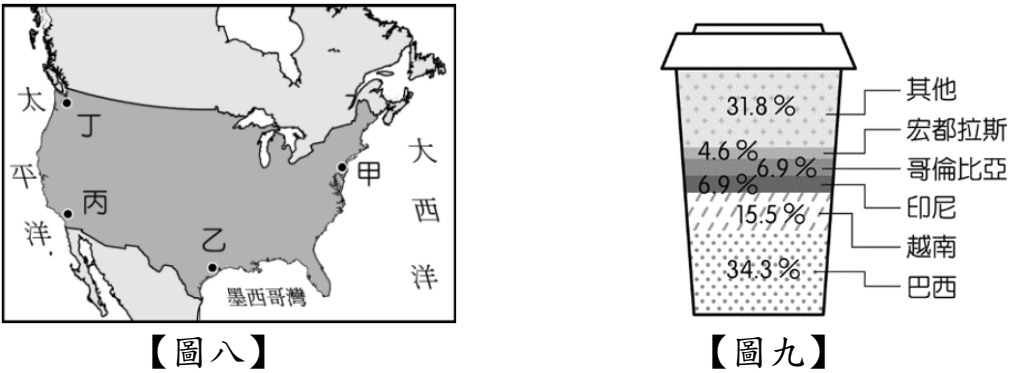
12. 【圖四】為某國的國徽，左上角那隻動物正是該國的國獸—駱馬。駱馬擁有耐寒耐旱又可負重的特性，使牠成為當地人民生活不可或缺的一環。請問：根據駱馬的特性，在【圖五】中的哪種氣候區比較容易看見牠們的蹤跡？ (A) 乙 (B) 丁 (C) 戊 (D) 己



13. 【圖六】曾是最受歡迎的卡通之一，主角 Dora 和 Diego 都非常喜歡戶外活動，經常與朋友前往不同的地方探險，一起幫助許多動物並解鎖各種任務。本季的場景主要為【圖七】的景觀，其故事內容提及該地大火遲遲無法撲滅，他們擔心世界之肺可能就消失，影響全球氣候深鉅，他們將前往該地拯救動物們。請問：Dora 和 Diego 的任務地點最可能出現在【圖五】的哪一種氣候代號？ (A) 甲 (B) 乙 (C) 丙 (D) 戊

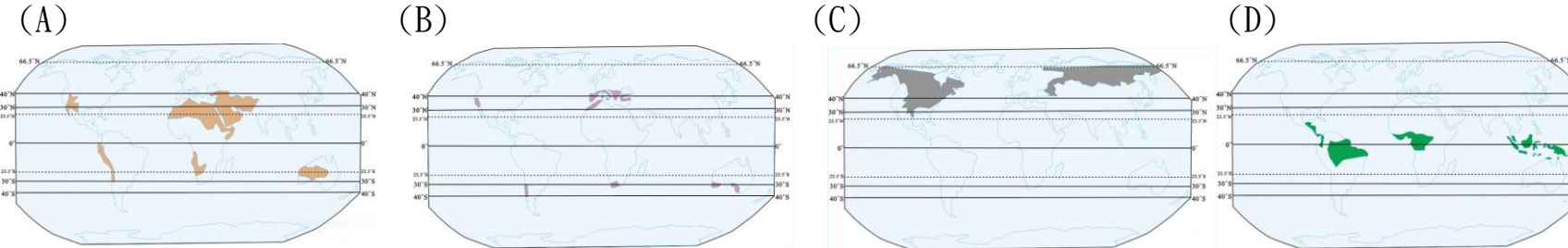
14. 華裔籃球好手林書豪被《時代雜誌》列為 2012 年百大最具影響力人物，過去曾在 NBA 紐約尼克隊因表現優異，捲起了一陣「林來瘋」後，後來轉至休士頓火箭隊，隨後又被交易至洛杉磯湖人隊等。請問：上述林書豪所效力球隊的所在地，未包括【圖八】中何者？ (A) 甲 (B) 乙 (C) 丙 (D) 丁。

15. 臺灣的臺塑企業選擇在【圖八】中「乙」處設立「石化工廠」，成為跨國企業的經營方式。請問：台塑選擇此區設廠的最主要區位條件為下列何者？ (A) 開發較早 (B) 原料充足 (C) 勞工眾多 (D) 交通便利



16. 咖啡是風行全世界的飲料作物，現代人工作、熬夜莫不仰賴咖啡提神，使得全球咖啡市場高達數十億美金。【圖九】是世界咖啡產量前五大國比例圖。請問：咖啡產量前五大的國家在發展上有何相似的條件？ (A) 殖民歷史背景 (B) 高素質的勞工 (C) 加工技術卓越 (D) 消費能力較高。

17. 承上題，依該作物的生長條件判斷，最可能分布於下列哪一幅圖標示的區域？ (A) (B) (C) (D)



新北市立板橋國中 112 學年度第 1 學期第 2 次段考 9 年級社會領域(地理科)試題答案

1	2	3	4	5	6	7	8	9	10
B	C	D	B	D	A	C	B	C	C
11	12	13	14	15	16	17			
A	B	A	D	B	A	D			

1-5 BCDBD

6-10 ACBCC

11-15 ABADB

16-17 AD