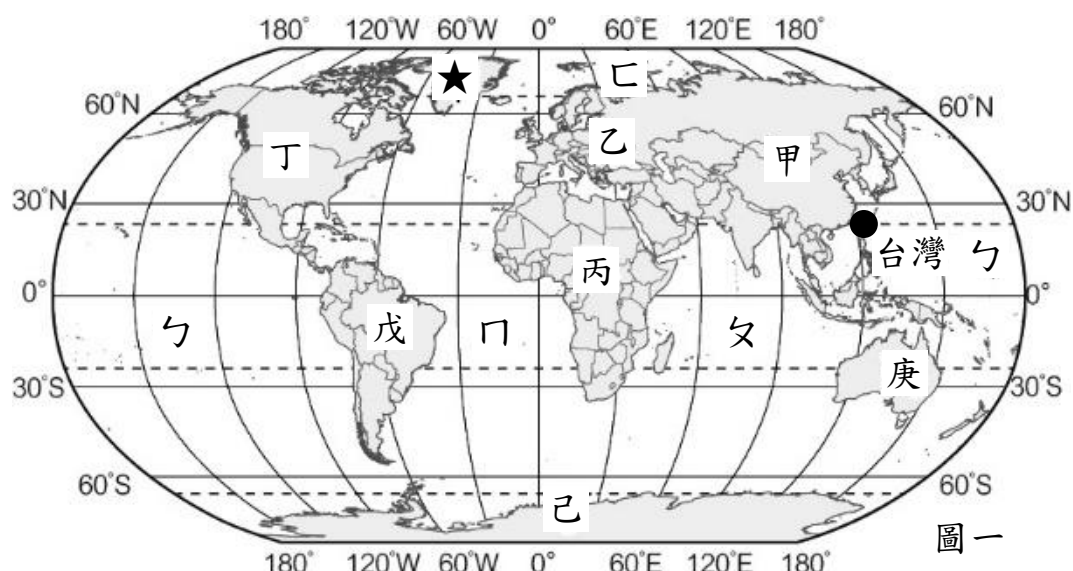
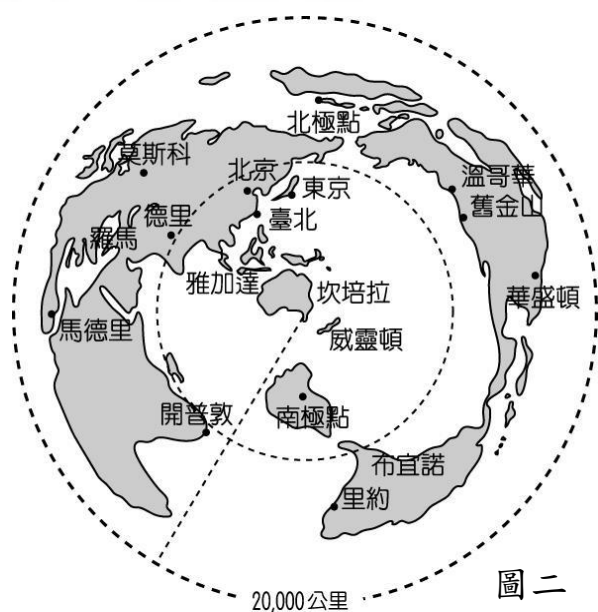


新北市立板橋國中 112 學年度第 1 學期第 1 次七年級段考社會領域（地理科）試題卷

◎圖一是世界簡圖，圖中已標示出台灣的位置。圖二是以澳洲坎培拉為中心的等距線圖，來自坎培拉(150° E 時區)的小凡，一心想開拓視野，在耶誕節的這一天出發，選擇台灣作為第一站，搭乘上午 10:15 直飛的班機，經過 9 小時 15 分的飛行後，將會抵達台灣，開始他的冒險之旅，請根據圖一和圖二回答以下問題：



圖一



圖二

- 小凡利用飛行的時間做旅遊規劃，打算依序安排舊金山作為旅遊的第二站，接著是里約、開普敦、馬德里，最後再回到澳洲。根據小凡的旅遊規劃，從第二站起到返回澳洲，依序要經過圖一中哪些大陸？
(A) 甲乙丙丁庚 (B) 丙戊丁己庚
(C) 丁戊丙乙庚 (D) 戊丁己甲庚。
- 承上題，在小凡安排的旅遊點中，哪一站與他的家鄉—坎培拉的距離最遠？
(A) 台北 (B) 里約 (C) 開普敦 (D) 馬德里。
- 圖一中「★」處面臨的乙海洋，是被三洲大陸所圍繞的海域，圍繞此處海域的三洲大陸「不」包含下列哪一洲？
(A) 亞洲 (B) 歐洲 (C) 非洲 (D) 北美洲。
- 關於圖一、圖二地圖特性的說明，下列何者正確？
(A) 圖一地圖屬於搭配 GPS 的電子地圖
(B) 圖一地圖欠缺方向標，故無法判別方位
(C) 圖二地圖屬於涵蓋範圍大的大比例尺地圖
(D) 圖二地圖屬於內容簡略的小比例尺地圖。
- 小凡的座位是 (K, 45)，空服員應該會指引小凡在圖三中何處坐下？
(A) 甲 (B) 乙 (C) 丙 (D) 丁。
- 小凡搭乘的飛機從坎培拉飛往台灣，飛機的飛行方向應為下列何者？
(A) 東北方 (B) 正北方 (C) 西北方 (D) 東南方。
- 小凡在飛機上從右側的窗戶往下眺望，看到碧波萬頃的海洋，他看到的應該是圖一中哪一個大洋呢？ (A) 乙—太平洋 (B) 丙—大西洋
(C) 丁—印度洋 (D) 戊—太平洋。
- 小凡抵達台灣後，發現機場廣播的台灣時間和他手錶顯示的時間不一樣，廣播中台灣當地的時間應該是下列哪一個？
(A) 下午 5:30 (B) 下午 7:30 (C) 上午 9:30 (D) 上午 11:30。
- 由於澳洲和台灣都有回歸線經過，小凡認為台灣的氣候與澳洲相似。因此小凡在離開坎培拉時穿著快乾排汗的短袖衣褲，但是下飛機後發現台灣與澳洲的氣候截然不同，下列哪一項敘述是造成此現象的原因？
(A) 坎培拉緯度比台灣高，因此冬季比台北寒冷 (B) 因為地軸傾斜，南、北半球季節相反
(C) 因為地球自轉，南、北半球晝夜不等長 (D) 坎培拉距離南極大陸較近，故有風雪肆虐。
- 小凡發現一間不錯的餐廳，該店位置的 GPS 資料如圖四，關於圖四訊息的解讀，何者正確？
(A) N25° 表示緯度，每一條緯線都一樣長
(B) N25° 表示經度，經線是連接南、北兩極的地球表面半圓弧線
(C) E121° 表示此處至地心的直線與赤道的夾角為 121°
(D) E121° 表示位於倫敦格林威治天文臺的東邊。

AC	DEG	HK
		乙 45
		46
		47
		48
	丁	49
		50
丙		51
		甲 52

圖三

N25°02'23.1"
E121°33'05.3"

圖四

背面尚有題目，請細心作答！

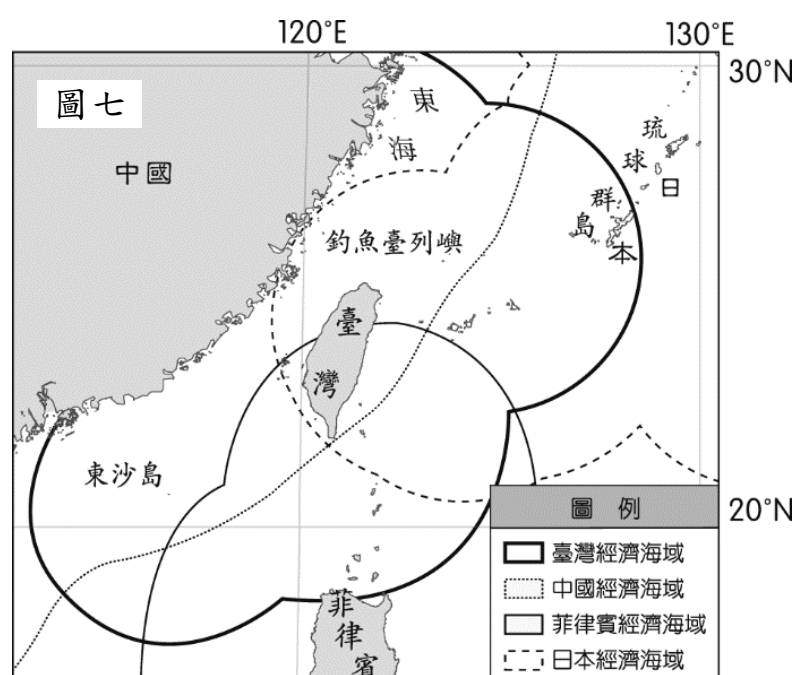
11. 承上題，小凡和好友碧瑤相約在這間餐廳用餐，下列哪一種描述該餐廳位置的方式，可以讓碧瑤如圖四資訊一般，清楚準確地找到這間店？
 (A) 捷運忠孝敦化站 3 號出口直走 260 公尺 (B) 台北市忠孝東路四段 170 巷 17 弄 12 號
 (C) 明曜百貨西南方 200 公尺 (D) 國父紀念館西方 700 公尺。
12. 東亞島弧是西太平洋上一系列火山島嶼的統稱，自北而南包括：阿留申群島、千島群島、日本群島、琉球群島、台灣、菲律賓群島、印尼群島。這些地方也多有地震發生，小凡在台灣停留期間就感受到地震的威力，當時 (10.8°N, 126.8°E) 處發生地震，美國太平洋海嘯警報中心立即發出海嘯警報，一度將臺灣列入警戒區，在 34 分鐘後才解除。根據震央位置，該地震最可能發生在哪一個群島？ (A) 千島群島 (B) 日本群島 (C) 琉球群島 (D) 菲律賓群島。
13. 小凡偶然在捷運站看到圖五—台灣山椒魚的海報，查詢資料後發現：山椒魚雖名魚，並非魚類。因身上有山椒的味道而得名，比恐龍早 1 億年出現，在地球存活了 3 億年，是現存世上少有的活化石之一。最適宜生存的溫度在 8~15°C，5°C 以下時行動會遲緩呆滯，但高於 20°C 以上時又不易生存。根據資料顯示，台灣山椒魚成為台灣的特有種生物，可能與台灣島具備的下列特色有關：
 (甲)地勢起伏落差大 (乙)島嶼形狀南北狹長 (丙)居東亞島弧交通樞紐 (丁)地處海陸交會帶。
 正確的因素是哪些？ (A) 甲乙 (B) 甲丁 (C) 乙丙 (D) 丙丁。
14. 圖六是小凡旅遊途中看到海巡署在全台建置 12 處海洋驛站，並以 12 生肖為吉祥物的宣傳海報，參考台灣海洋周邊海洋生物及地方特色取名，從福龍海洋驛站的太平洋「鼠」鯊開始，都是網路查得到的魚類。請問其中哪兩個行政區同時也以「北回歸線通過地標」作為觀光特色？ (A) ㄉ、ㄍ (B) ㄇ、ㄋ (C) ㄘ、ㄌ (D) ㄏ、ㄌ。
15. 承上題，哪一個行政區並未設置海洋驛站？ (A) 台南市 (B) 高雄市 (C) 屏東縣 (D) 台東縣。
16. 承 14 題，小凡對白海豚驛站很有興趣，特地查詢資料：在臺灣海峽西部，從苗栗後龍溪/龍鳳漁港至臺南曾文溪/將軍漁港等，離岸 3~5 公里的水域，有一個數量不到 100 的白海豚種群，此區域是白海豚洄遊覓食的棲所。根據聯合國海洋法公約的規定，這些白海豚的棲地屬於台灣哪一種領域【註：1 海哩 = 1.852 公里】？ (A) 領海 (B) 領空 (C) 公海 (D) 領海外延伸的經濟海域。
17. 圖七是台灣與鄰國的經濟海域範圍圖，小凡在 (26°N, 123°E) 附近海域看到台灣漁民捕魚時，其他國家的海巡單位對台灣人民捕魚的活動進行干擾，這些干擾台灣漁民捕魚的他國海巡單位，最可能是哪些國家派遣的？
 (A) 中國、菲律賓 (B) 日本、菲律賓
 (C) 中國、日本 (D) 中、日、菲都有。



圖五



圖六



地理科試題結束！

第二頁

解答：1~10 CDCDB CAABD

11~15 BDBBA AC