

一、單選題

18. 東周以來，周天子地位日漸低落，諸侯紛紛稱王，國與國間兼併激烈，形成互爭天下局面。請問：最後是由何人統一了天下？ (A)商王 (B)嬴政 (C)鄭經 (D)犬戎。
19. □□時期，君王曾要求各地定期「舉孝廉各一人」，做為中央政府的人才來源。這位君王應該是下列何者？ (A)劉邦 (B)秦始皇 (C)周平王 (D)漢武帝。
20. 唐朝時，來自西域的音樂、舞蹈等十分流行。請問：此現象顯示何種社會文化特色？ (A)夷夏之防嚴峻，胡、漢互不往來 (B)胡人被漢人同化，自身文化消失 (C)胡漢融合，文化兼容並蓄 (D)強調「天朝上國」思想，胡人地位卑微。
21. 秦朝在統一各國後，為加強統治各地，並讓民眾的交易往來更為便捷，而統一了下列哪些制度？ (甲)度量衡 (乙)文字 (丙)語言 (丁)車軌 (A)甲乙丙 (B)甲丙丁 (C)乙丙丁 (D)甲乙丁。
22. 商周以來活動於黃河流域的農業民族與草原民族間常有互動與衝突。秦統一後，將東周時期修築的城牆連接成為長城，作為北方的防禦線。當時主要是為了防禦何者而修築長城？ (A)匈奴 (B)大月氏 (C)身毒 (D)烏孫。
23. 西元 311 年發生永嘉之禍，匈奴攻陷首都洛陽，皇帝被俘。上述事件導致中國哪一朝代滅亡？ (A)西周 (B)東周 (C)西晉 (D)東晉。
24. 唐太宗貞觀年間，對外戰事屢屢獲勝，唐朝聲威遠播，西北各族酋長紛紛入貢以示歸順，並尊稱唐太宗為下列何者？ (A)天王 (B)霸主 (C)天可汗 (D)成吉思汗。
25. 東恆在查找資料時，看到一段文字：「雖然中國最早在《詩經》裡就有野葡萄的記載，可知古人已知道採集並食用各種野葡萄了。但直到漢武帝時期，著名的大探險家出使西域時，從大宛帶來了歐亞種葡萄與釀酒師，中國人才開始對葡萄酒有進一步的認識。葡萄酒在中國古代被叫作『蒲陶酒』，詞源即可能為古希臘語發音的轉譯。」請問：從這段文字可知，這位探險家在歷史上的貢獻，主要是在哪一方面？ (A)疆域開拓 (B)宗教藝術 (C)文化交流 (D)科技發展。
26. 中國歷史博物館近日推出「身歷其境、穿越歷史」活動。參觀者只要戴上 VR 虛擬實境眼鏡，即能體驗過去朝代的生活風情。立澄使用 VR 眼鏡五分鐘後，發現他來到了一座國際大城。城中住著許多外國人，有人吃著胡餅、跳著胡旋舞，有人穿著短衣窄袖的胡服奏著胡樂。請問：若立澄持續戴著 VR 眼鏡，他還有可能會看到下列何項景象？ (A)朝廷出兵攻打匈奴 (B)外族擔任政府官員 (C)分封外地的宗室回國 (D)工人正建造雲岡石窟。
27. 附圖為中國歷史上某種官方文件的內容，根據圖中內容判斷，當時政府製作此官方文件的主要目的最可能為下列何者？ (A)配合科舉選拔人才，促進社會的流動 (B)掌握人力作為徵集賦稅和勞役的依據 (C)推行封建制度並保障貴族世襲的權力 (D)根據儒家思想，實施以仁為政的措施。

建初十二年正月登錄戶籍

成年男子	二人
未成年男子	一人
女子	二人
合計	五人
住在趙羽塢	

騰的妹妹 華 二歲

元的弟弟 騰 七歲

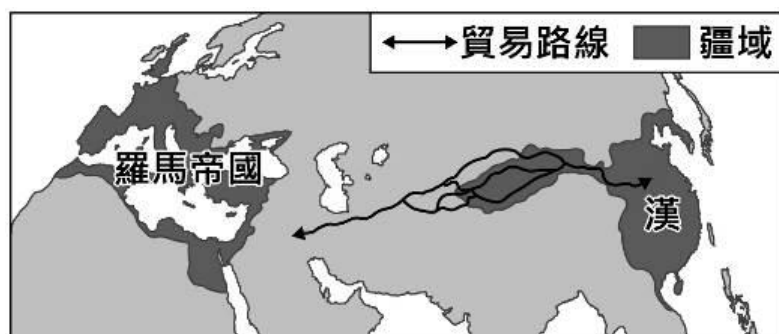
親生兒子 元 十七歲

妻子 趙 四十三歲

呂沾 五十六歲

敦煌郡敦煌縣西宕鄉高昌里

28. 附圖呈現某一時期中外交流概況，下列何者符合該時期的往來情形？（A）中國以絲綢為主要輸出品（B）伊斯蘭教隨著商人傳入中國（C）西方出口玉米、番薯等作物（D）雙方以紙幣作為交易的媒介。



29. 子璇、皓植兩人負責為公司朝聘人才，某日他們突發奇想，打算以曹魏時代的選才方式來為應徵人員評分，並製作了附表。請問：最後可能會錄取下列何人？（A）大明 （B）大成 （C）大爾 （D）大連。

	才能 分數	家世 分數	品德 分數
大明	90	20	80
大成	20	90	20
大爾	80	80	60
大連	90	70	90

30. 透過網路與傳播媒體，臺灣可以在最短的時間內接收來自各地方的資訊，並發展成臺灣自身文化的一部分。然而在千年以前的唐朝，東亞各國若要吸收來自唐朝的成就，最可能靠什麼方法？（A）使節出訪（B）民間交流（C）商人往來（D）君王互動。
31. 源自印度的佛教約在西漢末年經西域傳入中國，到了魏晉南北朝時期，佛教開始盛行。請問：魏晉南北朝時期，佛教為何會在中國盛行？（A）社會動盪，人心尋求宗教的慰藉（B）大量佛教僧人來中國傳教（C）朝廷以佛教思想治國（D）當時流行西域文化，佛教自然也是流行文化的一部分。
32. 怛羅斯之役為當時國際上著名的兩個國家，阿拉伯與唐朝的衝突。在許多中國人眼中，此場戰爭是重大的失敗，不過從史料可以看出，阿拉伯與唐朝的衝突不只一次，有贏有輸。此戰役結束後，中國仍然控制西域，阿拉伯與中國仍然維持貿易與交流關係，不過此戰役對阿拉伯與未來西方世界有著重要的影響。請問：上述的影響應為何者？（A）火藥西傳（B）佛教西傳（C）印刷術西傳（D）造紙術西傳。

二、題組：

請閱讀下列資料後回答問題。

資料一

○○建立起來的禮樂規範，重視禮樂儀式、車輛、服飾、器物等不同規格，本身就是強調君臣和臣民之間的等級秩序。

資料二



各諸侯之間各自為政，他們已經不再認可天子的存在，因此每個地方的政權都是獨立的，不再受中央權威的影響。

33. 資料一中的○○指的是哪個政權？（A）商朝（B）西周（C）東周（D）秦代。
34. 資料一到資料二可說明下列何事？（A）國家型態逐漸形成（B）各地文化完成統一（C）透過封建穩固統治（D）封建秩序漸趨瓦解。

歷史科 第二頁，共兩頁

歷史科試題結束

新北市立板橋國中 112 學年度第 1 學期第 1 次段考八年級社會領域（歷史科）答案卷
年 班 座號 姓名

16. 	17. 	18. B	19. D	20. C
21. D	22. A	23. C	24. C	25. C
26. B	27. B	28. A	29. B	30. A
31. A	32. D	33. B	34. D	35. 