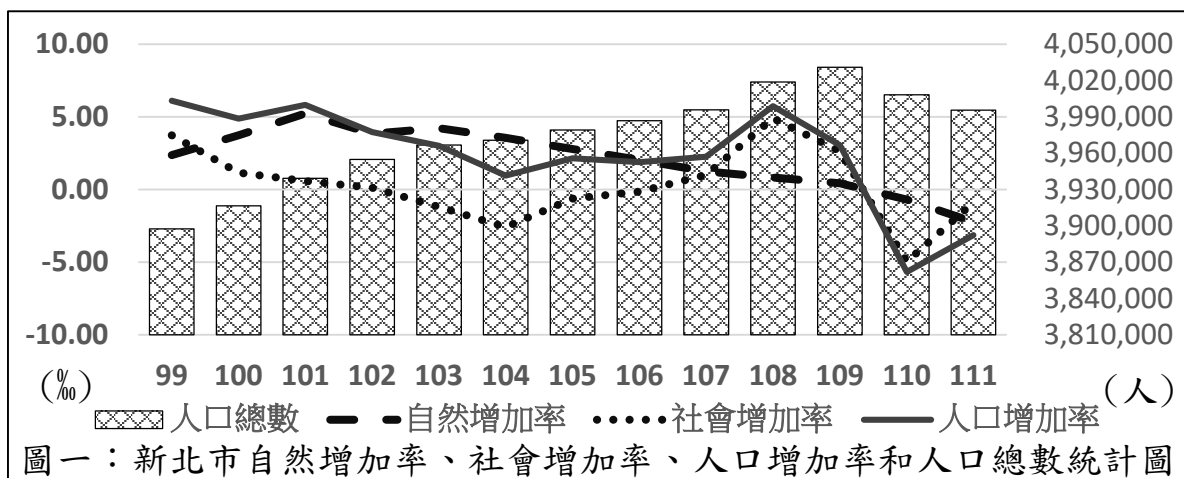


◎七年級的心禾和絃宇決定利用寒假深度探討新北市的人口概況，於是搜尋網站、踏查訪問後，整理出以下圖表，請根據圖表回答問題：



- 圖一是新北市自然增加率、社會增加率、人口增加率和人口總數統計圖，華人社會素有「虎寶寶傳統習俗禁忌多」、「搶生龍寶寶」的想法，根據此想法推測，新北市在哪一年有最多的「龍子龍女」誕生？ (A) 99 年 (B) 101 年 (C) 108 年 (D) 111 年。
- 根據圖一，新北市哪一年的出生人數和死亡人數最接近？ (A) 102 年 (B) 108 年 (C) 109 年 (D) 110 年。
- 心禾發現在閱讀《新北市人口移徙分析》資料時發現：「桃園市為升格為直轄市，推出許多獎勵補助、社福津貼，對鄰近縣市居民遷徙造成影響」，這段描述最可能用圖一中哪一段資料印證？ (A) 99~101 年的自然增加率變化 (B) 100~104 年的社會增加率變化 (C) 99~108 年的人口總數變化 (D) 108~110 年的人口增加率變化。
- 承上題，「桃園市為升格為直轄市，推出許多獎勵補助、社福津貼，對鄰近縣市居民遷徙造成影響」，從這段敘述可以看出桃園市對鄰近縣市的人口遷徙產生下列哪一種影響？ (A) 拉力 (B) 推力 (C) 負載力 (D) 離心力。
- 絃宇整理出新北市各區的人口總數和人口密度表，如表一。發現新北市各區人口分布差異頗大，探究造成人口密度高的原因可能有：(甲)地形平坦、(乙)氣候溫暖、(丙)水源充足、(丁)交通便捷、(戊)產業發展條件佳、(己)開發歷史較早、(庚)教育購物等生活機能強。哪些原因能合理解釋新北市各區的人口密度差異？ (A) 甲乙丁戊己 (B) 甲丙己庚 (C) 甲丁戊庚 (D) 甲乙丙丁戊己庚。
- 根據表一資訊，絃宇計算後發現，「板橋、三重、中和、永和」四個行政區中，面積最小的是哪一個行政區？ (A) 板橋區 (B) 三重區 (C) 中和區 (D) 永和區。
- 根據表一，絃宇以「每點代表 1000 人」繪製新北市各區人口分布點圖，超過 100 點的行政區共有幾個？ (A) 0 (B) 1 (C) 13 (D) 14 個。
- 心禾和絃宇選定烏來區進行實地踏查，看到當地老街有名的「月球馬告山豬肉香腸」，有馬告（山胡椒—胡椒與香茅的綜合）、達那（山檸檬—香芹與刺蔥的調和）等特殊口味。由此可看出哪一種族群的飲食文化對當地有深遠的影響？ (A) 漢族 (B) 穆斯林 (C) 新住民 (D) 原住民族。
- 絃宇翻閱區公所資料後，整理出烏來區新住民的國籍統計表，如表二。但食物的油漬不小心汙損了部分資料，表二中汙損部分的國籍，最有可能是下列哪一個國家？ (A) 中華民國 (B) 新加坡 (C) 印度 (D) 中國。

表一：新北市 113 年 1 月底各區人口總數、人口密度

區域別	人口總數	人口密度	區域別	人口總數	人口密度
板橋區	554,201	23950	三重區	382,957	23466
中和區	407,169	20217	永和區	214,736	37607
新莊區	423,653	21462	新店區	305,113	2538
土城區	240,900	8150	蘆洲區	199,939	26874
汐止區	209,578	2942	樹林區	180,521	5449
鶯歌區	89,064	4217	三峽區	115,571	604
淡水區	194,986	2759	瑞芳區	37,136	525
五股區	92,869	2664	泰山區	77,547	4047
林口區	133,306	2462	八里區	42,004	1064
深坑區	23,699	1152	石碇區	7,139	49
坪林區	6,437	38	三芝區	22,113	335
石門區	10,730	209	金山區	20,326	413
萬里區	20,843	329	平溪區	4,132	58
雙溪區	7,895	54	貢寮區	10,957	110
烏來區	6,348	20	新北市	4,041,869	1969

表二

■籍	51
越南籍	18
印尼籍	2
泰國籍	2
緬甸籍	1
其他籍	23
總計	97

10. 絃宇看到小吃店自製的特色美食，如圖二。此美食是是老闆娘家鄉的傳統料理，以特製的春捲皮包裹煮好的河粉、小黃瓜等食材。請問：老闆娘的家鄉最有可能是下列哪一個國家？

(A) 越南 (B) 印尼 (C) 泰國 (D) 緬甸。



圖二

表三：人口遷移類型		
時間 空間	暫時性 遷移	永久性 遷移
國內遷移	甲	乙
國際遷移	丙	丁

11. 承上題，老闆娘的遷移型態是屬於表三中哪一種類型的人口移動？

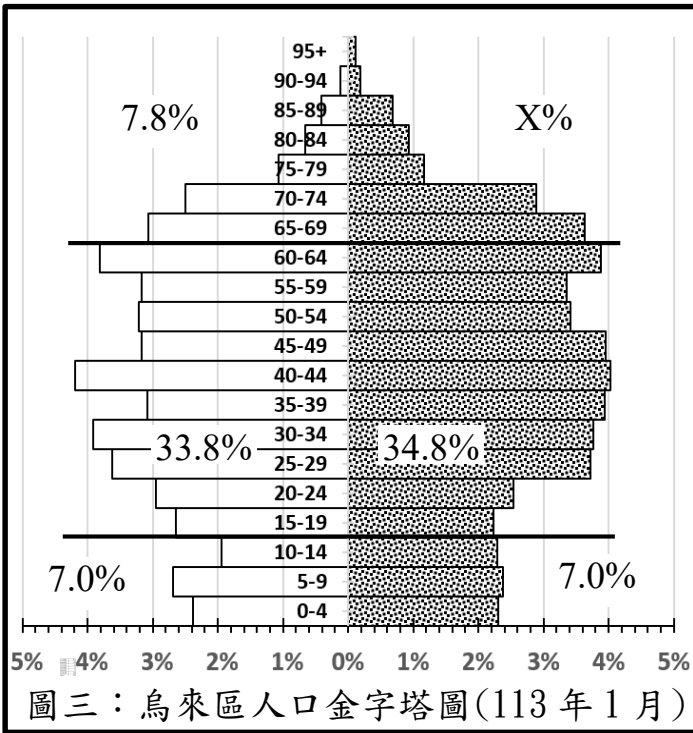
(A) 甲 (B) 乙 (C) 丙 (D) 丁。

12. 承上題，心禾發現，2021 年 1 月 28 日，烏來區公所公布：「凡具原住民身分，並設籍本市且繼續居住四個月以上之市民，可以申請急難救助，項目包含死亡救助、醫療補助、重大災害救助、婦女救助及老人及兒童、少年救助等」。心禾推測區公所的目的是希望原住民族回歸原鄉居住，達成表三中哪一種人口遷移的效果？

(A) 甲 (B) 乙 (C) 丙 (D) 丁。

13. 圖三是心禾和絃宇繪製的烏來區人口金字塔圖，兩人發現烏來區跟自己同齡級距的性別比情況，屬於下列哪一種狀況？

(A) <100 (B) =100
(C) >100 (D) 無法判斷。



圖三：烏來區人口金字塔圖(113 年 1 月)

14. 承上題，老化指數是衡量一個地區老化程度之指標，計算方式是以該地區 65 歲以上老年人口對 0~14 歲幼年人口的百分比，若老化指數大於 100%，表示該地區老年人口多於幼年人口。絃宇根據圖三判斷，烏來區的老化指數屬於下列哪一種狀況？

(A) <100 (B) =100 (C) >100 (D) 無法判斷。

15. 承 13 題，根據內政部戶政司的統計數據，新北市的扶養比是 40%，心禾計算後發現，烏來區的壯年人口經濟負擔與新北市相比，屬於下列哪一種狀況？

(A) 比新北市沉重 (B) 與新北市一致
(C) 比新北市輕鬆 (D) 數據不足，無法比較。

16. 絃宇查詢烏來區公所社福專區網站，發現非新北市市民也享有圖四中的福利補助項目。圖四中哪些福利補助對減輕烏來區壯年人口的扶養比負擔，會有比較實質的幫助？


(A) 甲乙丙 (B) 甲丁己 (C) 乙丙戊己 (D) 甲乙丙丁戊己。

(甲)家犬貓絕育補助
(乙)產前遺傳診斷
(丙)獨居老人關懷服務
(丁)新北市身心障礙者小型復康巴士服務
(戊)孕婦乙型鏈球菌篩檢
(己)新住民未納保產前檢查

圖四

17. 兩人來到福山部落，參觀有名的方舟教堂，圖五是教堂的外觀與結構圖。30 多年前興建舊福山教會時，直接開挖山坡成一缺角。2013 年「福山部落：方舟計畫」重建教堂。弧形屋頂除了撫平山形，同時也暗喻泰雅族傳統信仰中，帶領靈魂回到祖靈之所的彩虹橋，而支撐這弧形屋頂的結構則是五支將瞻仰象徵化為實體並且支撐屋頂的十字架，保護著底下的人；同時呈現基督走入民眾之間的救世精神。除了主要支撐的十字架外，次要穩定構造的系统為連接各支點間的鋼棒，相連時於天空畫出數個菱形，組成泰雅族的祖靈之眼圖騰，保護著泰雅子民。從以上敘述可以推測，福山部落的信仰屬於下列哪一種？

(A) 原住民傳統信仰與伊斯蘭教信仰 (B) 原住民傳統信仰與基督教信仰
(C) 原住民傳統信仰與土地公廟信仰 (D) 原住民傳統信仰與伯公廟信仰。



圖五

地理科試題結束！ 地理科第二頁，共兩頁

解答：1~10 BCBAC DCDDA 11~15 DBACA CB