

新北市立板橋國中 112 學年度第 2 學期第 1 次段考 9 年級社會領域(地理科)試題卷

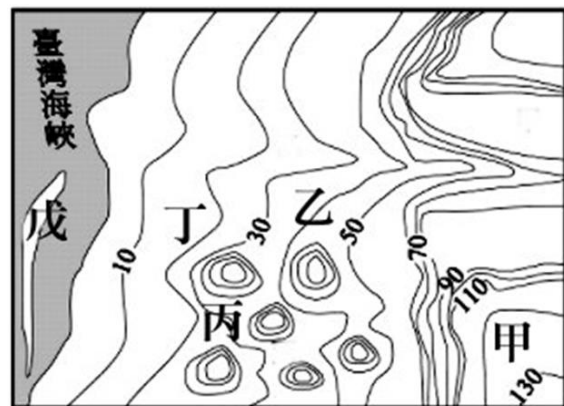
1. 同一地名在不同時期所涵蓋的空間範圍也可能不一樣，以「臺灣」為例，在不同時期可能就具有不同的空間意義。(甲)荷蘭東印度公司佔領「臺灣」，並以其作為對中國及對日本的貿易中心(乙)明鄭王朝對「臺灣」的經營，在貿易、屯墾及教育方面，都深深影響後續的發展(丙)施琅主張保留臺灣，以防備他國勢力的進犯，最後清康熙決定將「臺灣」納入版圖(丁)「臺灣」出生率再創新低！公布最新數據：2023 年新生兒不到 14 萬人。請問：上述「臺灣」的文字中，何者所涵蓋空間範圍最大？(A)甲 (B)乙 (C)丙 (D)丁。
2. 【圖一】為臺灣東北角的海陸分布示意圖。此區海岸地形處處可見，岬角、灣澳、沙灘...等。在聚落發展之初，人們常選擇躲避風浪或地勢較低的地形居住，請問：【圖一】中哪些地名很可能為聚落發生地點？(甲)鼻頭角；(乙)龍洞岬；(丙)澳底；(丁)卯澳；(戊)三貂角。(A) 甲乙 (B) 乙丙 (C) 丙丁 (D) 丁戊。
3. 【圖一】黑框處為福隆海水浴場所在地。福隆位於雙溪下游(昔稱三貂溪)之河口港灣，此處以前亦稱澳底，後來為了地名吉祥、村民興隆，乃更改為『福隆』。
請問：下列地名的命名方式與福隆相似？(A) 竹崎 (B) 長治 (C) 苓雅 (D) 東石。



【圖一】

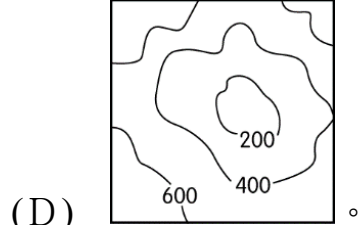
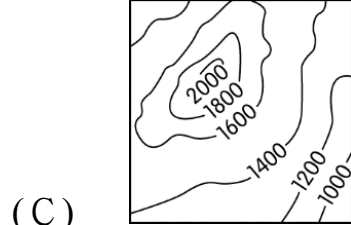
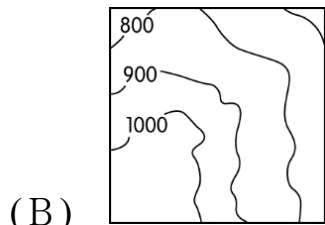
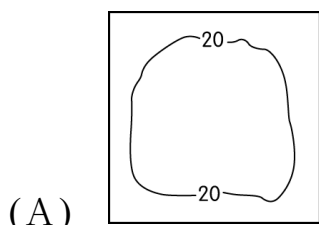


【圖二】



【圖三】

4. 雲林縣境內許多地名中都有「崙」這個字，崙通常是形成於濱海或河岸的沙丘，可作為阻擋冬天的強風，容易發展成為聚落。【圖二】崙背鄉由來，古有一大沙崙，該沙崙南面稱為崙前，北面稱為崙背，意謂沙崙之背面，故稱為崙背。早期崙背鄉的居民為了抵擋風沙，大多居住於「崙前」，後期因崙前人口增加，才往崙背移動。請問：從沙塵來源的方向判斷，此處地形的形成最可能是受到哪個盛行風向影響？(A) ↙ (B) ↗ (C) ↖ (D) ↘。
5. 承上題，崙背鄉的居民藉由自然環境抵抗強風，【圖三】何處可能是崙背鄉居民「早期」的聚落所在地？(A) 甲 (B) 乙 (C) 丙 (D) 丁。
6. 承第 4 題，此地形的沙塵來源為哪一條河流？(A) 曾文溪 (B) 濁水溪 (C) 高屏溪 (D) 大甲溪
7. 在臺灣，草莓是冬天最令人期待的水果之一，每當草莓季來臨，一顆顆外觀呈心形、垂掛在低矮綠葉間，宛如嫣紅寶石的果實，總散發馥郁香氣與酸甜誘人滋味，不論單吃或做成甜點，都讓大人小孩無法抗拒。全臺近 8 成的草莓都種在苗栗大湖(種植面積約 600 公頃)，因此有「草莓王國」、「草莓的故鄉」美稱。關於大湖地名的由來，清咸豐 7 年(西元 1857 年)銅鑼鄉農墾戶吳氏父子倆，赴法雲寺西南觀音山山區狩獵，站在高崗遠眺四面山嶺環繞，山谷間平疇綠野，雲霧飄渺，茅草、蘆葦隨風搖曳恰似一湖波浪滔滔，甚為壯麗。吳氏父子稱此地為窩湖，後稱「大湖」。
請問：根據以上的敘述「大湖」的等高線型態最接近下列何者？

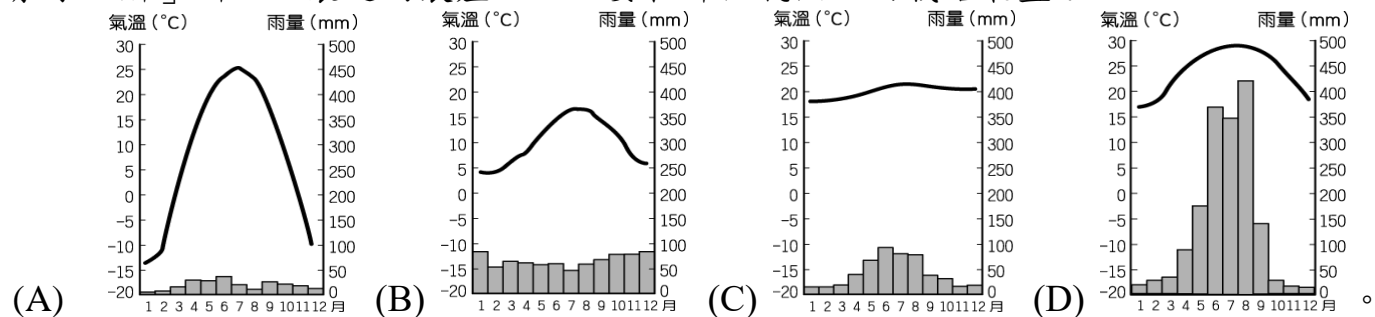


8. 承上題，聚落地名具有族群意義，常見於特定族群的分布區。以「窩」作為名稱的地名，多分布於客家人比例較高的地區。請問：以下地名並非客家族群經常使用的地名？(A) 屋 (B) 壠 (C) 厝 (D) 嶼。
9. 臺灣歷經數百年的開發歷史，透過地名可以看到不同時期留下的痕跡。住在台北信義區的小瑜，與同事相約新北板橋車站，一起搭乘高鐵至高雄左營，準備吃遍南臺灣各大小吃，第一站選擇到屏東潮州，迫不及待要來一碗燒冷冰！請問：上述畫底線的地名中，在歷史上出現的先後順序應是：
(A) 左營—潮州—板橋—信義 (B) 潮州—信義—左營—板橋
(C) 左營—板橋—信義—潮州 (D) 板橋—信義—潮州—左營

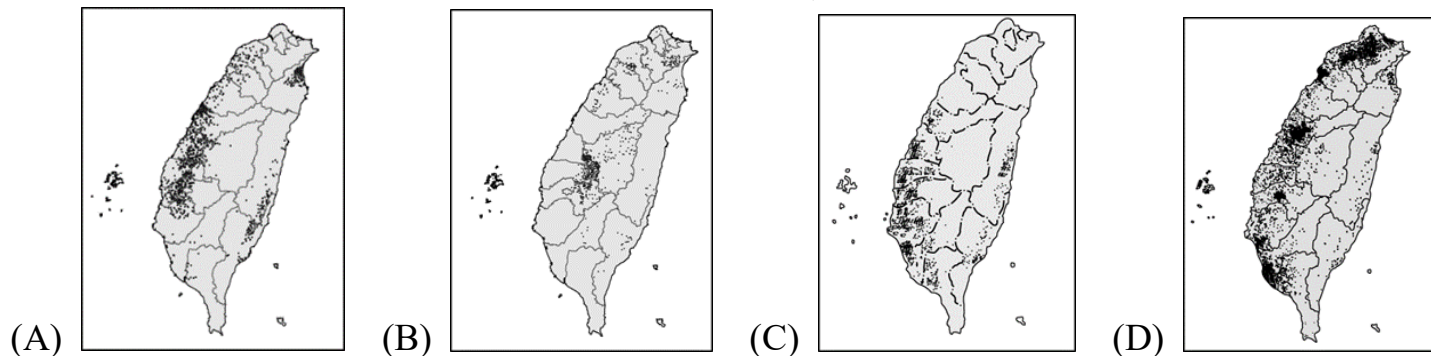
【第一頁，共六頁。】

10.「廊」是清代某種農產品加工製造的工坊，臺灣有許多地方因設有這種工坊而以「廊」為地名，如廊仔、保長廊、柏腳廊等。下列是四個地區的氣候圖。

請問：「廊」所加工製造的農產品，主要在哪个氣候區內栽培最盛？



11.承上題，哪一張點圖最有可能是該作物種植的分布圖？



12.社會在走，地名要懂。地名是大家對一個特定地方的專屬名詞，經常被當作居民對其生活環境的認知，也是一種文化景觀。小港原名港仔墘，位於高雄潟湖南岸之鳳山港畔而名。民國九年鳳山港淤塞，成為不通舟楫的迷你港灣，故改稱小港。請問：關於「港墘」的聚落，最可能遭遇到何種天然災害？

(A) 地震 (B) 淹水 (C) 火山噴發 (D) 海嘯。

13.山仔腳是臺灣常見的地名，在新北市樹林區也有一個地方叫做山仔腳，在龜崙山下而得名。1903 年日治時代因煤礦運輸的需要在此設置「山仔腳驛」，1920 年改名為「山子腳驛」，到了 1962 年國民政府時代再改名為「山佳站」。請問：山仔腳地名由來，運用了那些聚落命名的素材？ (甲)地形 (乙)動植物 (丙)語言 (丁)原鄉 (A) 甲丙 (B) 乙丙 (C) 甲丁 (D) 乙丁

14.自己的家鄉・自己懂-臺灣許多地名都曾發生過改變，例如：嘉義的民雄過去是「打貓」、花蓮的吉安過去是「吉野」、台北松山過去是「錫口」。請問：下列哪一說法較為正確？(甲) 這是由於臺灣曾受到不同政權統治的影響 (乙) 主要是為了方便使用或文字雅化 (丙) 以上地名皆在中華民國時期改名 (丁) 可以透過地名看出地方發展的變化。(A) 甲乙 (B) 乙丙 (C) 丙丁 (D) 甲丁。

15. 平埔族多分布於平原地區，漢人來臺後多以原住民社名來當作地名。例如：打狗地名的由來，源於原先居住在此的平埔族馬卡道族語 (Takau)，意思為「竹林」，而漢人依台語音譯為「打狗」。

請問：根據【圖四】哪一個縣市名稱與原住民族的族名或社名有關？ (A)甲 (B)丙 (C)丁 (D)己。

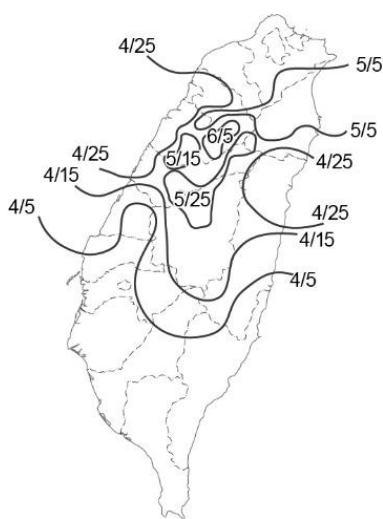
16. 根據【圖四】下列哪些縣市名稱源於自然環境，以該縣市所在的地表景觀作為命名依據？

(A)甲、戊 (B)丙、己 (C)庚、辛 (D)壬、癸。

17. 日本氣象廳會於櫻花季前預測各地開花的時間，臺灣近年因賞桐花風氣盛行，也開始出現預測桐花開花的報導。【圖五】為臺灣各縣市桐花開花之等值線圖，若在正常狀況下(即不受氣候異常等因素影響)，請問：下列哪一縣市的桐花開花時間應該最早？ (A) 竹塹 (B) 貓裏 (C) 半線 (D) 噶瑪蘭。



【圖四】



【圖五】

【第二頁，共六頁。】

新北市立板橋國中 112 學年度第 2 學期第 1 次段考 9 年級社會領域(地理科)試題答案

1	2	3	4	5	6	7	8	9	10
D	C	B	A	C	B	D	C	A	D
11	12	13	14	15	16	17			
C	B	A	D	A	B	C			

1-5 DCBAC

6-10 BDCAD

11-15 CBADA

16-17 BC