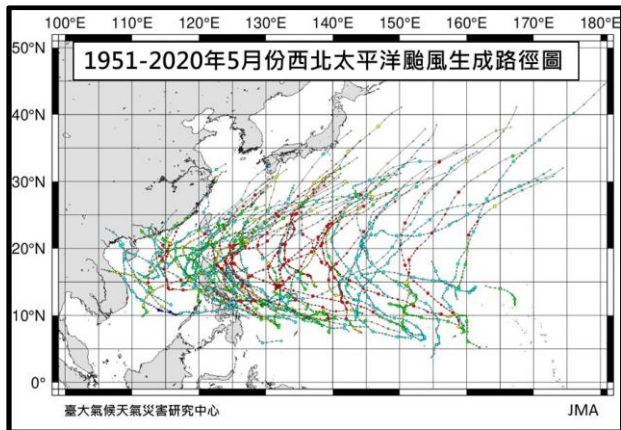


# 新北市立板橋國中112學年度第二學期第1次段考八年級社會領域(地理科)試題卷

- 「肉骨茶(英語:Bak kut teh)是一道用肉湯烹製的中國排骨菜餚。這道菜起源於□□,在馬來西亞和新加坡的華人僑民中更受歡迎。『肉骨』如其名,是以帶肉的骨配合中藥煲成的湯。而『茶』字則是源自當地一位華人餐廳店主的名字李文地,因為賣該種肉骨湯且味道上乘,而被顧客稱作『肉骨地』,□□話中的『地』與『茶』音近,故後來被稱為『肉骨茶』,食材本身並沒有茶葉。」由此上述推知,□□應指中國哪一個行政區?(A)福建 (B)四川 (C)香港 (D)新疆。
- 承上題,馬來西亞在飲食上受中國華人影響,宗教上則具阿拉伯文化色彩,以何種信仰為主?(A)佛教 (B)印度教 (C)天主教 (D)伊斯蘭教。
- 圖一西北太平洋颱風生成路徑圖,依圖中顯示,何者為1951-2020年間受颱風侵襲最頻繁的國家?(A)印度 (B)越南 (C)新加坡 (D)菲律賓。
- 承上題,該國與台灣有何相似之處?(A)屬於溫帶季風氣候 (B)曾為亞洲四小龍之一 (C)位於板塊接觸帶上 (D)以英語為官方語言。



【圖一】

OREO奧利奧餅乾碎塊 201179360520

成分: 麵粉、砂糖、植物油(棕櫚油、抗氧化劑(第三丁基氫醌))、可可粉、高果糖糖漿、膨脹劑(碳酸氫鈉、碳酸氫鉀)、食鹽、大豆卵磷脂、玉米澱粉、香料。

致敏物質資訊: 含有小麥和大豆。  
此生產線也生產含有牛奶成分的產品。

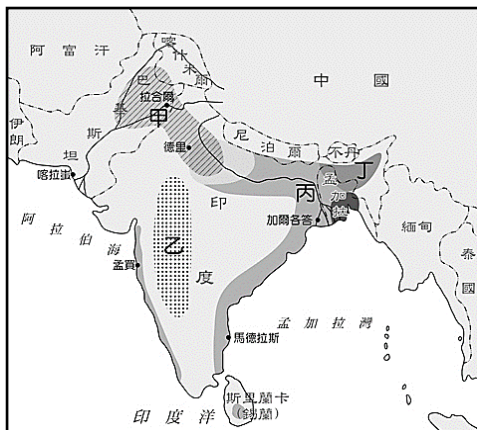
淨重: 1公斤  
保存期限: 12個月  
有效日期(日/月/西元年):  
請見包裝上標示

原產地(國): 印尼  
台灣進口商:  
台灣億滋股份有限公司  
地址:  
台北市內湖區洲子街107號6樓  
消費者免費服務專線:  
0800-001-155

營養標示		
	每份	每100公克
每份量 20公克 本包裝含: 50份		
熱量	89 大卡	446 大卡
蛋白質	1.4 公克	6.8 公克
脂肪	2.7 公克	13.6 公克
飽和脂肪	1.2 公克	6.1 公克
反式脂肪	0 公克	0 公克
碳水化合物	14.8 公克	74.0 公克
糖	5.5 公克	27.4 公克
鈉	152 毫克	762 毫克

【圖二】

- 圖二為知名零食品牌的成分表,該產品在印尼製造,可以直接在當地取得哪一項作物做為原料,而不需進口?(A)小麥 (B)大豆 (C)油棕 (D)玉米。
- 東南亞國家受殖民影響,因農礦產品出口的需求,造就了許多國家首都具有「港埠型都市」特色,其中不包括何者?(A)印尼:雅加達 (B)柬埔寨:金邊 (C)菲律賓:馬尼拉 (D)新加坡:新加坡。
- 新聞快報:「南亞進入2023年熱季,連續多天氣溫飆升至45°C以上,位於印度河上游的農業區因水量減少和氣溫過高,導致大片農作物乾枯。」根據上述,該農業區種植的作物應為圖三中何者?(A)甲:小麥 (B)乙:黃麻 (C)丙:棉花 (D)丁:水稻。
- 承上題,該則新聞報導的日期最有可能為哪一天?(A)2月12日 (B)5月15日 (C)7月17日 (D)9月19日。
- 印度因具備多項優勢,成為世界重要的海外客服中心,如圖四所示,其優勢未包含下列何者?(A)工資低廉 (B)海運便利 (C)普遍使用英語 (D)與歐美時差互補。



【圖三】



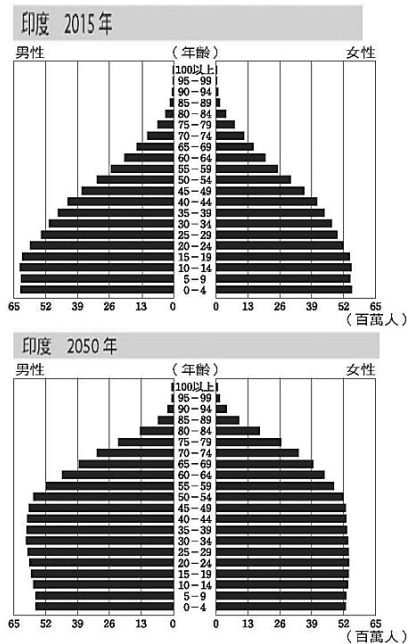
【圖四】

◎請參考圖五回答第 10-12 題：

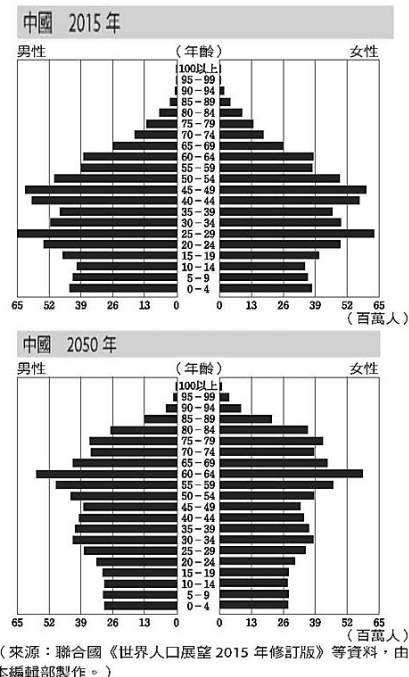
10. 瀾滄江發源於中國哪一個地理區內？(A)德干高原 (B)青藏高原 (C)橫斷山脈 (D)喜馬拉雅山。  
 11. 湄公河流域涵蓋幾個東南亞國家？(A)2 個 (B)3 個 (C)4 個 (D)5 個。  
 12. 中國在瀾滄江興建水壩，對東南亞各國造成的影響不包括何者？(A)破壞原始林地 (B)水力發電量增加 (C)魚群洄游路徑受阻 (D)湄公河三角洲面積萎縮。



【圖五】



【圖六】



(來源：聯合國《世界人口展望 2015 年修訂版》等資料，由日本編輯部製作。)

◎請參考圖六回答第 13-14 題：

13. 觀察印度和中國在 2015 年的人口組成，有何相同之處？(A)老年人口數一樣多 (B)45-49 歲人口數一樣多 (C)幼年人口性別比皆大於 100 (D)25-29 歲人口性別比皆小於 100。  
 14. 依人口金字塔的變化趨勢分析，2050 年印度將面臨的人口問題不包括下列何者？(A)少子化 (B)高齡化 (C)撫養比下降 (D)人口總數銳減。

◎請閱讀短文並回答第 15-17 題：

### 為什麼想「南向就業」的人愈來愈多？

2023/06/07

根據 IMF (國際貨幣基金組織) 數據，2022 年中國的名目人均 GDP 約為 12,810 美元，而馬來西亞是 12,360 美元、泰國 7,650 美元、印尼 4,800 美元、越南 4,090 美元、菲律賓 3,620 美元，發展中的總體經濟讓東南亞相較中國有勞力成本的優勢。

6 億多的東協總人口提供充沛的人力資源，再加上有多個多邊貿易協定的密集覆蓋，如中國領導的「區域全面經濟夥伴協定」、美國領導的「印太經濟架構」、日本領導的「跨太平洋夥伴全面進步協定」等，讓東協有潛力成為中國之後下一個生產基地。

以國際政治來說，東南亞的重要性更是不言而喻，位處(甲)與(乙)的交界，是來往東亞、印度與紐澳的十字路口，自古以來就受到各方強權的高度關注，印度文明、伊斯蘭文明、儒家思想與西方近代貿易及科學浪潮先後來到。而在世界朝向兩強地緣政治緊張局勢的當下，南海及東協更是兵家必爭之地。

節錄自網址：<https://crossing.cw.com.tw/article/17740>

15. 依地理位置判斷，文中(甲)(乙)應為下列哪兩個海域？(A)南海、大西洋 (B)日本海、太平洋 (C)太平洋、印度洋 (D)印度洋、大西洋。  
 16. 文中提及的「區域全面經濟夥伴協定」是下列何者？(A)RCEP (B)IPEF (C)ASEAN (D)CPTPP。  
 17. 承上題，哪一個地區的國家目前並未參與此協定的合作？(A)南亞 (B)東南亞 (C)東北亞 (D)大洋洲。

第二頁/共六頁

【地理科試題結束】

解答

01-05 ADDCC

06-10 BABBC

11-15 DBCDC

16-17 AA