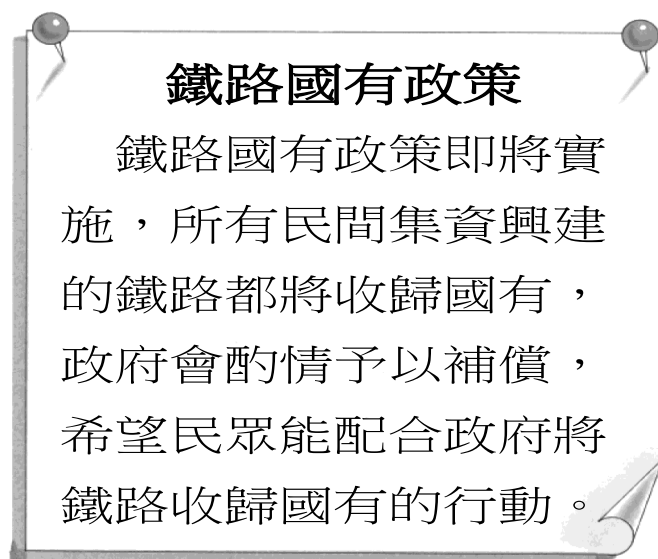


單選題

18. 附圖是滿清政府張貼在布告欄的告示。請問：此告示顯示什麼樣的意義？（A）清廷在推動鐵路改建運動（B）民間無力興建鐵路（C）政府侵害人民的利益（D）政府表明與民間共同築鐵路的企圖。





19. 西元 1911 年 10 月 10 日武昌起義後，長江以南各省在立憲派與革命派的合作下，相繼宣告獨立。請問：下列何處並非在武昌起義後宣告獨立的地區？（A）福建（B）湖北（C）北京（D）四川。
20. 梁啟超曾經發表文章如下：「自國體問題發生以來，所謂討論者，皆袁氏自討自論；所謂贊成者，皆袁氏自贊自成；所謂請願者，皆袁氏自請自願；所謂表決者，皆袁氏自表自決……。」請問：梁啟超此文討論的應該是何事？（A）迫使清帝退位（B）接受二十一條要求（C）暗殺宋教仁（D）洪憲帝制。
21. 民國 2 年，國民黨在國會選舉中獲勝，但不久後，國民黨黨務執掌者即遭暗殺，主要原因為何？（A）孫中山堅持臨時政府設於南京（B）宋教仁極力主張政黨政治（C）張勳擁立溥儀復辟（D）黎元洪與段祺瑞的政爭。
22. 辛亥革命後，民國初建，實行民主共和制度，但卻遭到哪兩次政治體制變更的挫敗？（A）洪憲帝制，復辟事件（B）二十一條要求，南北分裂（C）二十一條要求，護法運動（D）二次革命，護法運動。
23. 西元 1917 年俄國發生革命，成立世界上第一個共產政權，稱作「蘇維埃社會主義共和國聯邦」，簡稱「蘇聯」。蘇聯於西元 1921 年在中國成立「中國共產黨」，為尋求在中國發展，與當時想壯大國民黨組織和軍權的孫中山合作。孫中山更聘請俄國人鮑羅庭為顧問進行協助，是為「聯俄容共」。請問：依據上文敘述判斷，下列何者正確？（A）此次合作使國民黨與共產黨彼此更緊密和諧（B）合作基礎在於共產黨員須以個人名義加入國民黨（C）共產黨員加入國民黨後，漸受孫中山「三民主義」的價值所影響（D）國共合作使得北伐順利統一。
24. 由於中國共產黨採取既聯合又鬥爭的策略，利用群眾運動奪權，因此蔣中正不得不反共清黨。請問：這正值國民黨哪一個時期？（A）北伐時期（B）二次革命（C）護法運動（D）辛亥革命。
25. 西元 1917 年以來，中國同時出現兩個政府組織，一個是北方的「北京政府」，另一個則是南方的「廣州政府」，為了爭奪北京政府的領導權，南北方各派系軍閥彼此征戰不休，造成地方動盪加劇。上述民初中國形成南北分裂情形的原因為何？（A）袁世凱暗殺了宋教仁（B）袁世凱策動帝制復辟（C）段祺瑞毀棄臨時約法（D）黎元洪擁護溥儀復辟
26. 西元 1928 年 12 月 29 日的報紙上刊登：「原來懸掛的北洋政府的五色旗更換為國民政府的青天白日旗，此舉標誌著……北洋政府時期的正式結束。」請問：此舉是指哪一歷史事件？（A）辛亥革命成功，建立共和國（B）袁世凱取消帝制，恢復共和體制（C）蔣中正於廣州誓師北伐（D）東北歸順南京國民政府。
27. 胡適提出「八不主義」：言之有物、不摹倣古人、講求文法、不作無病之呻吟、不用爛調套語、不用典、不講對仗、不避俗字俗語。請問：胡適的「八不主義」較符合新文化運動的哪一訴求？（A）推行白話文運動（B）打倒孔家店（C）引進「德先生」與「賽先生」（D）推崇共產主義。

28. 西元 1917 年，他接任北京大學校長後，奉行「對於各家學說，依各國大學通例，循思想自由原則，兼容並包」，在他的主導下，校園中的教員身分有舊時代的進士，新時代的博士，到任何資格都沒有的人，不論政治立場、學派或年紀等，只要有學問都一視同仁，使北大洋溢多元學術的色彩。這位使北京大學校風為之一變的人物為何？ (A)胡適 (B)魯迅 (C)陳獨秀 (D)蔡元培
29. 「這個運動的發生，不僅是因為巴黎和會後人們由於失望而產生具大的情感落差，還因為這次的『外交失敗』引發對以往北京政府親日政策的不滿，於是各種衝突都接著愛國運動而併發出來。」請問：這段引文所提及的「這個運動」應是以下何者？ (A)新文化運動 (B)野百合學運 (C)保路運動 (D)五四運動。
30. 西元 1926 年，出版家伍聯德在上海創辦了《良友》雜誌。在一系列有效行銷推動下，《良友》迅速成為風靡全球華人世界的雜誌，一九三〇～四〇年代，幾乎全世界有華人的地方就有《良友》畫報。《良友》總共 174 期的畫報封面，其中有 161 張封面，以當時的女電影明星、名媛、女學生、歌舞表演者的照片，作為畫報的封面人物。請問：在畫報的發行下，對當時的女性有何種影響？ (A)將拋頭露面、打扮精緻視為是一種恥辱 (B)認為「女子無才便是德」的觀念，深居閨閣 (C)追求男女平權、自主意識 (D)重視家庭，以「相夫教子」為重。
31. 一份文件中的部分內容如下：「中國允許日本繼承德國在山東的一切利益；山東省內及其沿海土地島嶼不得讓與或租與他國，煙臺或龍口至膠州鐵路，由日本建造……。」由文件的內容判斷，此份文件應該是指下列何者？ (A)馬關條約 (B)南京條約 (C)臨時約法 (D)「二十一條」要求
32. 曉彤整理有關二次革命的相關重點。請問：下列敘述何者正確？ (A)由宋教仁領導發起 (B)革命對象為袁世凱 (C)結果為袁世凱退位 (D)國會制定《臨時約法》。
33. 清末以來，隨著報刊雜誌的刊印流行，帶動了知識的傳播，成為改革的一股重要助力。有一份民國初年發行的雜誌，以鼓吹民主、科學觀念，提倡新文學為其主要內容，曾刊載魯迅的短篇白話小說。由上述可知此份雜誌應是何者？ (A)新青年 (B)萬國公報 (C)新民叢報 (D)臺灣民報。
34. 附表為某一時期官方所頒行機關學校放假日期的部分內容，根據內容判斷，此一日程最可能由下列何者所頒行？ (A)1895 年的清廷 (B)1929 年的南京國民政府 (C)1945 年的臺灣總督府 (D)1979 年的中華人民共和國。

放假日期	放假事由及天數
1/1	中華民國開國紀念，放假一天
1/2-1/3	新年，放假二天
3/12	孫中山逝世紀念，放假一天
3/29	黃花崗七十二烈士殉國紀念，放假一天
10/10	中華民國國慶紀念，放假一天
11/12	孫中山誕辰紀念，放假一天

## 歷史科試題結束

新北市立板橋國中 112 學年度第 2 學期第 1 次段考八年級社會領域（歷史科）答案卷  
年 班 座號 姓名

16. 	17. 	18. C	19. C	20. D
21. B	22. A	23. B	24. A	25. C
26. D	27. A	28. D	29. D	30. C
31. D	32. B	33. A	34. B	35. 