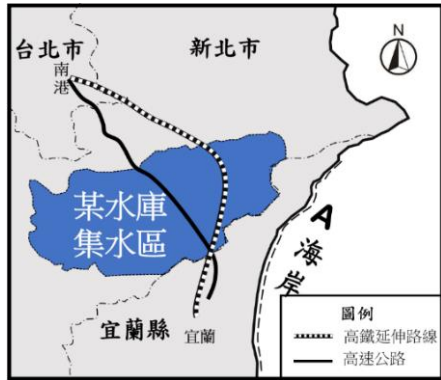



新北市立板橋國中 112 學年度第 2 學期第 2 次段考 9 年級社會領域(地理科)試題卷

1. 新聞報導：「台北—宜蘭路廊需求量大，蔣渭水高速公路的(甲)隧道塞車問題常為民眾詬病。高鐵延伸宜蘭不僅可解決宜蘭交通壅塞問題，對花東民眾也有幫助。目前面臨工程技術的挑戰及環境影響評估等議題，昔日北宜直鐵因為通過(乙)水庫水源保護區而引發爭議。高鐵延伸宜蘭，經費初估超過 1,700 億元，最快可於 2025 年動工。」請問：根據報導及【圖一】內容，下列敘述何者錯誤？

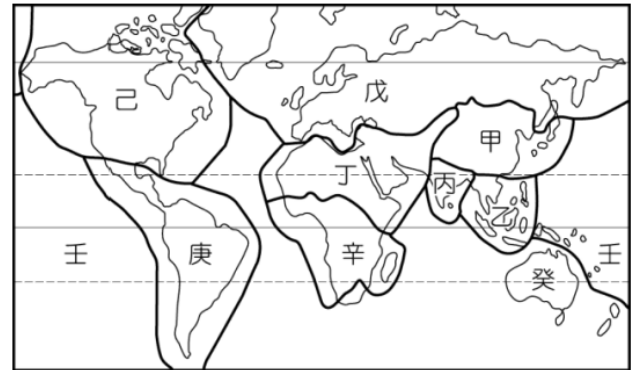
(A) 【圖一】的 A 海岸為沙岸 (B) (甲)應填入雪山 (C) (乙)應填入翡翠 (D) 文中的高速公路的標誌為 5。



【圖一】

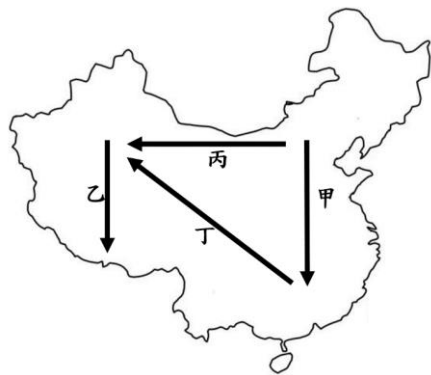


【圖二】



【圖三】

2. 某日老師走在台北街頭看見一座具有異國風情的建築物【圖二】，有圓頂、拱廊以及尖塔等造型美輪美奐，於是情不自禁的拿起手機紀錄這美麗的建築。請問：該建築出現在【圖三】的哪個區域的比例最高？
 (A) 甲 (B) 己 (C) 丁 (D) 癸。
3. 中國面積廣大，區域特色差異明顯，若從【圖四】『丁』的前進方向，可以觀察到下列何種自然現象的變化？
 (A) 年降水量遞增 (B) 年溫差越大 (C) 地勢由高至低 (D) 太陽較早升起。
4. 中國某網紅日記：一上火車首先映入眼簾的是黃澄澄的麥田，在旅途中火車緩緩爬升，途中居民和我揮揮手，我觀察到他們利用地形鑿洞而居，若從建築學及環保角度來看，也算是一種綠建築吧！接近終點站，我已等不及按下快門捕捉這壯麗的棉花田及美麗的農村風光。請問：由文中判斷，此網紅搭乘的火車可能是【圖四】中哪一條路線？
 (A) 甲 (B) 乙 (C) 丙 (D) 丁。



【圖四】



【圖五】

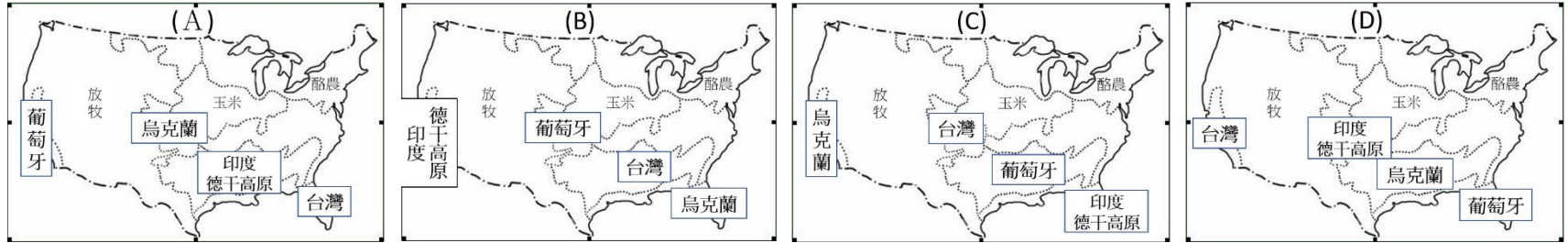


【圖六】

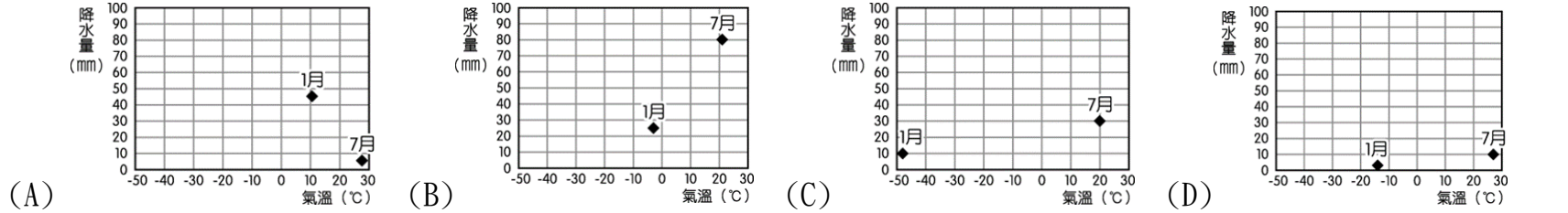
5. 【圖五】為某種天然災害容易發生的地區。請問：下列何種作法有助於改善此天然災害的發生？
 (A) 選擇碳足跡低的飲食 (B) 築水庫、堤防 (C) 減少過度墾殖及放牧 (D) 減少使用塑膠性產品
6. 【圖六】為某國的郵票，該國國土形狀就如「一根扁擔挑起兩擔米」，曾是世界上重要的稻米盛產區，卻因反共產主義的戰爭，成為生活困苦的地區。早年深受東亞大國的影響，傳統文化與文字相似，但在殖民過程中被殖民母國給消弭，而今留存的為新的語文、宗教。請問：該國成為此農作物的盛產區，主要原因為何？
 (A) 殖民國家的發展 (B) 多沿海港口城市 (C) 受鄰國文化影響 (D) 三角洲面積廣大。
7. 疫情解封前，「跳島觀光」成為台灣人抒解生活壓力的旅遊行程，使得各大離島擠滿了觀光人潮。請問：在下列跳島觀光行程中，何地的島嶼成因與其他三者「最不相同」？
 (A) 『澎湖群島』的柱狀玄武岩 (B) 『綠島』的海底溫泉 (C) 『蘭嶼』的火山口遺跡 (D) 『金門』的戰車遺蹟。
8. 隨著疫情鬆綁，旅遊已成為台灣民眾現今抒解生活壓力的一種方式。請問：以下四種行程所搭配的交通工具，哪項「目前最可行」？
 (A) 在基隆港搭國際郵輪，不搭飛機也能出國 (B) 搭乘高鐵，從臺北到屏東走透透
 (C) 行駛國道五號，沿途都是花東縱谷的稻浪美景 (D) 跟著捷運趴趴走，吃遍台南古都美食。
9. 難兄難弟「生不如死」：韓國出生率再創新低，2035 年台灣接棒成為全球墊底國家！台韓兩國「少子化」問題嚴峻，近年來國內死亡率都高於生育率的現況下，讓兩國不少媒體都以聳動的標題「生不如死」來形容社會現況。請問：倘若台韓兩國仍無法改善此人口減少的困境，將可能加劇下列何種現象的衝擊？
 (A) 扶養比下降 (B) 幼年人口比例增加 (C) 壯年人口比例增加 (D) 高齡人口比例增加。

【第一頁，共六頁。】

10. 里約熱內盧，巴西第二大城，該城市人口高達 650 萬，是 2016 年夏季奧運舉辦地，美麗沙灘和熱情奔放的森巴舞慶典吸引了世界各地的旅客。一個貧富差距極大的城市，在海灘與群山之間富人區及山上貧民窟比鄰而居，更是中南美洲最大的貧民窟；規模龐大違建的貧民窟成了中南美洲都市的特殊景觀，隨著都市發展而不斷擴張。請問：造成上述特殊的都市現象的主因為何？
- (A) 都市發展歷史悠久，老舊的市中心形成貧民窟 (B) 鄉村過度貧困，缺乏就業機會，推力大
- (C) 都市空間有限，缺乏完善的住宅用地歸劃 (D) 工商業發展快速，住宅用地轉作其他用途。
11. 美國農作型態以機械化、商業化耕作，因此各區的農田只種植單一作物，或從事同一種的農業，形成專業化的農作帶。請問：關於各國主要作物及其適合的生長環境，下列何者配對正確？



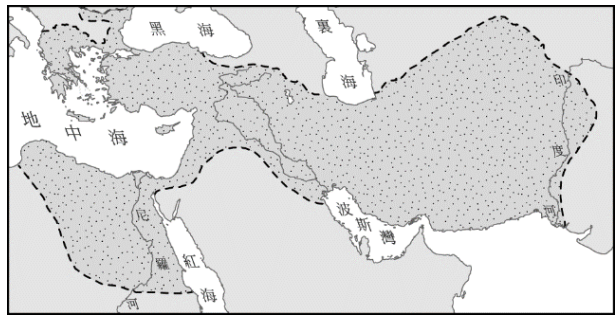
12. 《羅馬假期》(英語：Roman Holiday) 是 1953 年由派拉蒙公司拍攝的浪漫愛情片。故事敘述英國公主例行性的進行各國親善訪問時，被繁文縟節的皇宮生活壓得喘不過氣，公主一心渴望可以過過有趣的平凡日子，於是悄悄地偷溜出去羅馬大街上，她意外邂逅了來自美國的新聞記者，兩人從陌生到熟悉漸漸擦出愛的火花…。其電影拍攝地點設定在真實的義大利羅馬城。請問：拍攝地點的氣候環境與下列哪一張圖所呈現的最相符？



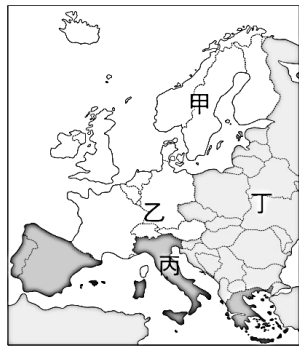
13. 微軟去年宣布以氣候來命名駭客組織，認為透過新的命名方式，能讓該公司用戶迅速掌握駭客組織所屬國家。例如：中國的駭客組織以颱風 (Typhoon) 為名，伊朗駭客組織稱為沙塵暴 (Sandstorm)，北韓駭客為雨雪 (Sleet)，土耳其駭客叫灰塵 (Dust)，越南駭客是氣旋 (Cyclone)。
- 請問：根據此邏輯，俄羅斯的駭客【圖七】最可能命名為何？(A) 颱風 (B) 洪水 (C) 雪暴 (D) 海嘯。



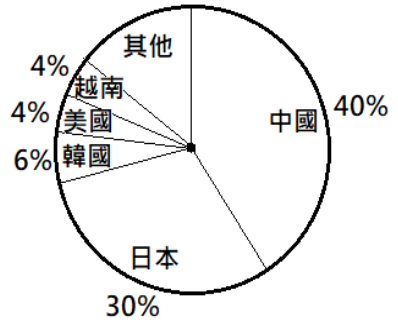
【圖七】



【圖八】



【圖九】



【圖十】

14. 【圖八】是亞歷山大建立橫跨歐、亞、非三洲的帝國版圖。著名的馬其頓國王亞歷山大，年僅 30 歲時便建立了橫跨歐、亞、非三洲的大帝國，戰無不勝的他被視為是歷史上最偉大的英雄之一，而撲克牌中大家所熟悉的梅花 K 就是他。請問：當亞歷山大從希臘一路往東征戰的過程中，沿路可能會有什麼變化？
- (A) 年均溫越來越高 (B) 降雨量逐漸變少 (C) 地勢越來越低 (D) 植被種類變多。
15. 【圖九】為歐洲區域的畫分簡圖，請問：關於圖【圖九】中各區域的特色說明，下列何者配對正確？
- (A) 甲區域：社會福利制度完善，林木、鋼鐵、造船、通訊業發達
- (B) 乙區域：歷史上曾為共產國家，限制各國經濟發展方向
- (C) 丙區域：社會政治制度改變，傳統重工業轉為市場經濟，工資低廉為最大優勢
- (D) 丁區域：最早工業化的地區，都市化程度高。
16. 圖(十)是某年臺灣國人出國目的地之統計圖，前三名國家具有哪些共同特徵？
- (A) 皆火山地震頻繁 (B) 以筷子為主要餐具 (C) 國土全位於溫帶地區 (D) 地勢皆西高東低。
17. 2023 年，20 國集團 (G20) 的主席國由印度接棒，3 月 1 日在新德里舉辦首長高峰會議。這是印度首次擔任 G20 輪值主席國，象徵印度在經濟上的崛起。就數據上來看，2022 年印度已取代英國成為全球第五大經濟體，到 2025 年可能與德國並列第四。請問：到印度參加高峰會的各國代表們，可能會遇到什麼樣的天氣狀況？
- (A) 一波波的寒流來襲 (B) 從乾燥炎熱逐漸進入雨季 (C) 從乾燥涼爽逐漸乾熱無風 (D) 逢雨季連續降雨不停。

新北市立板橋國中 112 學年度第 2 學期第 2 次段考 9 年級社會領域(地理科)試題答案

| | | | | | | | | | |
|----------|----------|----------|----------|----------|----------|----------|----------|----------|----------|
| 1 | 2 | 3 | 4 | 5 | 6 | 7 | 8 | 9 | 10 |
| D | C | B | C | C | D | D | A | D | B |
| 11 | 12 | 13 | 14 | 15 | 16 | 17 | | | |
| A | A | C | B | A | B | C | | | |

1-5 DCBCC

6-10 DDADB

11-15 AACBA

16-17 BC