

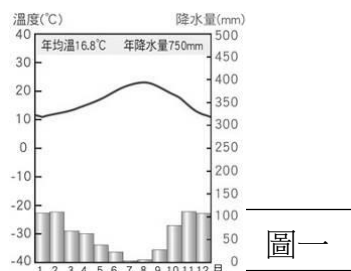
# 新北市立板橋國中 112 學年度第 2 次段考八年級社會領域（地理科）試題卷

1. 阿卡德帝國是美索不達米亞平原地區的第一個古代帝國，其建立了中央政府與官僚系統，統治範圍廣達現今伊拉克、敘利亞，以及一部分的伊朗及土耳其中部等地；然而這持續了兩百多年的帝國，卻在西元前二十二世紀滅亡。根據科學家研究，此帝國的滅亡可能跟當地某種天氣災害息息相關。西亞地區常有強烈的西北風，當地稱之為「夏馬風」，當強勁的「夏馬風」颳起時，加上當地乾燥的環境，很容易引發此種天氣災害發生，導致農地無法種植作物，進而引發饑荒、大規模的社會動盪等；加上外敵的侵略，造成帝國頹微消亡。請問：上述中所提及的某種天氣災害，最可能是下列何者？

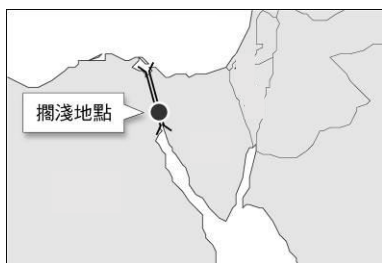
(A) 沙塵暴 (B) 龍捲風 (C) 暴風雪 (D) 颱風。

2. 圖一為西亞某地區的氣候圖。請問：該地區最可能位於何處？

(A) 波斯灣沿岸 (B) 紅海沿岸 (C) 地中海沿岸 (D) 阿拉伯海沿岸。



圖一



圖二



圖三

3. 長榮海運超大型貨櫃輪「長賜輪」於西元 2021 年 3 月 23 日受強風的影響，在圖二中的運河擱淺打橫，造成運河癱瘓將近數週，許多貨輪動彈不得。請問：該運河的癱瘓會增加哪條海運路線的運費？

(A) 歐洲運往以色列 (B) 伊拉克運往東非 (C) 伊朗運往印尼 (D) 沙烏地阿拉伯運往歐洲。

4. 圖三是清真認證符號，信仰伊斯蘭教的信徒，可依照清真認證購買符合教義的產品。伊斯蘭教對食物有明確的規定，合乎教法規定的食物，被稱為合法(HALAL)食品。請問：下列何種食物最不可能獲得清真認證符號？

(A) 牛肉麵 (B) 椰棗 (C) 豬血糕 (D) 鳳梨酥。

5. 圖四「◆」是全球某種礦產資源的主要分布區之一及輸往國家或地區的分布情形，依據圖中資訊判斷，其所指的最可能是下列何種礦產資源？

(A) 煤礦 (B) 石油 (C) 金礦 (D) 鐵礦。

6. 亞里斯多德說：「埃及是尼羅河的贈禮。」埃及人民把尼羅河稱為埃及的母親，可見尼羅河對於埃及的重要性。關於尼羅河對埃及影響的敘述，下列何者正確？

(A) 侵蝕力強上游平坦 (B) 定期氾濫帶來沃土  
(C) 河道寬廣阻止洪患 (D) 堆積多海岸線退後。

7. 「土耳其國會通過伊利蘇水壩興建案之後，便積極展開前置作業，包括在上游古城哈桑凱伊夫的沿岸山壁進行爆破，而哈桑凱伊夫位在(甲)底格里斯河水壩預定地上游 80 公里的沿岸。當地除了擁有史前洞穴遺跡之外，也曾是(乙)美索布達米亞平原上的重要聚落，隨處可見矗立好幾百年的古墓、尖塔、(丙)清真寺等古蹟。此外，外界也擔心土耳其在上游興建水壩，可能會讓下游的(丁)以色列帶來浩劫。」上文敘述中哪一代號畫線處是錯誤的資訊？ (A) 甲 (B) 乙 (C) 丙 (D) 丁。

**題組：**圖五為坎井示意圖。坎井是在乾燥地區的特殊引水及灌溉系統，由豎井、明渠和澇壩（蓄水池）等部分所組成。遠方山區雨水或融雪水滲入地下，由山麓修築渠道將水引導入地下；每隔一段距離挖一座豎井，到了聚落附近變成明渠，並用澇壩蓄水使用。


8. 此種水源利用方式主要是想達到什麼目的？

(A) 減少水分蒸發 (B) 利於水源增加 (C) 方便取水 (D) 保護生態。

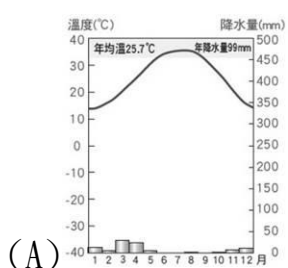
9. 這種水源利用方式，會出現在下列何處？

(A) 阿拉伯高原 (B) 約旦河沿岸 (C) 伊朗高原 (D) 尼羅河三角洲。

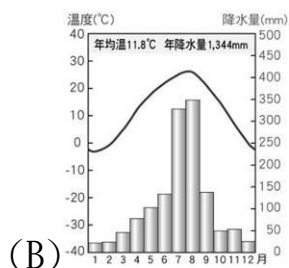
10. 承上題，請問此地的氣候圖最可能為下列何者？



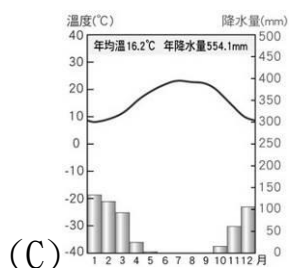
圖五



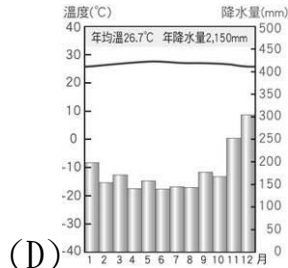
(A)



(B)

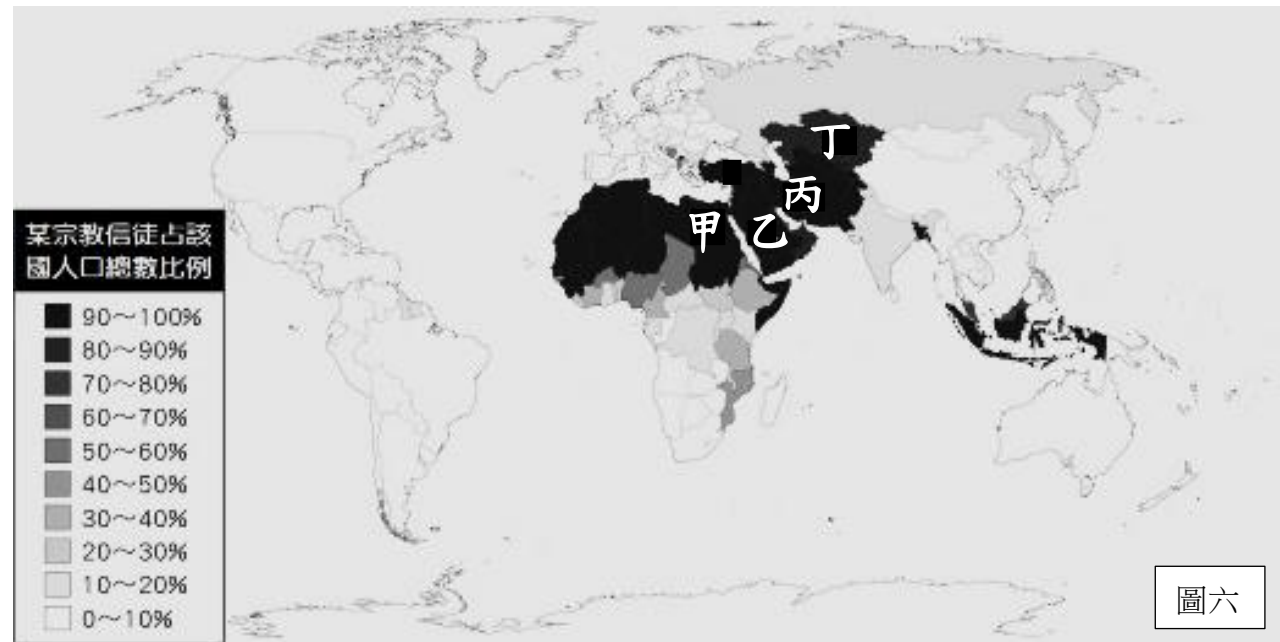


(C)



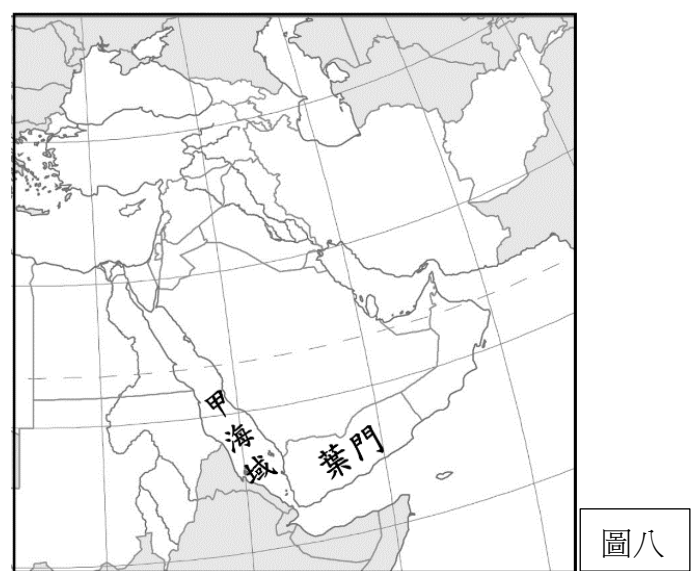
(D)

題組：宗教信仰對於民眾心靈的安定有一定的撫慰性，圖六是世界某宗教的信徒分布情形，請依據圖中的資訊回答下列問題。



11. 圖六中所呈現的應為何種宗教信徒的分布情形？(A)佛教 (B)印度教 (C)基督教 (D)伊斯蘭教。
12. 該宗教的信徒須每日定時向聖地的方向朝拜。其所朝拜的城市位於圖六中哪一個國家位置？  
(A)甲 (B)乙 (C)丙 (D)丁。
13. 對於該宗教信仰的規定，日常都必須遵守準則的敘述何者有誤？  
(A)每日都必須誦讀清真言 (B)一生至少到耶路撒冷朝聖一次  
(C)為了照顧弱勢，男性可一夫多妻 (D)商人必須繳交部分獲利救濟貧困者。

題組：二次大戰後，以色列和巴勒斯坦之間數十年來衝突不斷，因為以色列的監控和限制，加薩走廊的經濟維生來源，多仰賴內需和一些「地道」經濟。農業耕作是加薩地區居民重要的維生來源，但因為缺乏水源，加上以色列監管限制了可以耕作的土地，農業無法大量發展，漁業也被迫限制在離岸3哩處。於是當地在地面下發展出的「地道經濟」——居民利用連接鄰國的通道，交易民生必需品，甚至是武器。圖七為巴勒斯坦地區的局勢圖，請問：



14. 以色列和巴勒斯坦之間的紛爭不斷，主要是哪兩個民族之間的衝突？  
(A)猶太人、庫德族人 (B)波斯人、庫德族人 (C)阿拉伯人、庫德族人 (D)猶太人、阿拉伯人。
15. 以、巴之間多次爆發激烈衝突，存在著許多矛盾，下列何者最可能是產生的衝突原因？  
(A)石油資源的爭奪 (B)聖地麥加的歸屬權 (C)約旦河水的資源爭奪 (D)蘇伊士運河的控制權。
16. 根據文中敘述與地圖位置判斷，加薩走廊的地道經濟發展，主要是巴勒斯坦人利用哪一個國家的物資從事交易？ (A)土耳其 (B)伊拉克 (C)伊朗 (D)埃及。
17. 2023 年，與巴勒斯坦有著相同種族與信仰的葉門，其境內反政府武裝組織以聲援巴勒斯坦為由，於同年 10 月底開始攻擊途經葉門西側甲海域的船隻，根據圖八中的葉門的地理位置判斷，該國反政府武裝組織應是攻擊途經下列哪一個海域的船隻？(A)紅海 (B)黑海 (C)波斯灣 (D)地中海。

新北市立板橋國中 112 學年度第 2 次段考八年級社會領域（地理科）答案卷

1.A	2.C	3.D	4.C	5.B	6.B	7.D	8.A	9.C	10.A
11.D	12.B	13.B	14.D	15.C	16.D	17.A			