







新北市立板橋國中 112 學年度第 2 學期第 3 次段考七年級社會領域（地理科）試題卷

◎郁翔、柏融、吳翔和雙徽四位同學，組隊研究台灣百況，請跟著他們一起認識台灣：

1. 表一是郁翔整理的新北市人口資料，根據行政院對都市的定義：「一個具有 2 萬人以上之聚居地，其人口密度達每平方公里 300 人以上者」。根據行政院定義，郁翔發現新北市 29 個行政區中，屬於鄉村的共有幾個？  
(A) 6 (B) 7 (C) 8 (D) 9 個。
2. 「1697 年新莊就有漢人開墾，1860 年淡水開港，成為北台灣第一大港，主要輸出茶葉、樟腦、硫磺等商品，當時台北一哥是滬尾，二哥稱為『新庄』（日人改為新莊），後來因為淤積嚴重，商務功能被基隆港口取代。隨著淡水河道淤積、變成艋舺、大稻埕興起，新莊沒落。縱貫鐵路修築後，鐵路改道枋橋（板橋），造就板橋的榮光」。根據此段資料，柏融發現新莊和板橋的崛起，分別與何種運輸方式相關？  
(A) 河運、河運 (B) 河運、海運 (C) 河運、鐵路 (D) 海運、鐵路。
3. 吳翔覺得住在板橋真的很方便。因為板橋轉運站與新北捷運環狀線共構，匯集國光、和欣、統聯、首都、大有、葛瑪蘭等 6 家共 16 條中長程客運路線，可與捷運板南線、環狀線及高鐵、台鐵轉乘。今年「2024 台灣燈會」重返台南，吳翔想以最省時的方式從板橋抵達台南，在板橋轉運站選擇哪一種交通方式最能如願？  
(A) 捷運 (B) 客運 (C) 台鐵 (D) 高鐵。
4. 雙徽發現在 16 世紀時，安平港是臺灣對外最重要的窗口，2016 年台南市政府與臺灣港務公司合作，安平港已陸續建置自由貿易港區、海運快遞專區、農特產品發展中心，未來將結合航線開闢、貨櫃場建置，逐步完成港埠發展布局。下列哪一項敘述最可能是安平港運輸的優勢？  
(A) 深入各地，機動性高 (B) 速度快，具有高時效性  
(C) 運量大且運費低廉 (D) 專用軌道可疏解都市交通。
5. 一般而言，規模愈大的聚落有較完善的商業活動。郁翔整理出全台灣百貨公司營業額最高的新光三越百貨的據點，如表二。郁翔根據表二對「台北、桃園、台中、嘉義、台南、高雄」六個都市的規模進行比較，下列敘述何者錯誤？  
(A) 台北是六個都市中規模最大的 (B) 桃園和台中都市規模相當  
(C) 台中的都市規模大於嘉義 (D) 台南與高雄都市規模相當。
6. 柏融調查新北市、台北市和桃園市的區、里、鄰數量後整理成表，如表三。但柏融不小心汙損了部分資料，根據表三推測，汙損部分的數值最可能在下列哪一組數據之間？  
(A) 29~1032 (B) 516~1032 (C) 9575~11929 (D) >11929。
7. 吳翔用圖一來說明都市發展現象。圖中哪一個符號是用來表示人口朝「都市化」過程移動的符號？  
(A)  (B)  (C)  (D) 。
8. 吳翔發現某種交通建設的興建會加速圖中「」的人口移動，此交通工具是下列哪一種？  
(A) 捷運 (B) 客運 (C) 台鐵 (D) 高鐵。
9. 吳翔調查後發現下列哪一項因素是圖一中「」移動產生的原因？  
(A) 房價過高，薪資無法負擔 (B) 醫療資源不足，水準參差不齊  
(C) 水汙染嚴重，水質不佳 (D) 教育資源不足，文化刺激低落。

表一：新北市 113 年 1 月底各區人口總數、人口密度

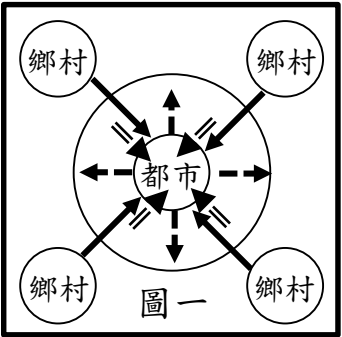
區域別	人口總數	人口密度	區域別	人口總數	人口密度
板橋區	554,201	23950	三重區	382,957	23466
中和區	407,169	20217	永和區	214,736	37607
新莊區	423,653	21462	新店區	305,113	2538
土城區	240,900	8150	蘆洲區	199,939	26874
汐止區	209,578	2942	樹林區	180,521	5449
鶯歌區	89,064	4217	三峽區	115,571	604
淡水區	194,986	2759	瑞芳區	37,136	525
五股區	92,869	2664	泰山區	77,547	4047
林口區	133,306	2462	八里區	42,004	1064
深坑區	23,699	1152	石碇區	7,139	49
坪林區	6,437	38	三芝區	22,113	335
石門區	10,730	209	金山區	20,326	413
萬里區	20,843	329	平溪區	4,132	58
雙溪區	7,895	54	貢寮區	10,957	110
烏來區	6,348	20	新北市	4,041,869	1969

表二：新光三越全台據點分布

台北信義新天地	A4、A8、A9、A11
DIAMOND TOWERS	1館、2館
台北站前店	
台北南西店	1館、3館
台北天母店	A館、B館
桃園站前店	
台中中港店	
嘉義垂楊店	
台南中山店	
台南新天地	本館、小西門
高雄三多店	
高雄左營店	本館、彩虹市集

表三：區、里、鄰數統計

	新北市	台北市	桃園市
區	29	12	13
里	1032	456	516
鄰	■	9575	11929



10. 圖二是台灣區域畫分簡圖，而「一府二鹿三艋舺」是描述臺灣在清領時期的開墾史。雙徽對照諺語後在圖二找出諺語聚落所在區域的配對，下列哪一組才是正確答案？

(A) 甲乙丙 (B) 丙乙甲  
(C) 丙丙甲 (D) 丙丁甲。

11. 圖三是台灣國家公園示意圖。若以國家公園所在地所屬行政區為依據（只要國家公園部分區域在範圍內都可計算），郁翔發現圖二中丙區域的國家公園數量最多，總共有多少座？

(A) 3 (B) 5 (C) 7 (D) 9 座。

12. 圖四是柏融蒐集公立公共圖書館數量後製作的統計圖，根據圖四，柏融對台灣文化教育資源提出一些看法，下列哪一項敘述最為合理？

(A) 金馬離島區域的圖書館數量最少，顯示離島不重視文化教育  
(B) 六都的圖書館數量遠多於其他行政區，可見教育資源豐富  
(C) 嘉義市的圖書館數量最少，可見嘉義市民平均學歷較低  
(D) 家戶平均所得愈高的行政區，圖書館的數量就愈多。

13. 圖五是國土空間規劃架構示意圖，雙徽將圖五中各區域的發展定位進行配對，下列哪一選項的配對是正確的？

(A) 甲區域—強調海岸及海洋之自然珍貴資產  
(B) 乙區域—強調都市與創新產業發展  
(C) 丙區域—強調人文及自然環境保全與觀光發展  
(D) 戊區域—以適性發展優質生活產業。

14. 郁翔發現中央山脈保育軸以設立國家公園的方式，優先保護國家珍稀資源，郁翔對照圖三後發現，在中央山脈生態廊道上總共設有多少座國家公園？

(A) 3 (B) 5 (C) 7 (D) 9 座。

15. 「駁二藝術特區的前身為高雄港倉庫，建於1973年，過去儲放魚粉與砂糖，隨著產業轉型，一度遭遺忘閒置；直到2000年高雄市政府因尋找國慶煙火施放地點的機緣下，才讓這些舊倉庫起死回生、開創新生命，見證高雄港的繁華、沒落、再起與轉型。」柏融從這段敘述發現高雄駁二特區的轉型，完全符合圖五中哪一個區域的發展定位？ (A) 甲區域 (B) 乙區域 (C) 丙區域 (D) 丁區域。

16. 聯合國永續發展目標 (SDGs) 涵蓋環境、經濟與社會等 17 項目標，行政院在參考聯合國永續發展目標後，研訂台灣的永續發展目標。雙徽仔細研讀行政院的版本後發現，乙區域的發展定位與下列哪一項目標最為相符？

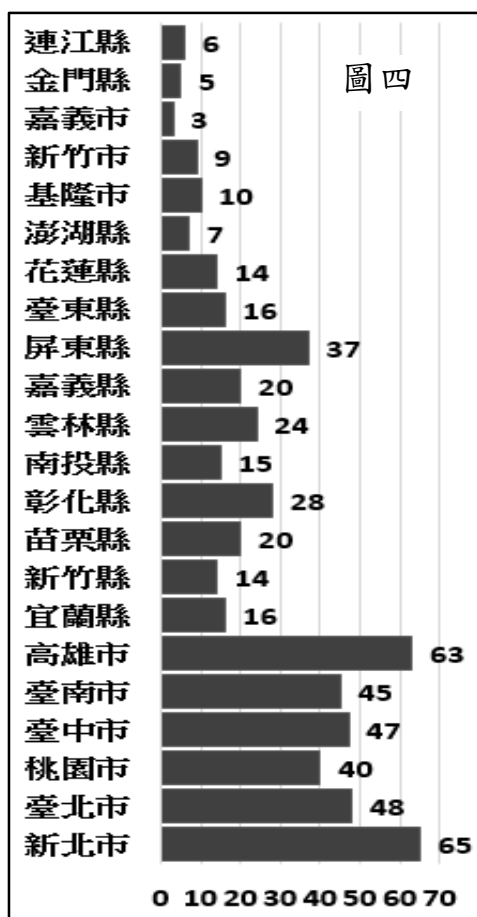
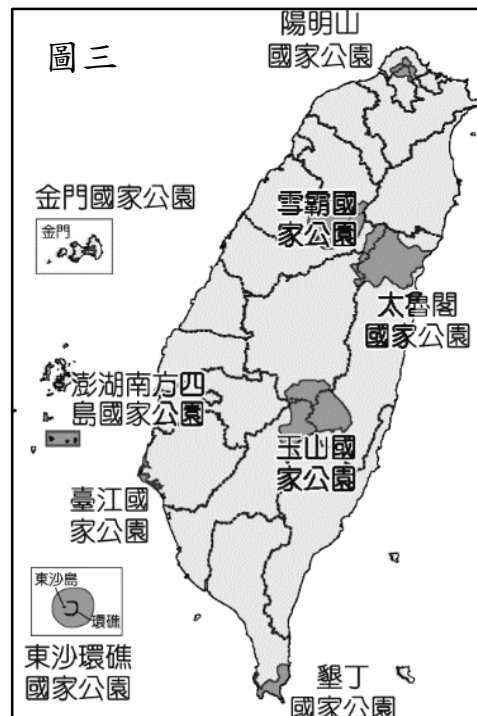
(A) SDG02 確保糧食安全，消除飢餓，促進永續農業  
(B) SDG07 確保人人都能享有可負擔、穩定、永續且現代的能源  
(C) SDG11 建構具包容、安全、韌性及永續特質的城市與鄉村  
(D) SDG14 保育及永續利用海洋生態系，以確保生物多樣性，並防止海洋環境劣化。

17. 圖六是郁翔蒐集到有關離島觀光資源的圖片，圖六四幅圖片中，哪些是可以在澎湖體驗的觀光資源？

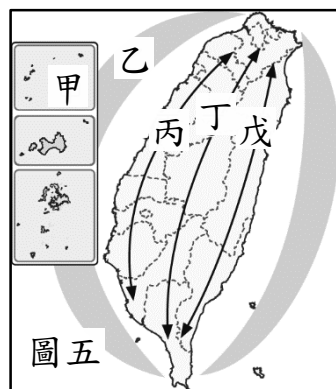
(A) ㄅㄆ (B) ㄅㄆㄇ  
(C) ㄅㄆㄇ (D) ㄅㄆㄇㄇ。



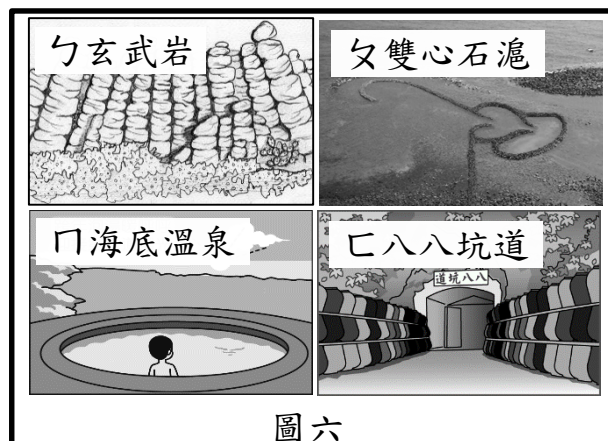
圖二



圖四



圖五



圖六

**地理科試題結束！** 地理科第二頁，共兩頁

解答：1～10 BCDCC DBAAB 11～15 BBDAC DA